





Exercices Autocorrectifs « Je progresse »

1

Nombres et Calculs CM2 – corrigés

Nombre de réussites	16	De 12 à 15	De 5 à 11	< 5
Code de validation				

JE PROGRESSE	COMPÉTENCE	CODE
F6	Je repère et je place des fractions décimales sur une ligne graduée.	

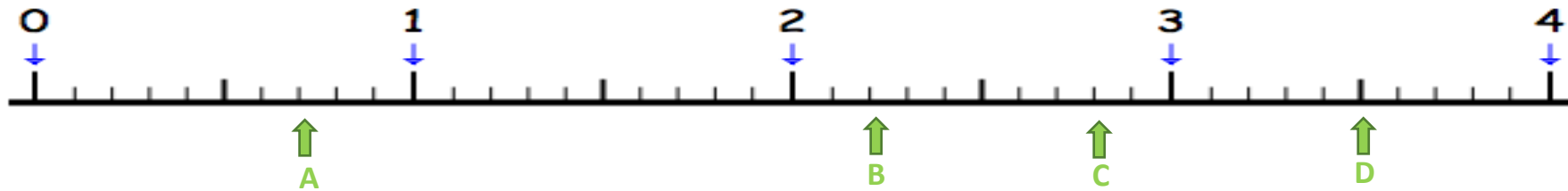
Exercice 1 : Place les lettres A, B, C et D qui correspondent aux nombres suivants.

A : $\frac{7}{10}$

B : $2 + \frac{2}{10}$

C : $\frac{28}{10}$

D : $\frac{35}{10}$



Exercice 2 : Retrouve sur la ligne graduée, les nombres qui permettent de repérer :

E : $\frac{6}{10}$

F : $\frac{20}{10}$ ou 2

G : $\frac{32}{10}$ ou $3 + \frac{2}{10}$

H : $\frac{47}{10}$ ou $4 + \frac{7}{10}$



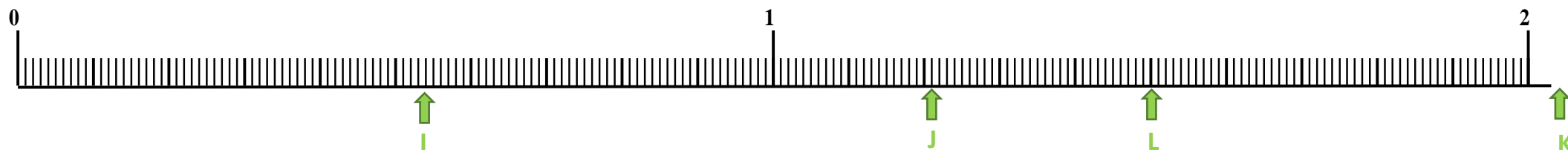
Exercice 3 : Place les lettres I, J, K et L qui correspondent aux nombres suivants.

$$I : \frac{54}{100}$$

$$J : 1 + \frac{21}{100}$$

$$K : \frac{208}{100}$$

$$L : 1 + \frac{5}{10}$$



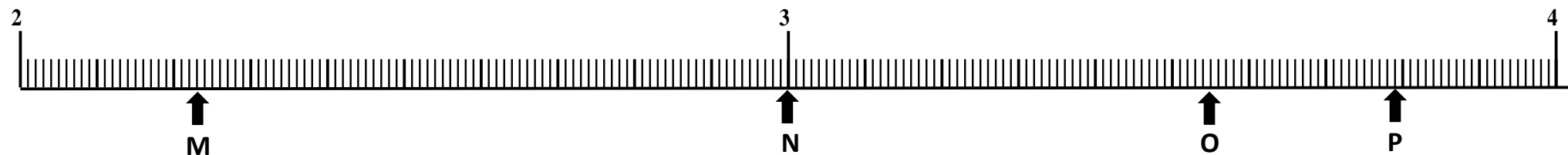
Exercice 4 : Retrouve sur la ligne graduée, les nombres qui permettent de repérer :

$$M : \frac{223}{100}$$

$$N : \frac{30}{10}$$

$$O : \frac{355}{100}$$





$$P : 3 + \frac{79}{100}$$



Exercices Autocorrectifs « Je progresse »

2

Nombres et Calculs CM2 – corrigés

Nombre de réussites	16	De 12 à 15	De 5 à 11	< 5
Code de validation				

JE PROGRESSE	COMPÉTENCE	CODE
F6	Je repère et je place des fractions décimales sur une ligne graduée.	

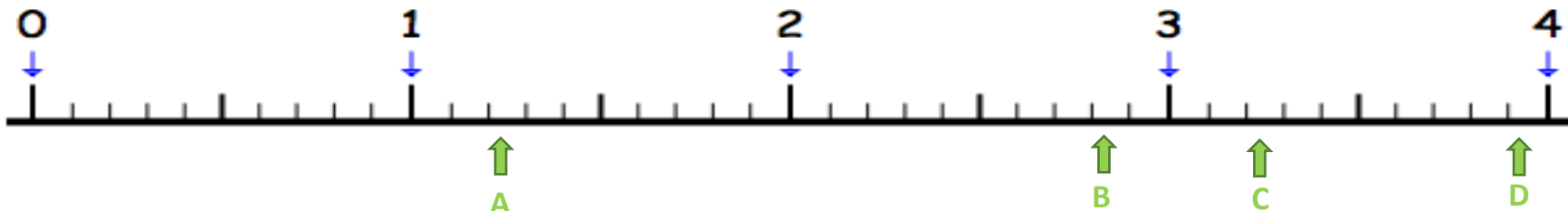
Exercice 1 : Place les lettres A, B, C et D qui correspondent aux nombres suivants.

A : $\frac{12}{10}$

B : $2 + \frac{8}{10}$

C : $3 + \frac{2}{10}$

D : $3 + \frac{9}{10}$



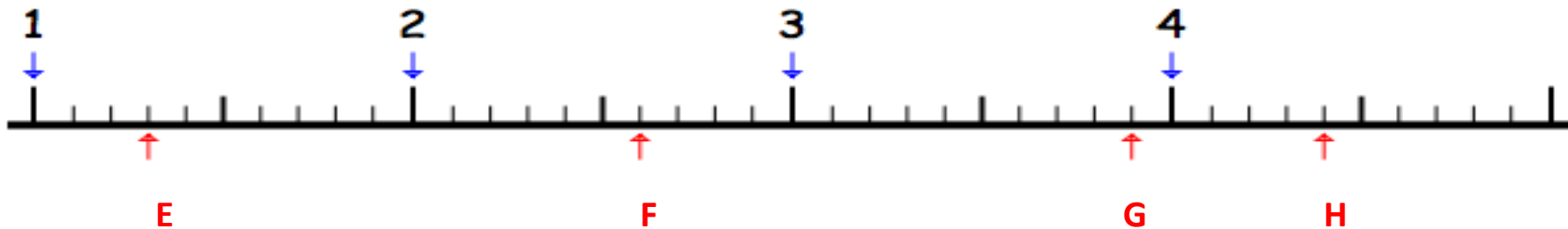
Exercice 2 : Retrouve sur la ligne graduée, les nombres qui permettent de repérer :

E : $\frac{13}{10}$ ou $1 + \frac{3}{10}$

F : $\frac{26}{10}$ ou $2 + \frac{6}{10}$

G : $\frac{39}{10}$ ou $3 + \frac{9}{10}$

H : $\frac{44}{10}$ ou $4 + \frac{4}{10}$



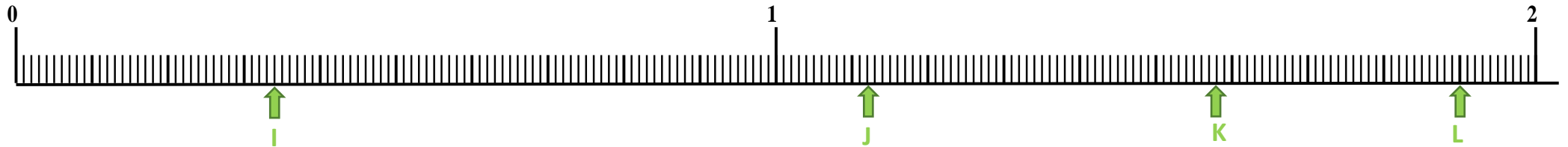
Exercice 3 : Place les lettres I, J, K et L qui correspondent aux nombres suivants.

$$I : \frac{34}{100}$$

$$J : 1 + \frac{12}{100}$$

$$K : \frac{158}{100}$$

$$L : 1 + \frac{9}{10}$$



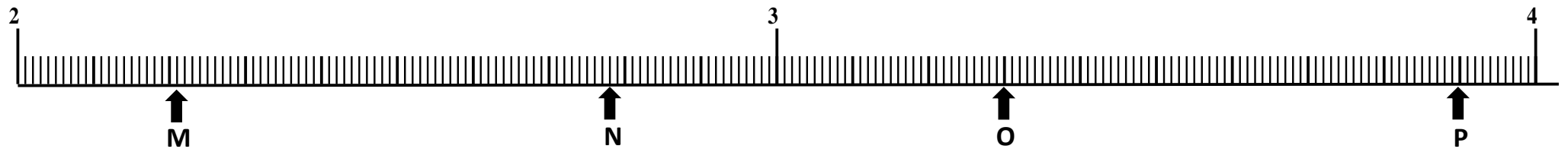
Exercice 4 : Retrouve sur la ligne graduée, les nombres qui permettent de repérer :

$$M : \frac{221}{100}$$

$$N : \frac{278}{100}$$

$$O : \frac{33}{10}$$

$$P : 3 + \frac{9}{10}$$



Exercices « EVALUATION »

E

Nombres et Calculs CM2 - corrigés

Nombre de réussites	16	De 12 à 15	De 5 à 11	< 5
Code de validation	●	●	●	●

JE M'ÉVALUE	COMPÉTENCE	CODE
F6	Je repère et je place des fractions décimales sur une ligne graduée.	

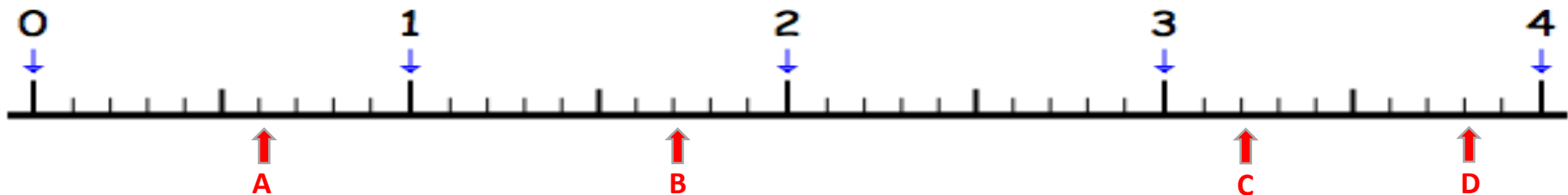
Exercice 1 : Place les lettres A, B, C et D qui correspondent aux nombres suivants.

A : $\frac{6}{10}$

B : $\frac{17}{10}$

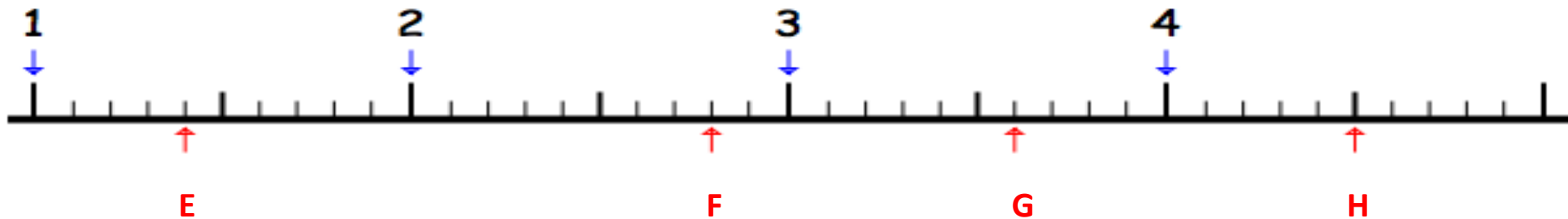
C : $3 + \frac{2}{10}$

D : $\frac{38}{10}$



Exercice 2 : Retrouve sur la ligne graduée, les nombres qui permettent de repérer :

E : $\frac{14}{10}$ F : $\frac{28}{10}$ ou $2 + \frac{8}{10}$ G : $\frac{36}{10}$ ou $3 + \frac{6}{10}$ H : $\frac{45}{10}$ ou $4 + \frac{5}{10}$



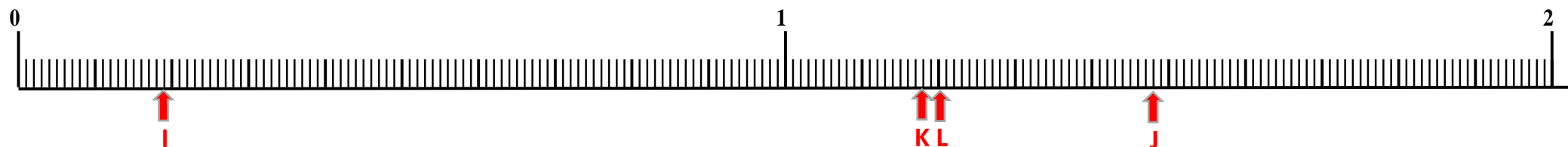
Exercice 3 : Place les lettres I, J, K et L qui correspondent aux nombres suivants.

$$I : \frac{19}{100}$$

$$J : 1 + \frac{48}{100}$$

$$K : \frac{118}{100}$$

$$L : 1 + \frac{2}{10}$$



Exercice 4 : Retrouve sur la ligne graduée, les nombres qui permettent de repérer :

$$M : \frac{206}{100}$$

$$N : \frac{27}{10}$$

$$O : \frac{326}{100}$$

$$P : 3 + \frac{3}{100}$$

