

Nom – Prénom : _____

Calculs CM2 - « Je m'entraîne »

JE M'ENTRAINE	COMPÉTENCE	CODE
C1	Je prélève des données numériques à partir de supports variés.	

Exercice 1 : Lis bien le tableau puis réponds aux questions suivantes.

Emploi du temps de la classe de 6^{ème} A

	LUNDI	MARDI	MERCREDI	JEUDI	VENDREDI
8h	Accompagnement travail personnel s.32	Sciences de la vie et la Terre s.17	Technologie s.12	Français s.22	Anglais s.20
9h	Histoire et géographie s.32				Français s.22
10h	Éducation physique et sportive	Mathématiques s.25	Histoire et géographie s.32	Éducation physique et sportive	Mathématiques s.23
11h		Anglais s.24			Éducation musicale
12h					
13h30	Mathématiques s.23	Arts plastiques		Mathématiques s.25	Accompagnement travail personnel s.22
14h30	Anglais s.24	Français s.22		Anglais s.20	Histoire et géographie s.32
15h30	Français s.22				CDI Informatique

a) Quelle matière étudie-t-on le jeudi à 13H30 ? Dans quelle salle ?

b) Quel jour et à quelle heure y a-t-il cours de musique ?

c) Combien de temps dure le cours de français du jeudi ?

d) Quel cours a lieu en salle 17 ?

e) Y a-t-il des cours d'éducation physique et sportive l'après-midi ?

Exercice 2 : Lis attentivement les horaires de trains Genève-Annecy, puis réponds aux questions.

(A) Arrivée (D) départ

<i>Train</i>	<i>F3</i>	<i>G9</i>	<i>A5</i>
Genève-Eaux-Vives	07:32	08:02	20:03
Annemasse (A)	07:43	08:13	20:19
Annemasse (D)	08:02	08:18	20:20
Reignier	08:28
La Roche-sur-Foron (A)	08:18	08:36	20:49
La Roche-sur-Foron (D)	08:25	08:43	20:50
Groisy-Thorens-la-Caille	08:43	09:03
St-Martin-Bellevue	09:14
Pringy	09:20
Annecy	08:52	09:25	21:22

a) Quel train s'arrête à Reignier ? A quelle heure arrive-t-il à Annecy ?





b) Combien de fois le train de 20h03 s'arrête-t-il entre Genève-Eaux-Vives et Annecy ?

c) Pauline habite Genève. A quelle heure est-elle partie de Genève-Eaux-Vives pour arriver à Annecy à 9h25 ?

d) Antoine habite Annemasse. A quelle heure doit-il prendre le train pour arriver à Annecy avant 9h00 ?

Nom – Prénom : _____

Calculs CM2 - « Je m'entraîne » - *Corrigés*

Nombre de réussites	9	De 7 à 8	De 3 à 6	< 3
Code de validation				

JE M'ENTRAÎNE	COMPÉTENCE	CODE
C1	Je prélève des données numériques à partir de supports variés.	

Exercice 1 : Lis bien le tableau puis réponds aux questions suivantes.

Emploi du temps de la classe de 6^{ème} A

	LUNDI	MARDI	MERCREDI	JEUDI	VENDREDI
8h	Accompagnement travail personnel <i>s.32</i>	Sciences de la vie et la Terre <i>s.17</i>	Technologie <i>s.12</i>	Français	Anglais
9h	Histoire et géographie <i>s.32</i>			<i>s.22</i>	Français
10h	Éducation physique et sportive	Mathématiques <i>s.25</i>	Histoire et géographie <i>s.32</i>	Éducation physique et sportive	Mathématiques
11h		Anglais <i>s.24</i>			Éducation musicale
12h					
13h30	Mathématiques <i>s.23</i>	Arts plastiques		Mathématiques <i>s.25</i>	Accompagnement travail personnel <i>s.22</i>
14h30	Anglais <i>s.24</i>	Français <i>s.22</i>		Anglais <i>s.20</i>	Histoire et géographie <i>s.32</i>
15h30	Français <i>s.22</i>				CDI Informatique

- Quelle matière étudie-t-on le jeudi à 13H30 ? Dans quelle salle ?
Mathématiques / salle 25
- Quel jour et à quelle heure y a-t-il cours de musique ? **vendredi à 11h**
- Combien de temps dure le cours de français du jeudi ? **2h**
- Quel cours a lieu en salle 17 ? **Sciences de la vie et la Terre**
- Y a-t-il des cours d'éducation physique et sportive l'après-midi ? **Non**

Exercice 2 : Lis attentivement les horaires de trains Genève-Annecy, puis réponds aux questions.

(A) Arrivée (D) départ

<i>Train</i>	<i>F3</i>	<i>G9</i>	<i>A5</i>
Genève-Eaux-Vives	07:32	08:02	20:03
Annemasse (A)	07:43	08:13	20:19
Annemasse (D)	08:02	08:18	20:20
Reignier	08:28
La Roche-sur-Foron (A)	08:18	08:36	20:49
La Roche-sur-Foron (D)	08:25	08:43	20:50
Groisy-Thorens-la-Caille	08:43	09:03
St-Martin-Bellevue	09:14
Pringy	09:20
Annecy	08:52	09:25	21:22

a) Quel train s'arrête à Reignier ? A quelle heure arrive-t-il à Annecy ?

G9 / 9h25

b) Combien de fois le train de 20h03 s'arrête-t-il entre Genève-Eaux-Vives et Annecy ? **4**

c) Pauline habite Genève. A quelle heure est-elle partie de Genève-Eaux-Vives pour arriver à Annecy à 9h25 ? **8h02**

d) Antoine habite Annemasse. A quelle heure doit-il prendre le train pour arriver à Annecy avant 9h00 ? **7h43**