

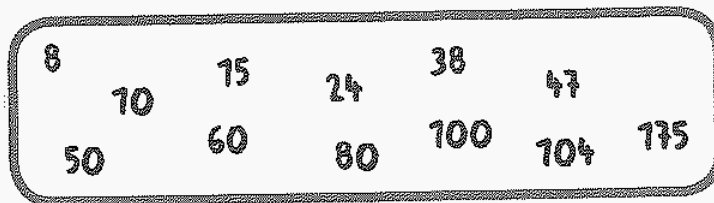
Nom – Prénom : _____

MATHÉMATIQUES

Calculs CM1 - « Je m'entraîne »

JE M'ENTRAINE	COMPÉTENCE	CODE
CL2	Je reconnais les multiples et les diviseurs d'un nombre.	

Exercice 1 : Parmi ces nombres, lesquels sont ?



- a. Multiples de 2 ? _____
- b. Multiples de 5 ? _____
- c. Multiples de 10 ? _____
- d. Multiples de 4 ? _____

Exercice 2 : Parmi les nombres de 20 à 50, lesquels sont multiples ?

- a. De 2 ? _____
- b. De 5 ? _____
- c. De 10 ? _____
- d. De 4 ? _____





Exercice 3 : Comment reconnais-tu facilement si un nombre est multiple :

- a. De 2 ? _____
- b. De 5 ? _____
- c. De 10 ? _____

Nom – Prénom : _____

MATHÉMATIQUES

Calculs CM1 - « Je m'entraîne » - *Corrigés*

Nombre de réussites	63	De 47 à 62	De 18 à 46	< 18
Code de validation				

JE M'ENTRAÎNE	COMPÉTENCE	CODE
CL2	Je reconnais les multiples et les diviseurs d'un nombre.	

Exercice 1 : Parmi ces nombres, lesquels sont ?

- a. Multiples de 2 ? **8, 10, 24, 38, 50, 60, 80, 100, 104**
- b. Multiples de 5 ? **10, 15, 50, 60, 80, 175**
- c. Multiples de 10 ? **10, 50, 60, 80, 100**
- d. Multiples de 4 ? **8, 24, 60, 80, 100, 104**

Exercice 2 : Parmi les nombres de 20 à 50, lesquels sont multiples ?

- a. De 2 ? **20, 22, 24, 26, 28, 30, 32, 34, 36, 38, 40, 42, 44, 46, 48, 50**
- b. De 5 ? **20, 25, 30, 35, 40, 45, 50**
- c. De 10 ? **20, 30, 40, 50**
- d. De 4 ? **20, 24, 28, 32, 36, 40, 44, 48**

Exercice 3 : Comment reconnais-tu facilement si un nombre est multiple :

- a. De 2 ? **nombres pairs**
- b. De 5 ? **Nombres ayant 0 ou 5 comme chiffre des unités**
- c. De 10 ? **Nombres ayant 0 comme chiffre des unités**