

Nom – Prénom : _____

MATHÉMATIQUES

Nombres et Calculs CM2 - « Je m'entraîne »

JE M'ENTRAÎNE	COMPÉTENCE	CODE
CP1	Je maîtrise la technique de l'addition posée.	

Exercice 1 : Calcule avec la méthode de ton choix.

a. $4\,250 + 50 + 3\,200 =$ _____

b. $8\,658 + 986 =$ _____

c. $47\,805 + 8\,975 + 589 =$ _____

Exercice 2 : Recopie et complète cette addi-grille.

Chaque flèche pointe vers la somme des nombres de la ligne ou de la colonne.





Tu dois trouver le même résultat dans les deux cases orange.

	2 085			▶	30 990
	25 560	8 732	12 608	▶	
	786	3 025		▶	9 000
	▼	▼	▼		▼
◀		20 060			

Nom - Prénom : _____

MATHÉMATIQUES

Nombres et Calculs CM2 - « Je m'entraîne » **CORRIGÉS**

Nombre de réussites	11	De 8 à 10	De 3 à 7	< 3
Code de validation				

JE M'ENTRAINE	COMPÉTENCE	CODE
CP1	Je maîtrise la technique de l'addition posée.	

Exercice 1 : Calcule avec la méthode de ton choix.

- a. $4\,250 + 50 + 3\,200 = 7\,500$
- b. $8\,658 + 986 = 9\,644$
- c. $47\,805 + 8\,975 + 589 = 57\,369$

Exercice 2 : Recopie et complète cette addi-grille.

Chaque flèche pointe vers la somme des nombres de la ligne ou de la colonne.

Tu dois trouver le même résultat dans les deux cases orange.

	2 085	8 303	20 602	▶	30 990
	25 560	8 732	12 608	▶	46 900
	786	3 025	5 189	▶	9 000
	▼	▼	▼		▼
86 890	◀	28 431	20 060	38 399	86 890