

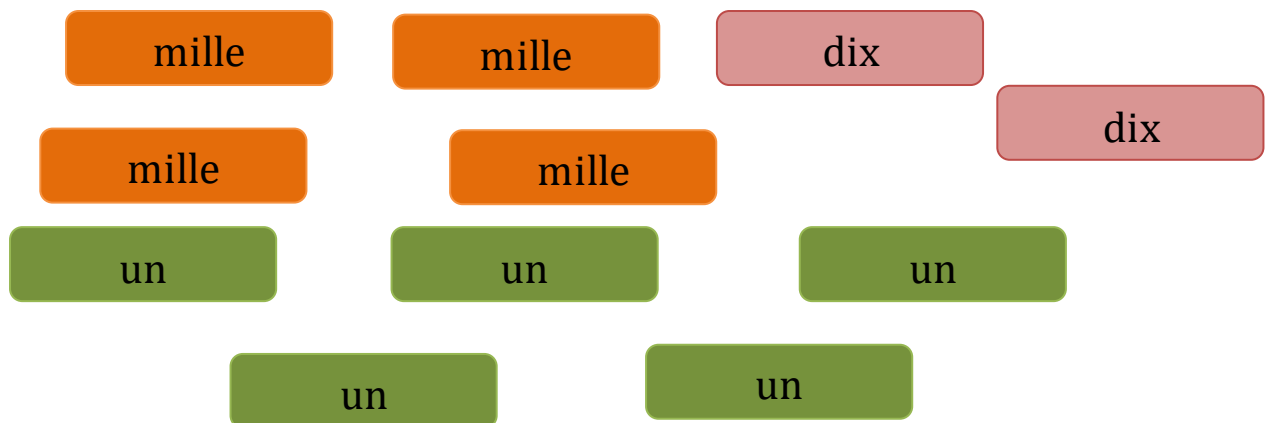
Nom – Prénom : _____

MATHÉMATIQUES

Calculs CM1 - « Je m'entraîne »

JE M'ENTRAINE	COMPÉTENCE	CODE
CP6	Je maîtrise la technique de la division posée à 1 chiffre.	

Exercice 1 : Trois joueurs se partagent équitablement les points qu'ils ont gagnés. Quelle sera la part de chacun ?







Exercice 2 : Utilise la méthode de la puissance pour calculer le quotient et le reste de :

- a. 635 divisé par 5 : q..... r..... c. 1 257 divisé par 5 : q..... r.....
b. 814 divisé par 6 : q..... r..... g. 814 divisé par 9 : q..... r.....

Nom – Prénom : _____

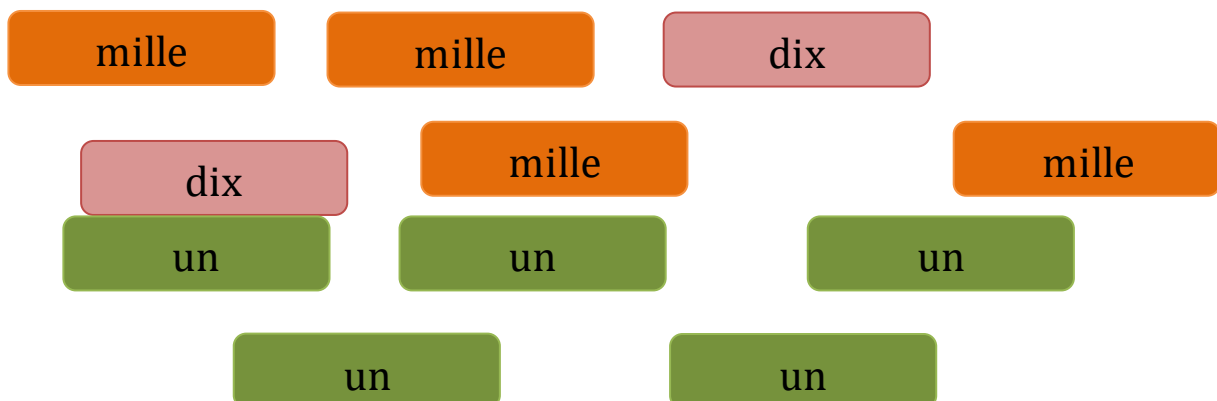
MATHÉMATIQUES

Calculs CM1 - « Je m'entraîne » - *Corrigés*

Nombre de réussites	5	De 3 à 4	De 1 à 2	< 1
Code de validation				

JE M'ENTRAÎNE	COMPÉTENCE	CODE
CP6	Je maîtrise la technique de la division posée à 1 chiffre.	

Exercice 1 : Trois joueurs se partagent équitablement les points qu'ils ont gagnés. Quelle sera la part de chacun ?



Chacun aura 1341 points.

Exercice 2 : Utilise la méthode de la puissance pour calculer le quotient et le reste de :

a. 635 divisé par 5 : q 127 r 0

c. 1 257 divisé par 5 : q 251 r 2

b. 814 divisé par 6 : q 135 r 4

g. 814 divisé par 9 : q 90 r 4