

Nom – Prénom : _____

MATHÉMATIQUES

Calculs CM2 - « Je m'entraîne »

JE M'ENTRAINE	COMPÉTENCE	CODE
CP6	Je maîtrise la technique de la division posée à 2 chiffres.	

Exercice 1 : Pose et calcule chaque division en t'aidant de ces trois produits.

$$\begin{array}{r} 35 \\ \times 8 \\ \hline 280 \end{array} \quad \begin{array}{r} 35 \\ \times 7 \\ \hline 245 \end{array} \quad \begin{array}{r} 35 \\ \times 5 \\ \hline 175 \end{array}$$

a. 2 034 divisé par 35 : q r

b. 24 580 divisé par 35 : q r

Exercice 2 : Pose et calcule chaque division.





a. 756 divisé par 15 : q..... r..... c. 7 038 divisé par 23 : q..... r.....

b. 1 543 divisé par 12 : q..... r..... g. 1 106 divisé par 45 : q..... r.....

Nom – Prénom : _____

MATHÉMATIQUES

Calculs CM2 - « Je m'entraîne » - CORRIGES

Nombre de réussites	6	De 4 à 5	De 2 à 3	< 2
Code de validation				

JE M'ENTRAINE	COMPÉTENCE	CODE
CP6	Je maîtrise la technique de la division posée à 2 chiffres.	

Exercice 1 : Pose et calcule chaque division en t'aidant de ces trois produits.

$$\begin{array}{r} 35 \\ \times 8 \\ \hline 280 \end{array}$$
$$\begin{array}{r} 35 \\ \times 7 \\ \hline 245 \end{array}$$
$$\begin{array}{r} 35 \\ \times 5 \\ \hline 175 \end{array}$$

a. 2 034 divisé par 35 : q 58 r 4

b. 24 580 divisé par 35 : q 702 r 10

Exercice 2 : Pose et calcule chaque division.

a. 756 divisé par 15 : q 50 r 6 c. 7 038 divisé par 23 : q 306 r 0

b. 1 543 divisé par 12 : q 128 r 7 g. 1 106 divisé par 45 : q 24 r 26