

Nom – Prénom : _____

MATHÉMATIQUES

Calculs CM2 - « Je m'entraîne »

JE M'ENTRAÎNE	COMPÉTENCE	CODE
CP8	Je calcule le quotient décimal de deux nombres entiers.	

Exercice 1 : Calcule mentalement le quotient décimal ou entier des opérations suivantes.

- a. 12 divisé par 4 :
- b. 5 divisé par 2 :
- c. 18 divisé par 4 :
- d. 18 divisé par 5 :

Exercice 2 : Calcule le quotient décimal exact ou approché arrondi au centième près.

a.
$$\begin{array}{r} 508 \overline{) 8} \\ \hline \end{array}$$

b.
$$\begin{array}{r} 275 \overline{) 16} \\ \hline \end{array}$$

Exercice 3 : Une agence de voyage propose un séjour au Kenya à 2 258 €. Ce prix comprend le vol en avion aller-retour et 8 nuits d'hôtel. Le tarif du billet d'avion est de 726 € pour un aller et autant pour le retour.





Quel est le prix d'une nuit d'hôtel ?

Phrase réponse :

Nom – Prénom : _____

MATHÉMATIQUES

Calculs CM2 - « Je m'entraîne » CORRIGÉS

Nombre de réussites	11	De 8 à 10	De 4 à 7	< 4
Code de validation				

JE M'ENTRAÎNE	COMPÉTENCE	CODE
CP8	Je calcule le quotient décimal de deux nombres entiers.	

Exercice 1 : Calcule mentalement le quotient décimal ou entier des opérations suivantes.

- a. 12 divisé par 4 : 3
- b. 5 divisé par 2 : 2,5
- c. 18 divisé par 4 : 4,5
- d. 18 divisé par 5 : 3,6
- e.

Exercice 2 : Calcule le quotient décimal exact ou approché arrondi au centième près. (un point par calcul, un point par résultat)

$$\begin{array}{r} \text{b. } 508 \quad | \quad 8 \\ \hline 63,5 \end{array}$$

$$\begin{array}{r} \text{b. } 275 \quad | \quad 16 \\ \hline 17,19 \end{array}$$

Exercice 3 : Une agence de voyage propose un séjour au Kenya à 2 258 €. Ce prix comprend le vol en avion aller-retour et 8 nuits d'hôtel. Le tarif du billet d'avion est de 726 € pour un aller et autant pour le retour.

Quel est le prix d'une nuit d'hôtel ? 100, 75 € (un point pour le calcul, un point le résultat, un point pour la phrase réponse)