

Nom – Prénom : \_\_\_\_\_

# MATHÉMATIQUES

## Grandeurs et mesures CM2 - « Je m'entraîne »

JE M'ENTRAÎNE	COMPÉTENCE	CODE
GM4	Je calcule des durées.	

**Exercice 1 : Complète le tableau en calculant la durée du voyage en bus pour chaque destination.**

Ligne	Départ	Arrivée	Durée
Bordeaux -> Madrid	6h30	15h51	
Paris -> Copenhague	8h00	23h30	
Paris -> Berlin	10h30	21h59*	

\*Heure de Paris.

**Exercice 2 : Réponds aux questions ci-dessous.**

a. *La traversée de Marseille à Tunis dure 23 heures. Un bateau part de Marseille le mercredi 3 mai à 13h 30.*

**Quel jour et à quelle heure arrive-t-il à Tunis ?**

.....

.....

b. *Un bateau de croisière part d'Alexandrie, en Egypte, le vendredi 11 mai à 22h15 et arrive à Athènes, en Grèce, le dimanche 13 mai à 6h40.*

**Combien de temps dure le voyage ?**





.....

.....

Nom – Prénom : \_\_\_\_\_

# MATHÉMATIQUES

## Grandeurs et mesures CM2 - « Je m'entraîne » **Corrigés**

Nombre de réussites	5	4	3 ou 2	1 ou 0
Code de validation				

JE M'ENTRAINE	COMPÉTENCE	CODE
GM4	Je calcule des durées.	

**Exercice 1 : Complète le tableau en calculant la durée du voyage en bus pour chaque destination.**

Ligne	Départ	Arrivée	Durée
Bordeaux -> Madrid	6 h 30	15h51	<b>9h21</b>
Paris -> Copenhague	8h00	23h30	<b>15h30</b>
Paris -> Berlin	10h30	21h59*	<b>11h29</b>

\*Heure de Paris.

**Exercice 2 : Réponds aux questions ci-dessous.**

a. La traversée de Marseille à Tunis dure 23 heures. Un bateau part de Marseille le mercredi 3 mai à 13h 30.

**Quel jour et à quelle heure arrive-t-il à Tunis ?**

**Jeudi 4 mai à 12h30**

b. Un bateau de croisière part d'Alexandrie, en Egypte, le vendredi 11 mai à 22h15 et arrive à Athènes, en Grèce, le dimanche 13 mai à 6h40.

**Combien de temps dure le voyage ?**

**1j8h25min ou 32h25min**