

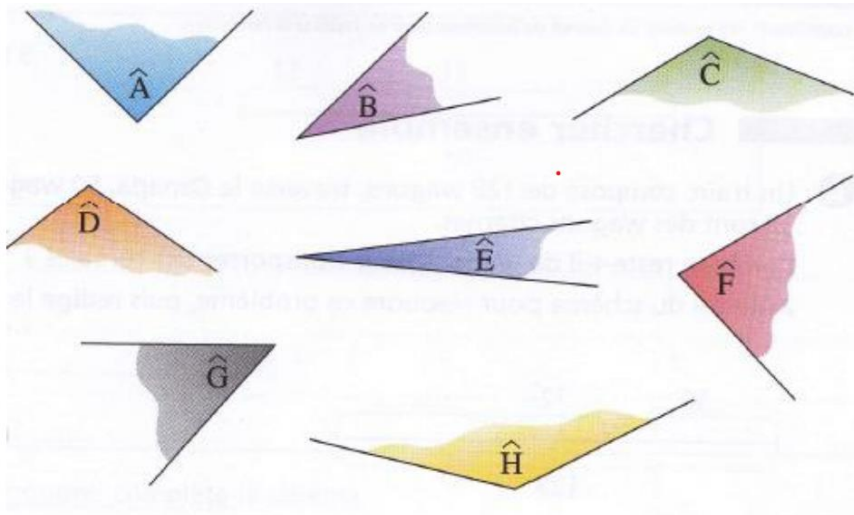
Nom – Prénom : _____

MATHÉMATIQUES

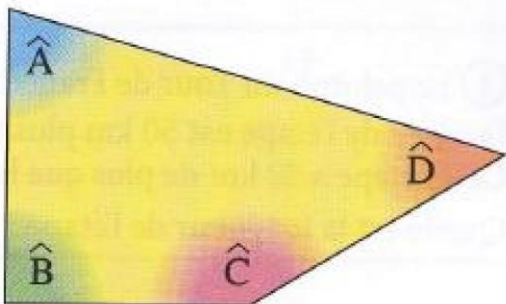
Grandeurs et Mesures CM1 - « Je m'entraîne »

JE M'ENTRAINE	COMPÉTENCE	CODE
GM5	Je repère et compare des angles. J'estime et vérifie qu'un angle est droit, aigu ou obtus.	

Exercice 1 : Range ces angles du plus petit au plus grand.



Exercice 2 : Observe ce quadrilatère et complète.



- Angles aigus : _____

- Angles obtus : _____

- Angles droits : _____

Nom – Prénom : _____

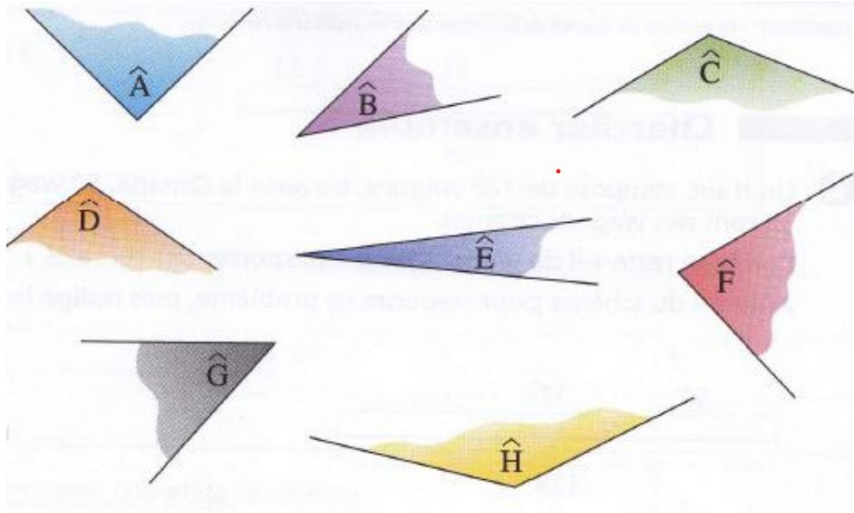
MATHÉMATIQUES

Grandeurs et mesures CM1 - « Je m'entraîne » **CORRIGÉS**

Nombre de réussites	12	De 9 à 11	De 4 à 8	< 4
Code de validation	●	●	●	●

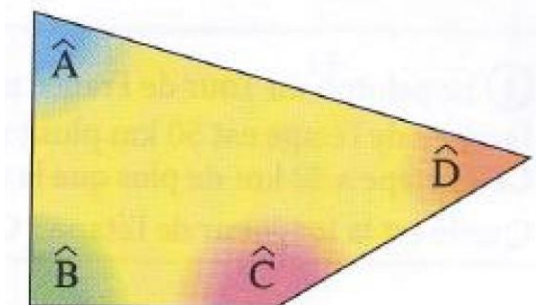
JE M'ENTRAINE	COMPÉTENCE	CODE
GM5	Je repère et compare des angles. J'estime et vérifie qu'un angle est droit, aigu ou obtus.	

Exercice 1 : Range ces angles du plus petit au plus grand.



Ê - B - G - F - A - D - C - H

Exercice 2 : Observe ce quadrilatère et complète.



- Angles aigus : **A - D**
- Angles obtus : **C**
- Angles droits : **B**