

Exercices Autocorrectifs « Je progresse »

Nombres et calculs – CM1

JE PROGRESSE	COMPÉTENCE	CODE
F6	Je repère et je place des fractions décimales sur une ligne graduée.	

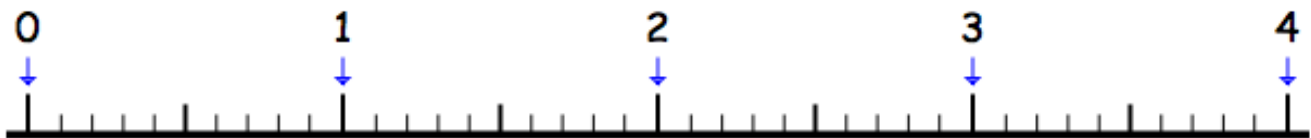
Exercice 1 : Place les lettres A, B, C et D qui correspondent aux nombres suivants.

A : $\frac{7}{10}$

B : $2 + \frac{2}{10}$

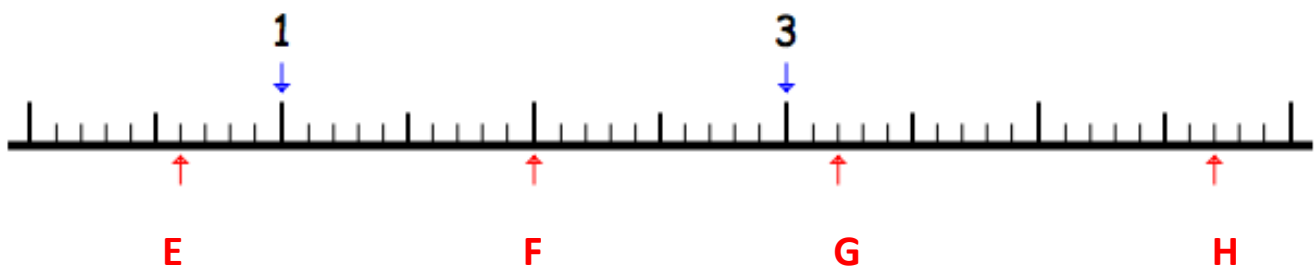
C : $\frac{28}{10}$

D : $\frac{35}{10}$



Exercice 2 : Retrouve sur la ligne graduée, les nombres qui permettent de repérer :

E : _____ F : _____ G : _____ H : _____



Exercices Autocorrectifs « Je progresse »

Nombres et Calculs – CM1

JE PROGRESSE	COMPÉTENCE	CODE
F6	Je repère et je place des fractions décimales sur une ligne graduée.	

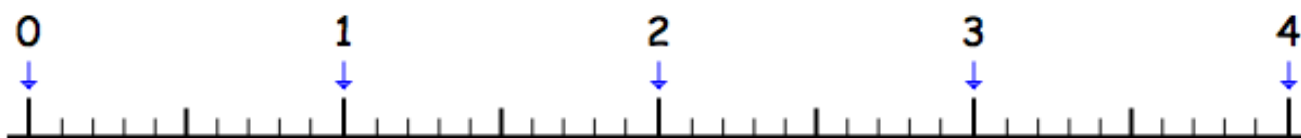
Exercice 1 : Place les lettres A, B, C et D qui correspondent aux nombres suivants.

A : $\frac{12}{10}$

B : $2 + \frac{8}{10}$

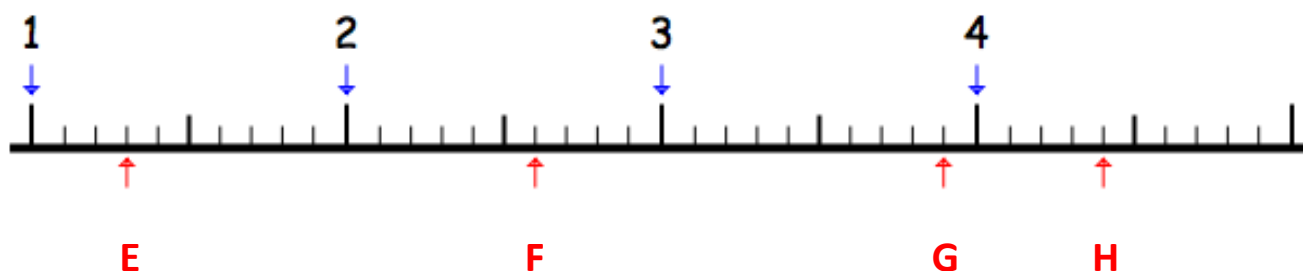
C : $3 + \frac{2}{10}$

D : $3 + \frac{9}{10}$



Exercice 2 : Retrouve sur la ligne graduée, les nombres qui permettent de repérer :

E : _____ F : _____ G : _____ H : _____



Exercices « EVALUATION »

Nombres et Calculs – CM1

JE M'EVALUE	COMPÉTENCE	CODE
F6	Je repère et je place des fractions décimales sur une ligne graduée.	

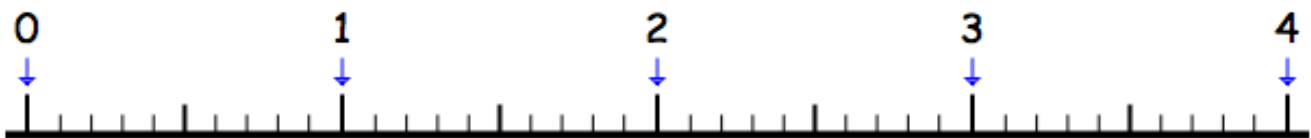
Exercice 1 : Place les lettres A, B, C et D qui correspondent aux nombres suivants.

A : $\frac{6}{10}$

B : $\frac{17}{10}$

C : $3 + \frac{2}{10}$

D : $\frac{38}{10}$



Exercice 2 : Retrouve sur la ligne graduée, les nombres qui permettent de repérer :

E : _____ F : _____ G : _____ H : _____

