





Exercices Autocorrectifs « Je progresse »

1

Nombres et calculs CM1 - corrigés

| | | | | |
|---------------------|---|---|---|---|
| Nombre de réussites | 8 | 6 ou 7 | De 3 à 5 | < 3 |
| Code de validation |  |  |  |  |

| JE PROGRESSE | COMPÉTENCE | CODE |
|--------------|--|------|
| F6 | Je repère et je place des fractions décimales sur une ligne graduée. | |

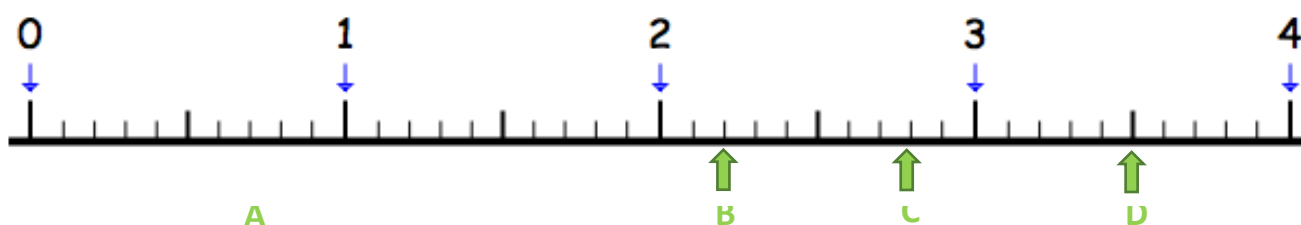
Exercice 1 : Place les lettres A, B, C et D qui correspondent aux nombres suivants.

A : $\frac{7}{10}$

B : $2 + \frac{2}{10}$

C : $\frac{28}{10}$

D : $\frac{35}{10}$



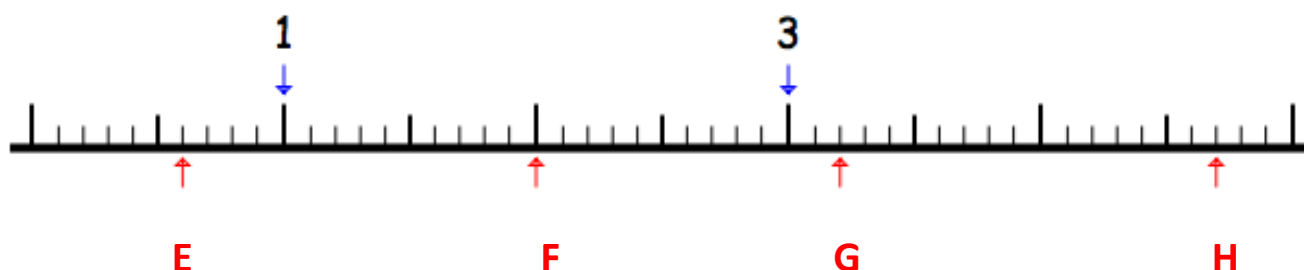
Exercice 2 : Retrouve sur la ligne graduée, les nombres qui permettent de repérer :

E : $\frac{6}{10}$





F : $\frac{20}{10}$ ou 2

G : $\frac{32}{10}$ ou $3 + \frac{2}{10}$

H : $\frac{47}{10}$ ou $4 + \frac{7}{10}$



Nombres et calculs CM1 – corrigés

| | | | | |
|---------------------|---|---|---|---|
| Nombre de réussites | 8 | 6 ou 7 | De 3 à 5 | < 3 |
| Code de validation |  |  |  |  |

| JE PROGRESSE | COMPÉTENCE | CODE |
|--------------|--|------|
| F6 | Je repère et je place des fractions décimales sur une ligne graduée. | |

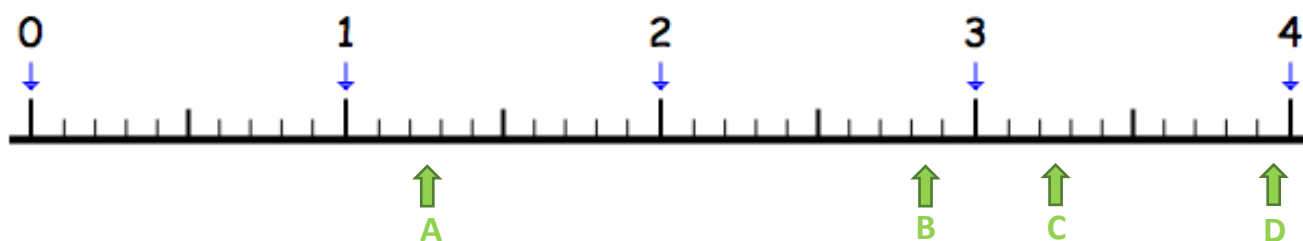
Exercice 1 : Place les lettres A, B, C et D qui correspondent aux nombres suivants.

A : $\frac{12}{10}$

B : $2 + \frac{8}{10}$

C : $3 + \frac{2}{10}$

D : $3 + \frac{9}{10}$



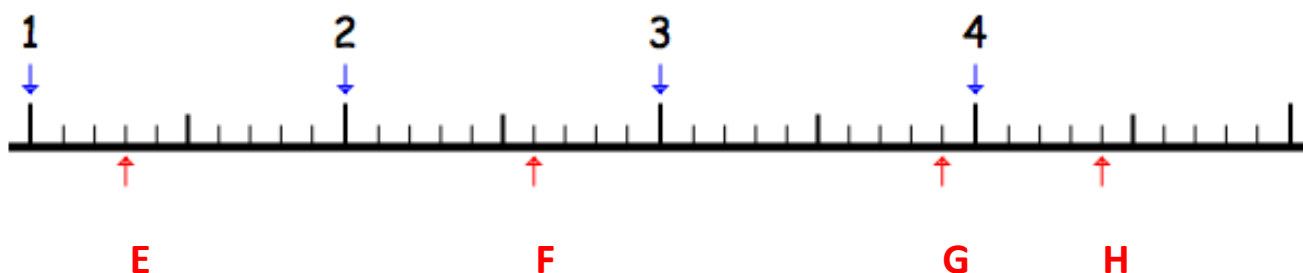
Exercice 2 : Retrouve sur la ligne graduée, les nombres qui permettent de repérer :

E : $\frac{13}{10}$

F : $\frac{26}{10}$ ou $2 + \frac{6}{10}$

G : $\frac{39}{10}$ ou $3 + \frac{9}{10}$





H : $\frac{44}{10}$ ou $4 + \frac{4}{10}$



Exercices « EVALUATION »

E

Nombres et calculs CM1 - corrigés

| | | | | |
|---------------------|---|---|---|---|
| Nombre de réussites | 8 | 6 ou 7 | De 3 à 5 | < 3 |
| Code de validation |  |  |  |  |

| JE M'ÉVALUE | COMPÉTENCE | CODE |
|-------------|--|------|
| F6 | Je repère et je place des fractions décimales sur une ligne graduée. | |

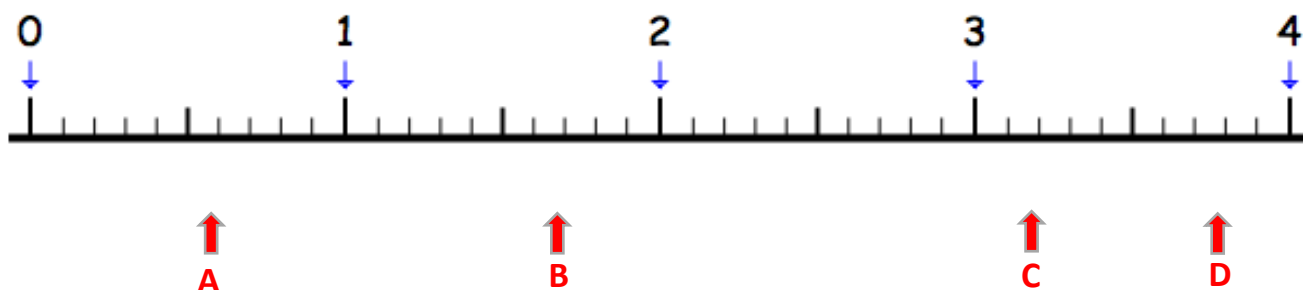
Exercice 1 : Place les lettres A, B, C et D qui correspondent aux nombres suivants.

A : $\frac{6}{10}$

B : $\frac{17}{10}$

C : $3 + \frac{2}{10}$

D : $\frac{38}{10}$



Exercice 2 : Retrouve sur la ligne graduée, les nombres qui permettent de repérer :

E : $\frac{14}{10}$

F : $\frac{28}{10}$ ou $2 + \frac{8}{10}$

G : $\frac{36}{10}$ ou $3 + \frac{6}{10}$

H : $\frac{45}{10}$ ou $4 + \frac{5}{10}$

