


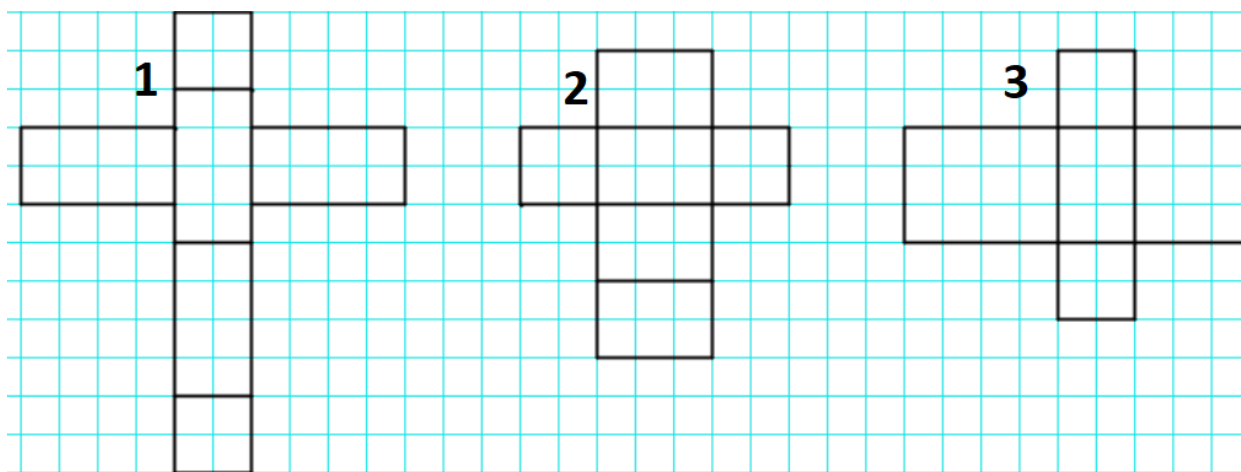
Exercice 1 : Trace le patron d'un pavé droit.

JE PROGRESSE	COMPÉTENCE	CODE
GE12	Je trace des patrons de cubes et de pavés droits.	

- *Au moins une de ses faces doit être un rectangle de longueur 5 carreaux et de largeur 3 carreaux.*
- *Au moins une de ses faces doit être un carré de côté 3 carreaux.*



Exercice 2 : Pour chacun de ces patrons, dit s'il s'agit du patron d'un pavé droit et explique pourquoi.

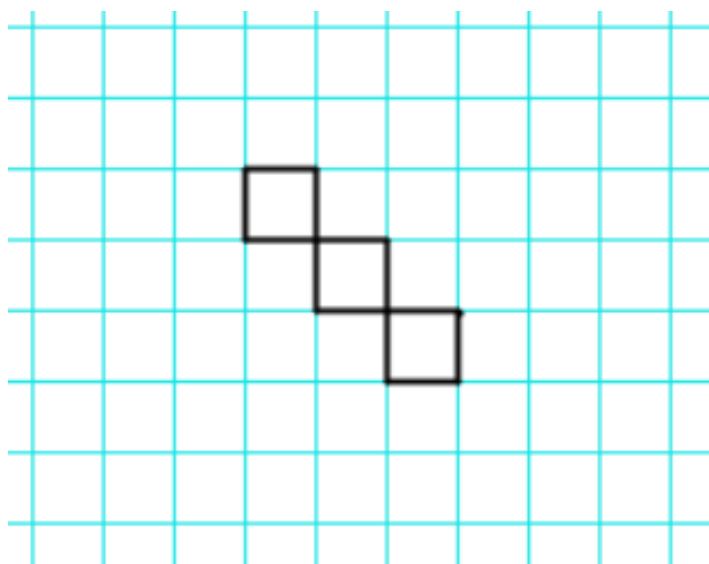


Patron n°1 :

Patron n°2 :

Patron n°3 :


Exercice 3 : Complète le dessin pour que le patron du cube soit juste.



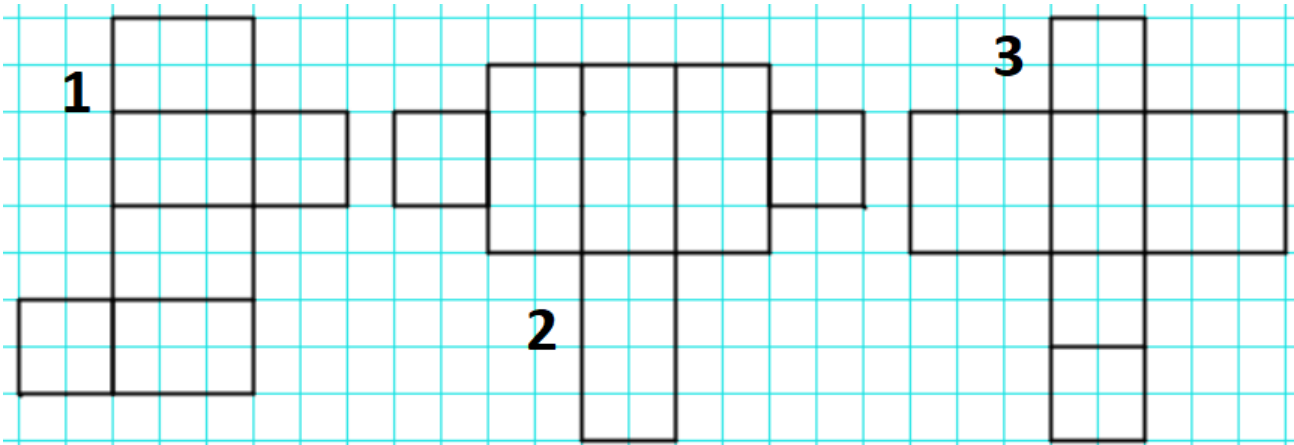
JE PROGRESSE	COMPÉTENCE	CODE
GE12	Je trace des patrons de cubes et de pavés droits.	

Exercice 1 : Trace le patron d'un pavé droit.

- *Au moins une de ses faces doit être un rectangle de longueur 7 carreaux et de largeur 4 carreaux.*
- *Au moins une de ses faces doit être un carré de côté 4 carreaux.*



Exercice 2 : Pour chacun de ces patrons, dit s'il s'agit du patron d'un pavé droit et explique pourquoi.

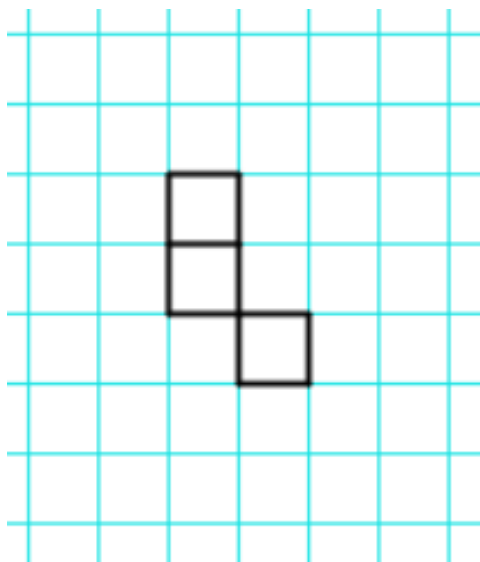


Patron n°1 :

Patron n°2 :

Patron n°3 :

Exercice 3 : Complète le dessin pour que le patron du cube soit juste.

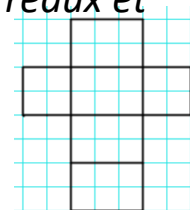


JE M'EVALUE	COMPÉTENCE	CODE
GE12	Je trace des patrons de cubes et de pavés droits.	

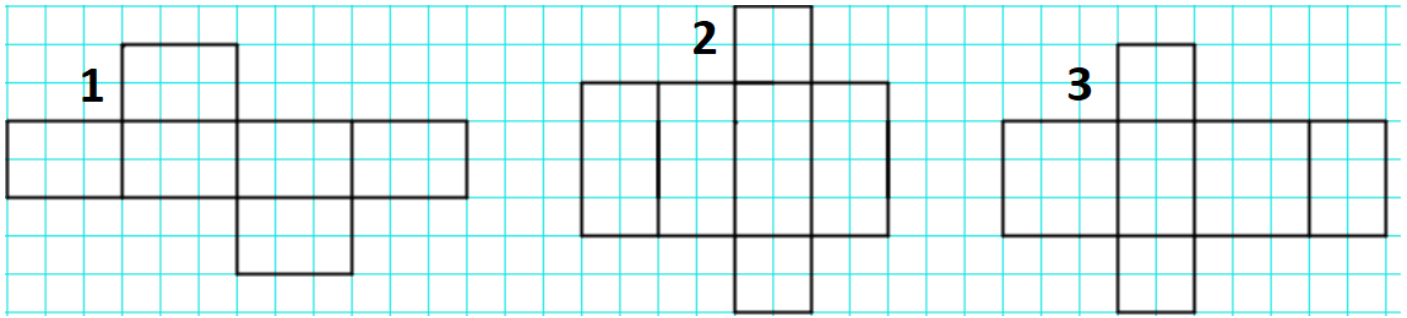
Exercice 1 : Trace le patron d'un pavé droit.

- *Au moins une de ses faces doit être un rectangle de longueur 5 carreaux et de largeur 3 carreaux.*
- *Au moins une de ses faces doit être un carré de côté 5 carreaux.*

Attention, il doit être différent de ce patron =>



Exercice 2 : Pour chacun de ces patrons, dit s'il s'agit du patron d'un pavé droit et explique pourquoi.



Patron n°1 :

Patron n°2 :

Patron n°3 :

Exercice 3 : Complète le dessin pour que le patron du cube soit juste.

