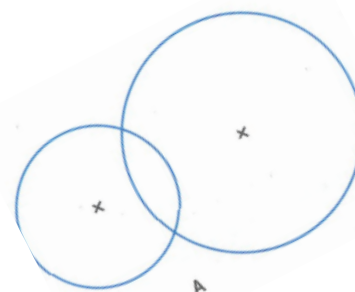

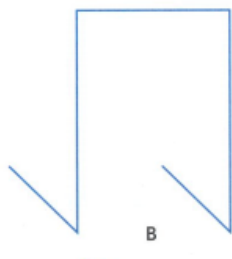

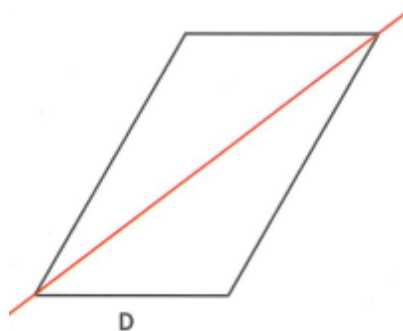
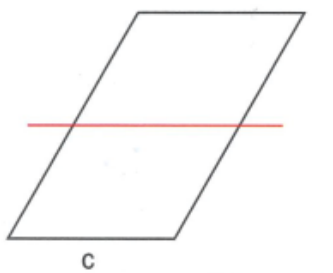


JE PROGRESSE	COMPÉTENCE	CODE
GE9	Je reconnais et trace les axes de symétrie d'une figure	

**Exercice 1 :** Trace en rouge les axes de symétrie de la figure, si elle en a.



**Exercice 2 :** Sur les images ci-dessous, indique si les lignes tracées sont bien des axes de symétrie, et explique pourquoi.



.....

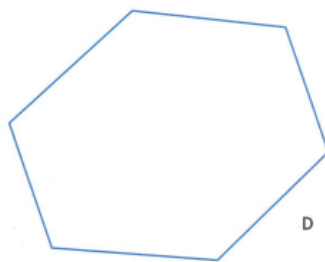
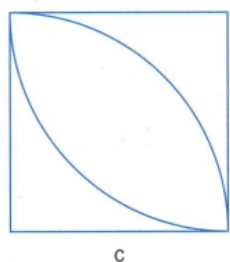
.....

.....

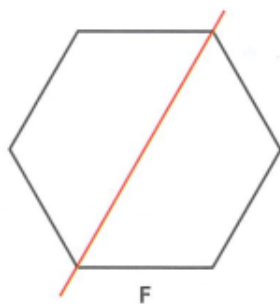
.....

JE PROGRESSE	COMPÉTENCE	CODE
GE9	Je reconnais et trace les axes de symétrie d'une figure.	

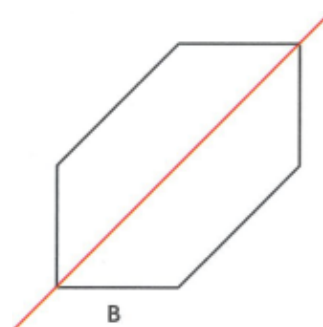
**Exercice 1 :** Trace en rouge les axes de symétrie de la figure, si elle en a.




**Exercice 2 :** Sur les images ci-dessous, indique si les lignes tracées sont bien des axes de symétrie, et explique pourquoi.



.....  
 .....



.....  
 .....



.....  
 .....

.....  
 .....

## Exercices « EVALUATION »


## E

## Géométrie et Espace – CM2

JE M'EVALUE	COMPÉTENCE	CODE
GE9	Je reconnais et trace les axes de symétrie d'une figure	

**Exercice 1 :** Indique si les dessins semblent avoir un ou plusieurs axes de symétrie :

a..... b..... c..... d.....



**Exercice 2 :** Trace en rouge les axes de symétrie, s'il y en a :

