



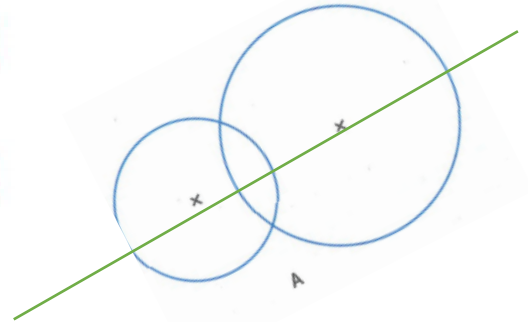
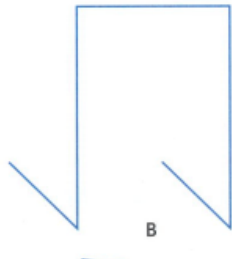



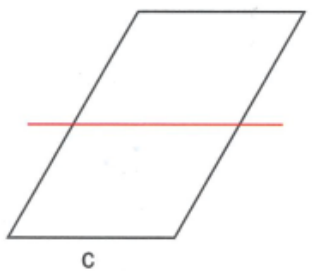
Nombre de réussites	8	De 6 à 7	De 2 à 5	< 2
Code de validation				

JE PROGRESSE	COMPÉTENCE	CODE
GE9	Je reconnais et trace les axes de symétrie d'une figure.	

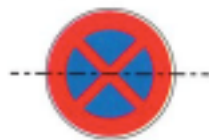
Exercice 1 : Trace en rouge les axes de symétrie de la figure, si elle en a.



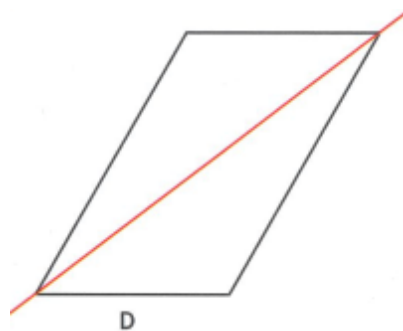
Exercice 2 : Sur les images ci-dessous, indique si les lignes tracées sont bien des axes de symétrie, et explique pourquoi.



OUI



NON







NON

29/62

NON

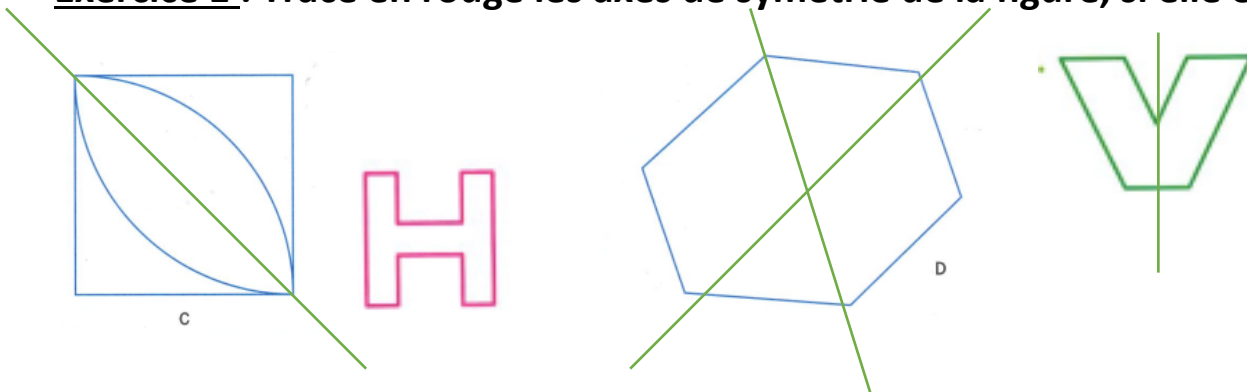
Exercices Autocorrectifs « Je progresse »

Géométrie et Espace CM2 – corrigés

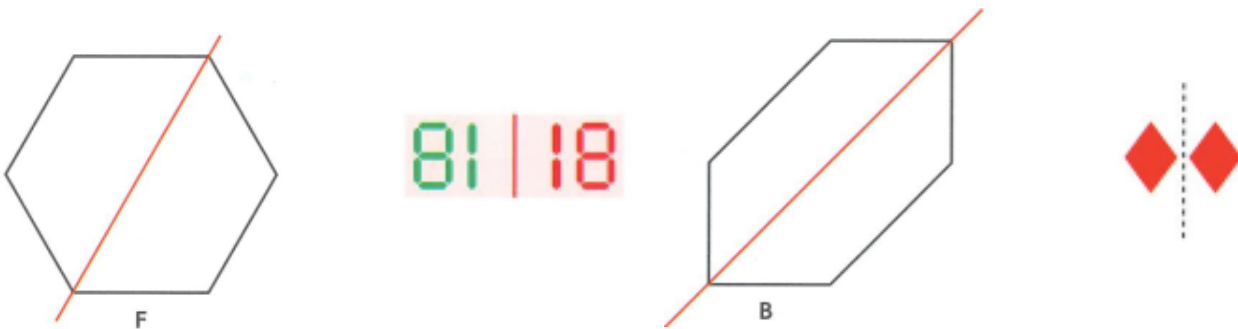
Nombre de réussites	8	De 6 à 7	De 2 à 5	< 2
Code de validation				

JE PROGRESSE	COMPÉTENCE	CODE
GE9	Je reconnais et trace les axes de symétrie d'une figure.	

Exercice 1 : Trace en rouge les axes de symétrie de la figure, si elle en a.



Exercice 2 : Sur les images ci-dessous, indique si les lignes tracées sont bien des axes de symétrie, et explique pourquoi.







OUI

OUI

OUI

OUI

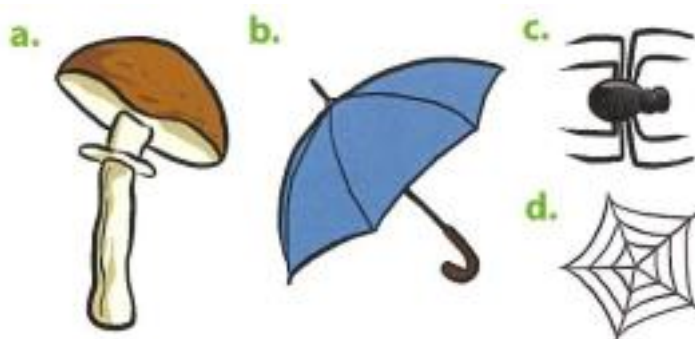
Géométrie et Espace CM2 - corrigés

Nombre de réussites	7	De 5 à 6	De 2 à 4	< 2
Code de validation				

JE M'EVALUE	COMPÉTENCE	CODE
GE9	Je reconnais et trace les axes de symétrie d'une figure.	

Exercice 1 : Indique si les dessins semblent avoir un ou plusieurs axes de symétrie :

a. 0 b. 0 c. 1 d. 5



Exercice 2 : Trace en rouge les axes de symétrie, s'il y en a :

