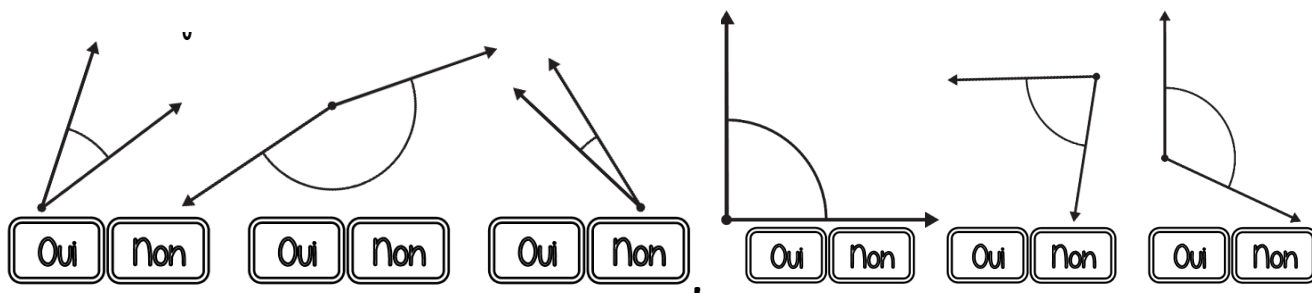
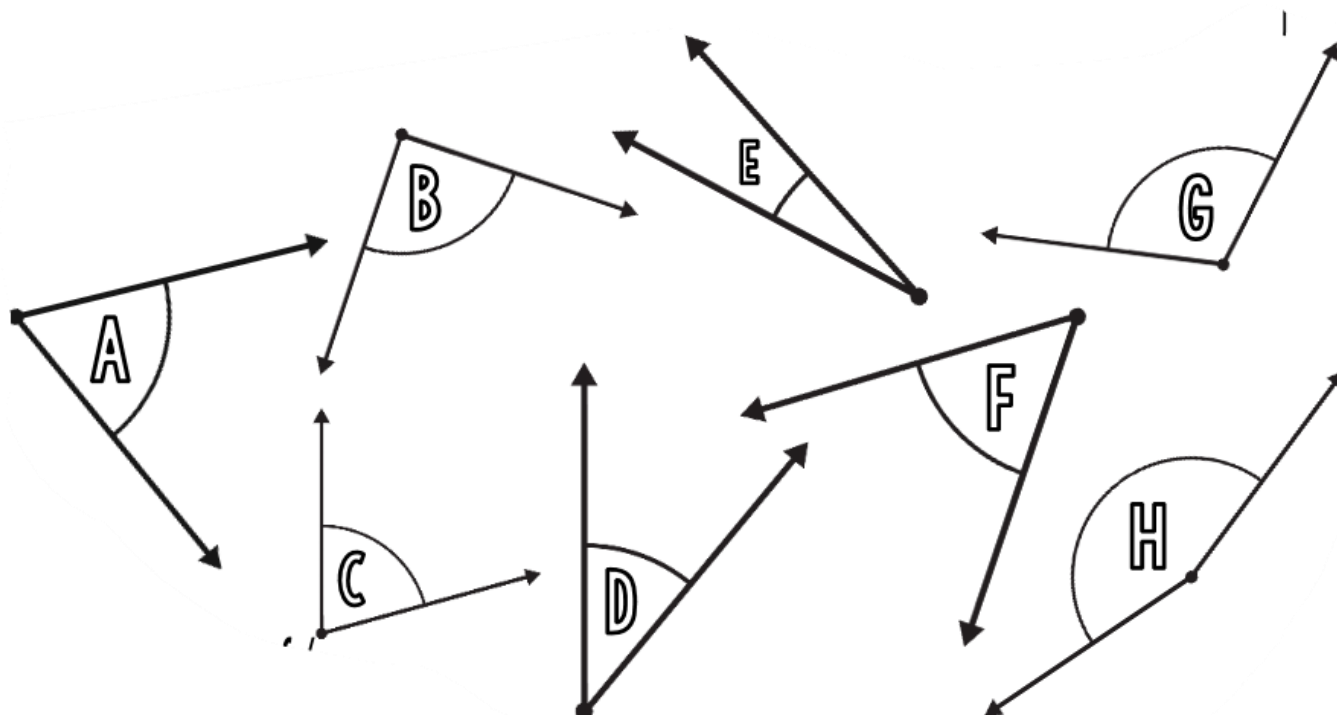


JE PROGRESSE	COMPÉTENCE	CODE
GM5	Je repère et compare des angles. J'estime et vérifie qu'un angle est droit, aigu ou obtus.	

Exercice 1 : Ces angles sont-ils aigus ?



Exercice 2 : Réalise un gabarit de l'angle A, puis colorie les angles plus grands que lui.



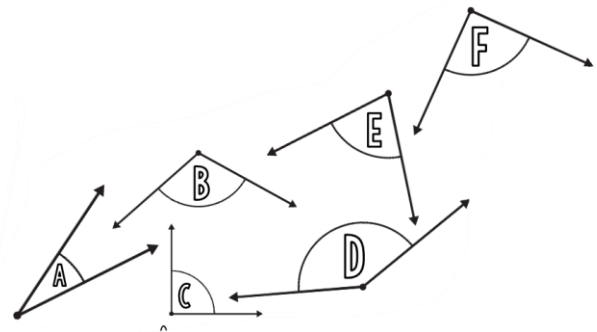
Exercices Autocorrectifs « Je progresse »

Grandeurs et Mesures – CM1

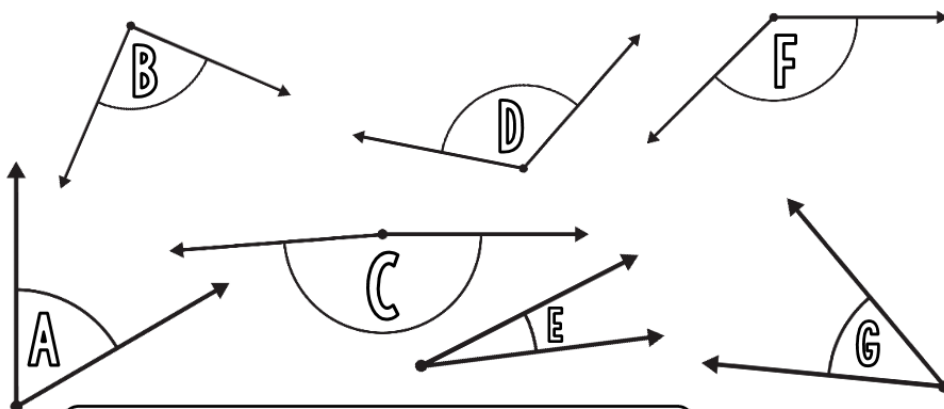
JE PROGRESSE	COMPÉTENCE	CODE
GM5	Je repère et compare des angles. J'estime et vérifie qu'un angle est droit, aigu ou obtus.	

Exercice 1 : Coche la bonne réponse.

1) L'angle A est <u>un angle aigu</u> .	<input type="radio"/> Vrai <input type="radio"/> Faux
2) Un angle <u>aigu</u> est un angle <u>plus grand qu'un angle droit</u> .	<input type="radio"/> Vrai <input type="radio"/> Faux
3) L'angle C est <u>un angle droit</u> .	<input type="radio"/> Vrai <input type="radio"/> Faux
4) Les angles B et D sont <u>des angles obtus</u> .	<input type="radio"/> Vrai <input type="radio"/> Faux
5) Il y a en tout <u>3 angles aigus</u> dans cet exercice.	<input type="radio"/> Vrai <input type="radio"/> Faux
6) Cet exercice ne comporte <u>qu'un seul angle droit</u> .	<input type="radio"/> Vrai <input type="radio"/> Faux



Exercice 2 : Range ces angles du plus aigu au plus obtus.



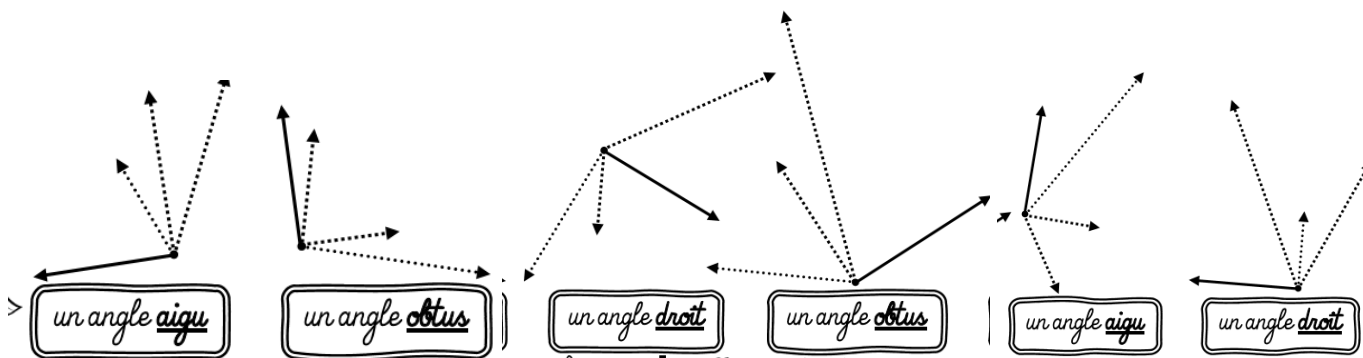
_____ < _____ < _____ < _____ < _____ < _____ < _____

Exercices « EVALUATION »

Grandeurs et Mesures – CM1

JE M'EVALUE	COMPÉTENCE	CODE
GM5	Je repère et compare des angles. J'estime et vérifie qu'un angle est droit, aigu ou obtus.	

Exercice 1 : Complète pour obtenir l'angle demandé.



Exercice 2 : Colorie les angles jumeaux de la même couleur.

