

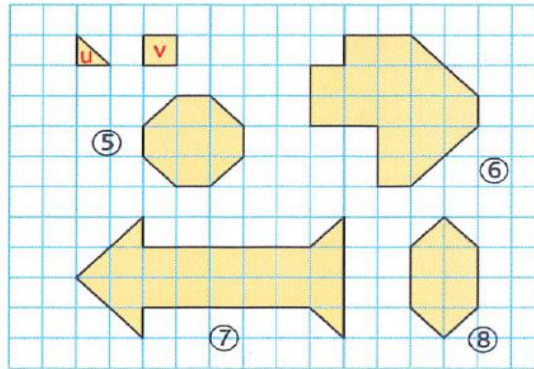
Nom – Prénom : _____

MATHÉMATIQUES

Grandeurs et mesures CM2 - « Je m'entraîne »

JE M'ENTRAINE	COMPÉTENCE	CODE
GM10	Je mesure et je compare des aires à l'aide d'un pavage.	

Exercice 1 : Mesure ces surfaces avec les deux unités proposées.



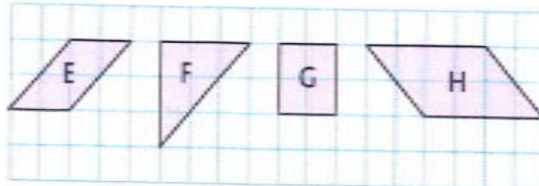
5 : u : v :

6 : u : v :

7 : u : v :

8 : u : v :

Exercice 2 : Avec l'unité de ton choix (u ou v), mesure la surface de chaque figure et classe-les de la plus petite à la plus grande.



E : F : G : H :

.....

Exercice 3 : Julie et Salomé ont réalisé des mosaïques avec des carreaux de 1 cm de côté. Combien de carrés ont-elles utilisé pour chaque figure ?



Julie



Salomé

Nom – Prénom : _____

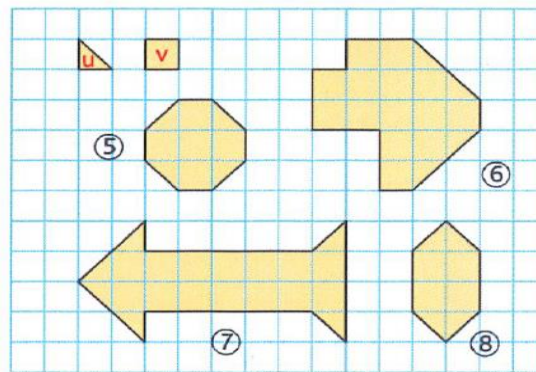
MATHÉMATIQUES

Grandeurs et mesures CM2 - « Je m'entraîne » CORRIGES

Nombre de réussites	15	12 à 14	5 à 11	< 4
Code de validation	●	●	●	●

JE M'ENTRAINE	COMPÉTENCE	CODE
GM10	Je mesure et je compare des aires à l'aide d'un pavage.	

Exercice 1 : Mesure ces surfaces avec les deux unités proposées.



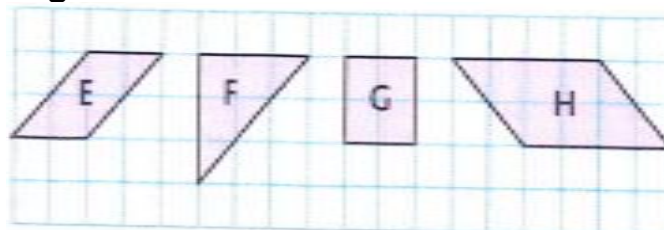
5 : u : 14 u v : 7 u

6 : u : 32 u v : 16 u

7 : u : 34 u v : 17 u

8 : u : 12 u v : 6 u

Exercice 2 : Mesure la surface de chaque figure et classe-les de la plus petite à la plus grande.



E : 4 ou 8 u F : 4,5 u ou 9 u G : 4u ou 8 u H : 8u ou 16 u

$G=E < F < H$

Exercice 3 :

Salomé 16 carreaux

Julie 18 carreaux