



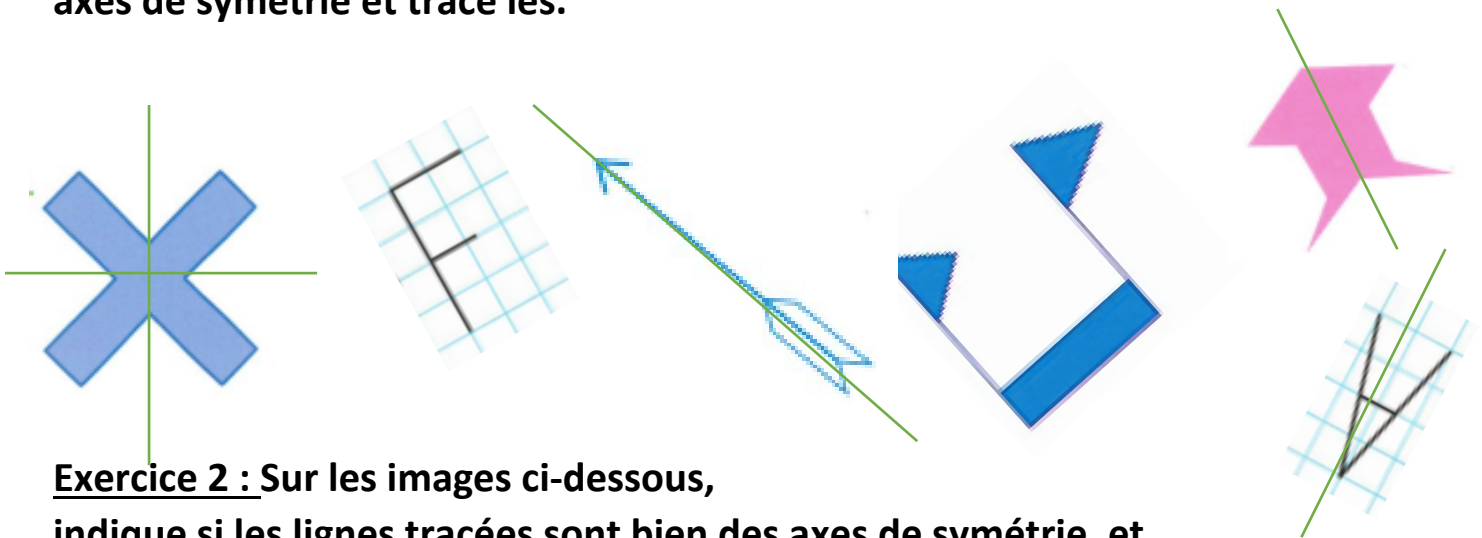


Géométrie et Espace CM1 - corrigés

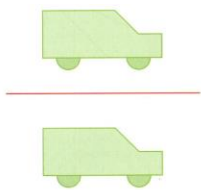
Nombre de réussites	11	De 8 à 10	De 3 à 7	< 3
Code de validation				

JE PROGRESSE	COMPÉTENCE	CODE
GE9	Je reconnais et trace les axes de symétrie d'une figure.	

**Exercice 1 :** Parmi l'ensemble des images ci-dessous, entoure celles qui ont des axes de symétrie et trace les.



**Exercice 2 :** Sur les images ci-dessous, indique si les lignes tracées sont bien des axes de symétrie, et explique pourquoi.



NON




NON



OUI



NON







OUI



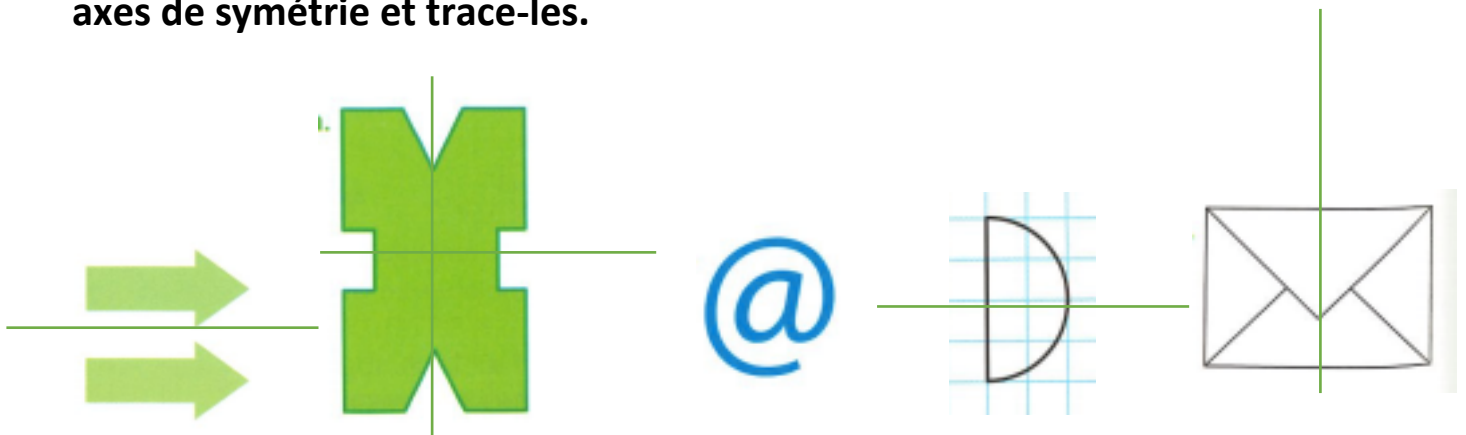
OUI

Géométrie et Espace CM1 – corrigés

Nombre de réussites	11	De 8 à 10	De 3 à 7	< 3
Code de validation				

JE PROGRESSE	COMPÉTENCE	CODE
GE9	Je reconnais et trace les axes de symétrie d'une figure.	

**Exercice 1 :** Parmi l'ensemble des images ci-dessous, entoure celles qui ont des axes de symétrie et trace-les.



**Exercice 2 :** Sur les images ci-dessous, indique si les lignes tracées sont bien des axes de symétrie, et explique pourquoi.



OUI



NON




OUI



NON



NON







OUI

## Exercices « EVALUATION »


E

## Géométrie et Espace CM1 – corrigés

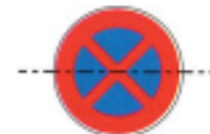

Nombre de réussites	9	De 6 à 8	De 3 à 5	< 3
Code de validation				

JE M'EVALUE	COMPÉTENCE	CODE
GE9	Je reconnais et trace les axes de symétrie d'une figure.	

**Exercice 1 :** Parmi l'ensemble des images ci-dessous, entoure celles qui ont des axes de symétrie et trace les.



**Exercice 2 :** Sur les images ci-dessous, indique si les lignes tracées sont bien des axes de symétrie, et explique pourquoi.



OUI

NON

OUI

OUI

**Exercice 3 :** Zakaria, Lou et Barnabé ont cherché les nombres d'axes de symétrie de ces figures.

Quel élève a bien complété le tableau ? Justifie ta réponse.

LOU