

Nom – Prénom : _____

MATHÉMATIQUES


Grandeurs et Mesures CM1 - « Je m'entraîne »

| JE M'ENTRAÎNE | COMPÉTENCE | CODE |
|---------------|---|------|
| GM2 | Je compare et je mesure des périmètres. | |


Exercice 1 : Calcule le périmètre de ces figures.



A :



B :



C :

Range ces figures par ordre croissant en fonction de leur périmètre :

.....





Exercice 2 : Exprime le périmètre de chaque figure avec une unité bien choisie.

| | Nature de la figure | Périmètre |
|----------|--|-----------|
| Figure I | Carré de côté 35 cm | |
| Figure J | Rectangle de longueur 7 cm et de largeur 3 cm 5 mm | |
| Figure K | Triangle dont les côtés mesurent 35 cm, 48 cm et 54 cm | |

Nom – Prénom : _____

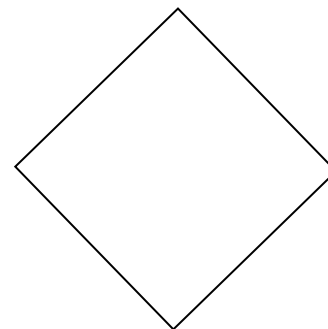

MATHÉMATIQUES

Grandeurs et mesures CM1 - « Je m'entraîne » **CORRIGÉS**

| | | | | |
|---------------------|---|---|---|---|
| Nombre de réussites | 9 | 7 ou 8 | Entre 3 et 6 | <2 |
| Code de validation |  |  |  |  |

| JE M'ENTRAINE | COMPÉTENCE | CODE |
|---------------|---|------|
| GM2 | Je compare et je mesure des périmètres. | |

Exercice 1 : Calcule le périmètre de ces figures.



A : 10 cm

B : 14 cm

C : 12 cm

Range ces figures par ordre croissant en fonction de leur périmètre :

A < C < B

Exercice 2 : Exprime le périmètre de chaque figure avec une unité bien choisie.

| | Nature de la figure | Périmètre |
|----------|--|-----------|
| Figure I | Carré de côté 35 cm | 140 cm |
| Figure J | Rectangle de longueur 7 cm et de largeur 3 cm 5 mm | 21 cm |
| Figure K | Triangle dont les côtés mesurent 35 cm, 48 cm et 54 cm | 137cm |