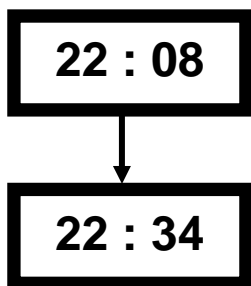


Exercices Autocorrectifs « Je progresse »

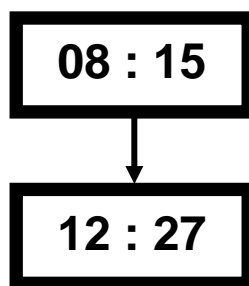
Grandeurs et mesures - CM2

JE PROGRESSE	COMPÉTENCE	CODE
GM4	Je calcule des durées.	

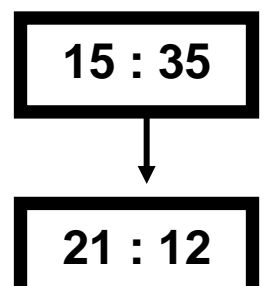
Exercice 1 : Calcule la durée écoulée dans chaque cas.



.....



.....



.....

Exercice 2 : Calcule la durée écoulée.

entre 12h35min et 01h22min :

entre 20h48min et 02h06min :

entre 6h25min et 12h30min :

Exercice 3 : Complète le tableau suivant.

Ligne	Départ	Arrivée	Durée
Paris - Montréal	6h27min	11h57min
Milan - Tokyo	21h35min	8h57min
Genève - Moscou	22h30min	7h52min

Grandeurs et mesures - CM2

JE PROGRESSE	COMPÉTENCE	CODE
GM4	Je calcule des durées.	

Exercice 1 : Calcule la durée écoulée dans chaque cas.

20 : 08



22 : 34

.....

08 : 35



14 : 27

.....

18 : 35



21 : 07

.....

Exercice 2 : Calcule la durée écoulée.

entre 15h35min et 17h 02min :

entre 9h48min et 12h06min :

entre 6h25min et 14h30min :

Exercice 3 : Complète le tableau suivant.

Ligne	Départ	Arrivée	Durée
Lyon - Barcelone	23h30min	3h15min
Paris - Amsterdam	21h35min	8h55min
Bellegarde - Turin	16h02min	7h 50min

Exercices Autocorrectifs « EVALUATION »

Grandeurs et mesures - CM2

JE M'ÉVALUE	COMPÉTENCE	CODE
GM4	Je calcule et convertis des durées.	

Exercice 1 : Calcule la durée écoulée dans chaque cas.

23 : 08



23 : 34

.....

09 : 15



12 : 27

.....

21 : 35



23 : 12

.....

Exercice 2 : Convertis les durées.

1h 25min = min	3j = h	2 min 48s = s	129s = ...min ...s
137s = min....s	34 h = ...j ...h	95 min = ...h ...min	4min 17s =s

Exercice 3: Complète le tableau suivant.

Ligne	Départ	Arrivée	Durée
Lyon - Toulouse	2h26	12h36
Paris - Ferney- Voltaire	11h57	5h30
Bellegarde - Brest	12h45	7h30