



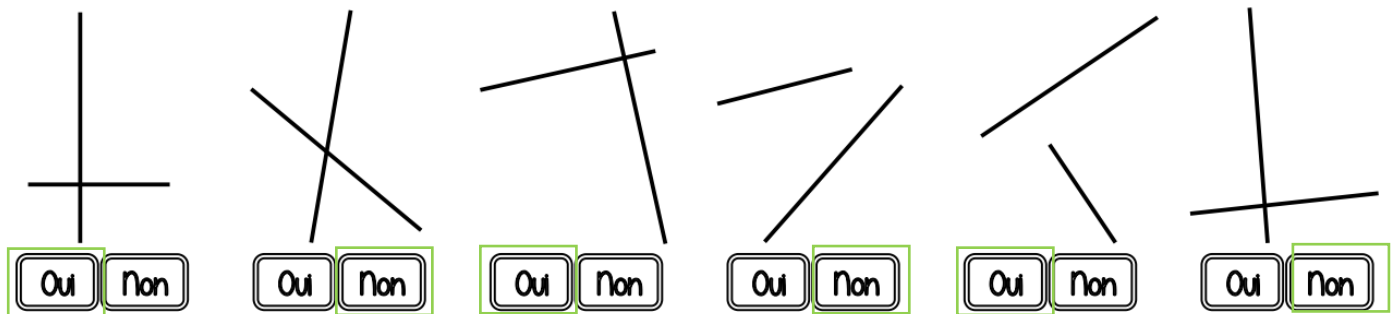


Géométrie et Espace – CM1 - corrigés

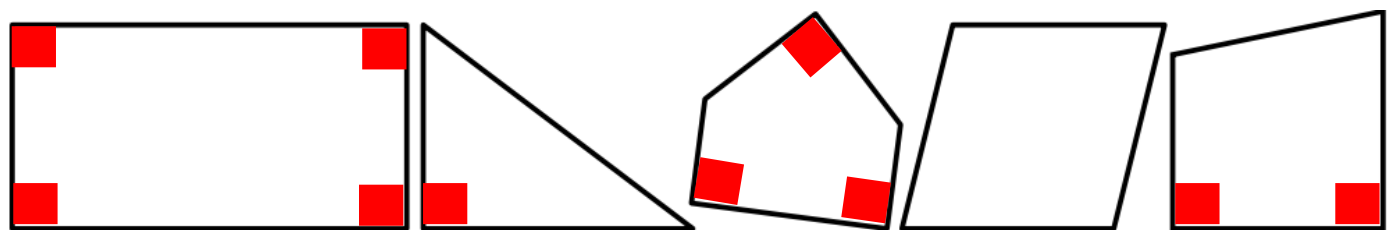
Nombre de réussites	22	De 16 à 21	De 7 à 15	< 7
Code de validation				

JE PROGRESSE	COMPÉTENCE	CODE
GE1	Je reconnais et je trace des droites perpendiculaires.	

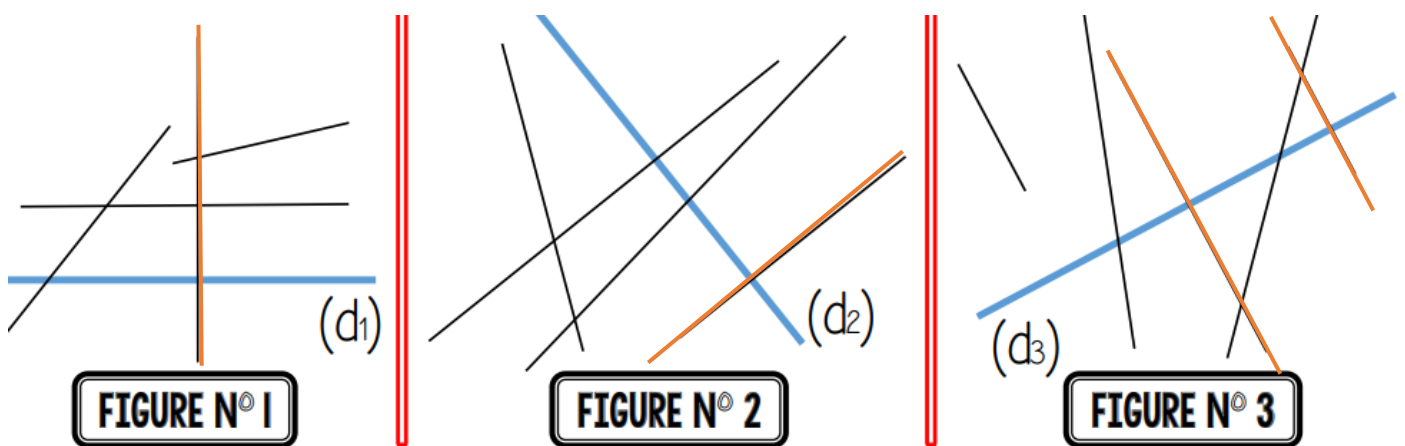
**Exercice 1 : Ces droites, sont-elles perpendiculaires ?**



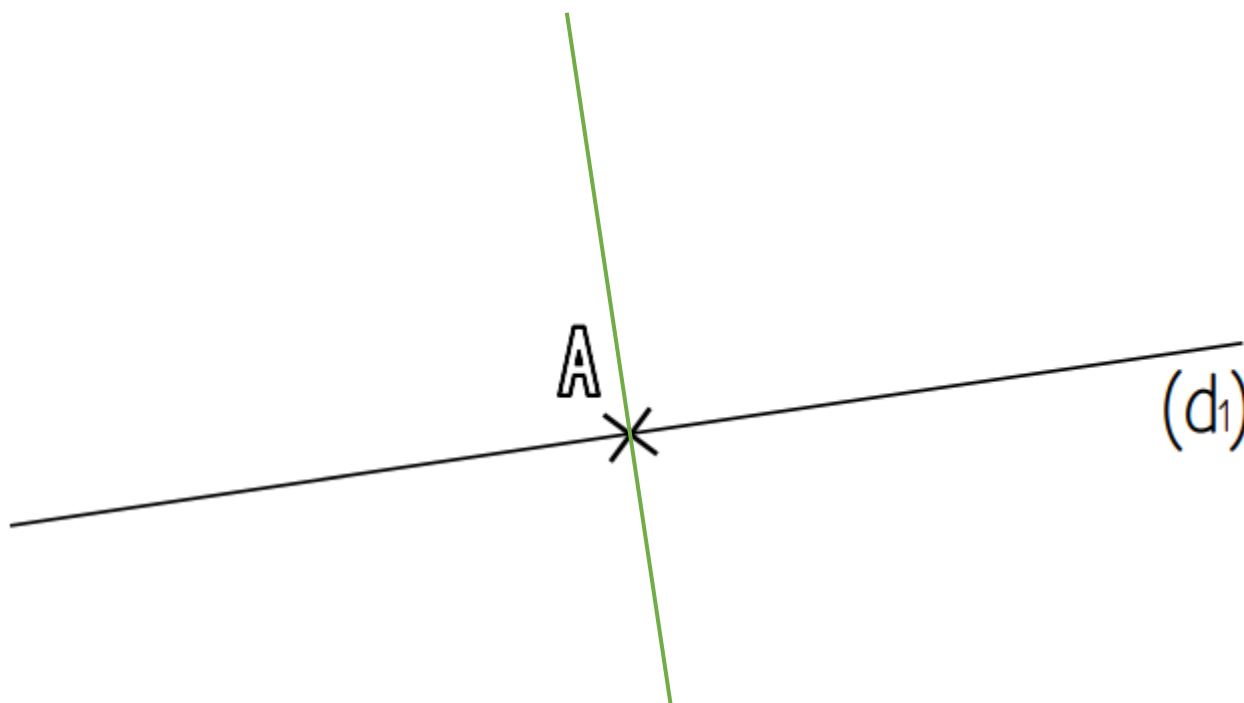
**Exercice 2 : Marque les angles droits de ces polygones avec des carrés rouges.**



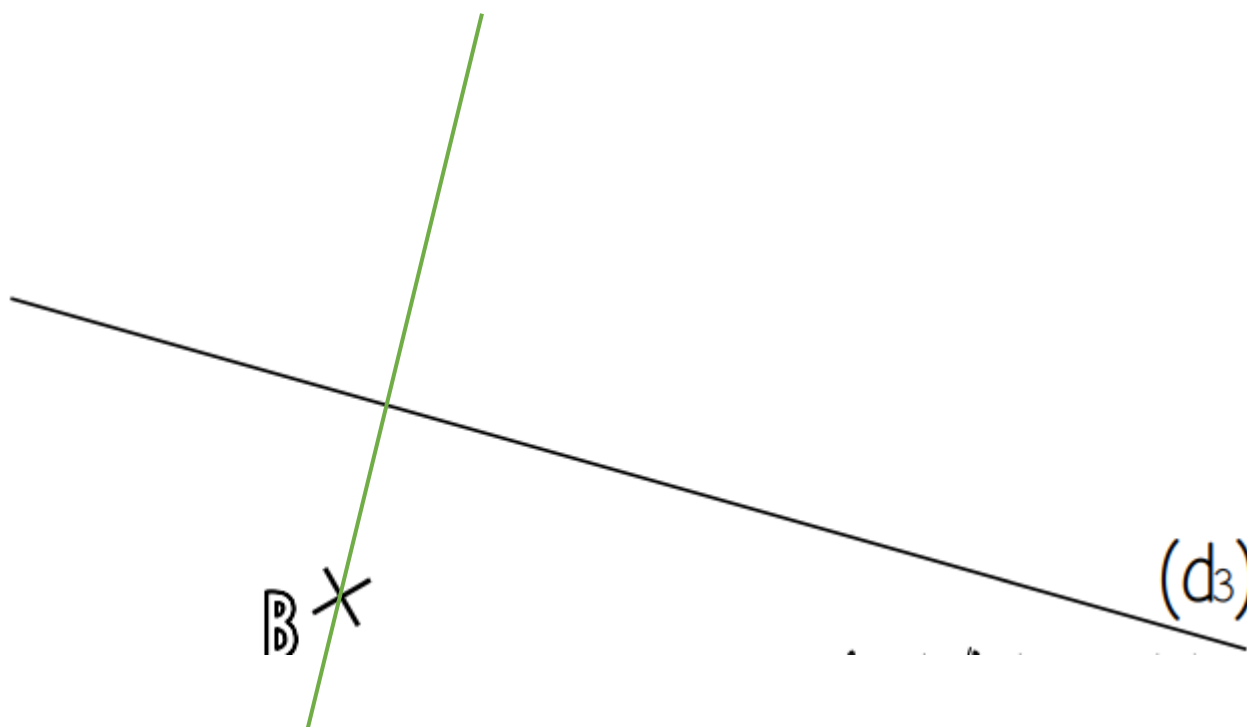
**Exercice 3 : Repasse en rouge les droites perpendiculaires aux droites (d1), (d2) et (d3)**







**Exercice 4 :** Trace une droite (d2) perpendiculaire à la droite (d1) et passant par le point A.



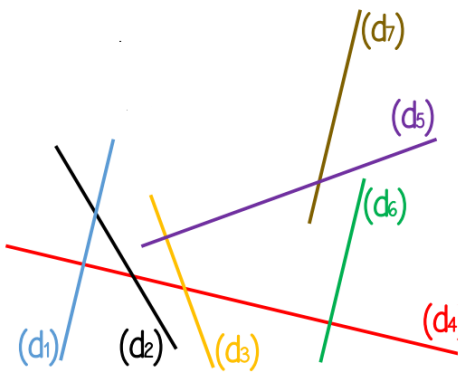
**Exercice 5 :** Trace une droite (d4) perpendiculaire à la droite (d3) et passant par le point B.



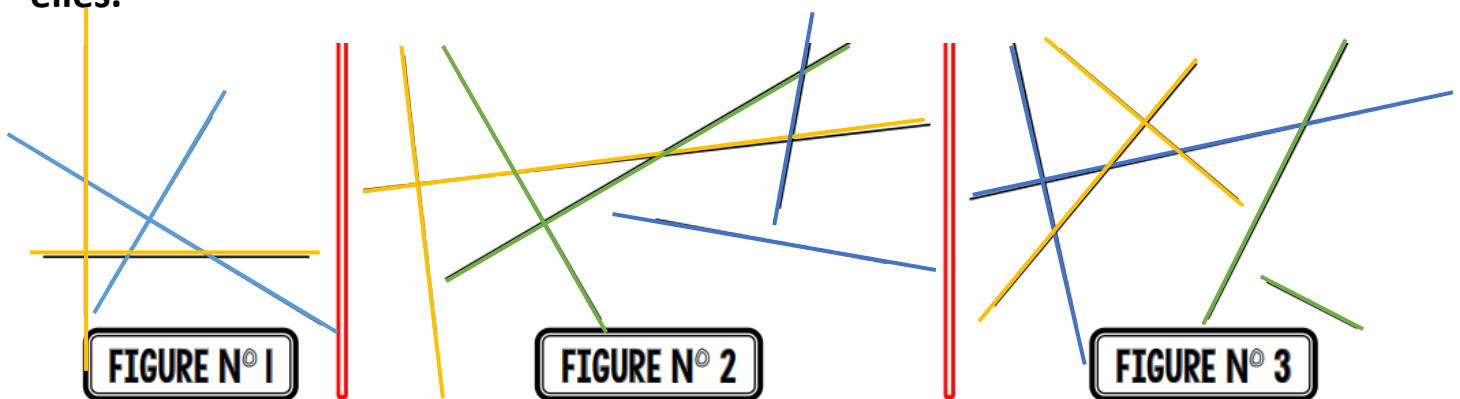
## Géométrie et Espace – CM1 -corrigés

Nombre de réussites	18	De 13 à 17	De 6 à 12	< 6
Code de validation				

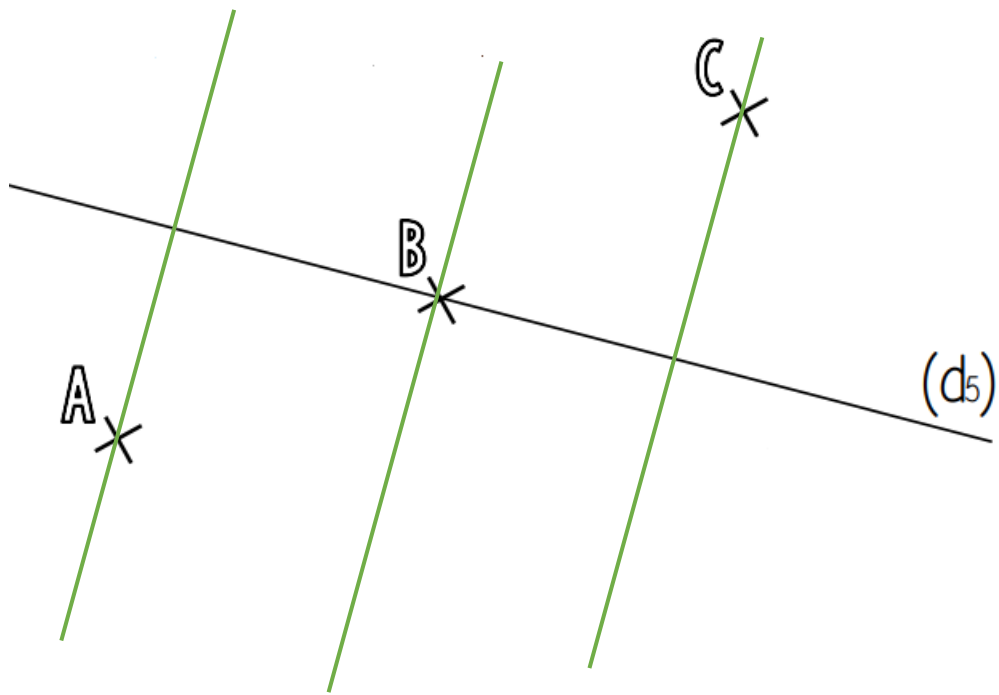
JE PROGRESSE	COMPÉTENCE	CODE
GE1	Je reconnais et je trace des droites perpendiculaires.	

**Exercice 1 : Coche la bonne réponse.**

1) (d1) est <u>perpendiculaire</u> à (d2).	<input type="radio"/> Vrai <input checked="" type="radio"/> Faux
2) (d1) est <u>perpendiculaire</u> à (d4).	<input checked="" type="radio"/> Vrai <input type="radio"/> Faux
3) (d3) et (d4) sont <u>perpendiculaires</u> entre elles.	<input checked="" type="radio"/> Vrai <input type="radio"/> Faux
4) Il n'y a <u>pas</u> de droite <u>perpendiculaire</u> à (d2).	<input type="radio"/> Vrai <input checked="" type="radio"/> Faux
5) (d3) et (d5) sont <u>perpendiculaires</u> entre elles.	<input checked="" type="radio"/> Vrai <input type="radio"/> Faux
6) (d4) est <u>perpendiculaire</u> à (d6).	<input checked="" type="radio"/> Vrai <input type="radio"/> Faux
7) Il n'y a <u>pas</u> de droite <u>perpendiculaire</u> à (d7).	<input type="radio"/> Vrai <input checked="" type="radio"/> Faux

**Exercice 2 : Repasse de la même couleur les droites perpendiculaires entre elles.**

**Exercice 3 :** Trace les droites perpendiculaires à  $(d_5)$  passant par A, B et C.



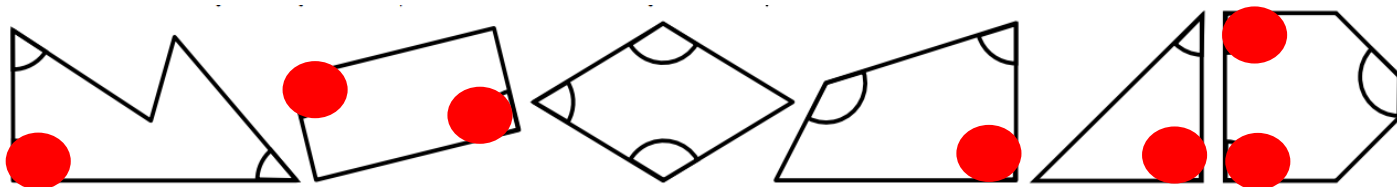
Exercices « EVALUATION »

Géométrie et Espace – CM1 -corrigés

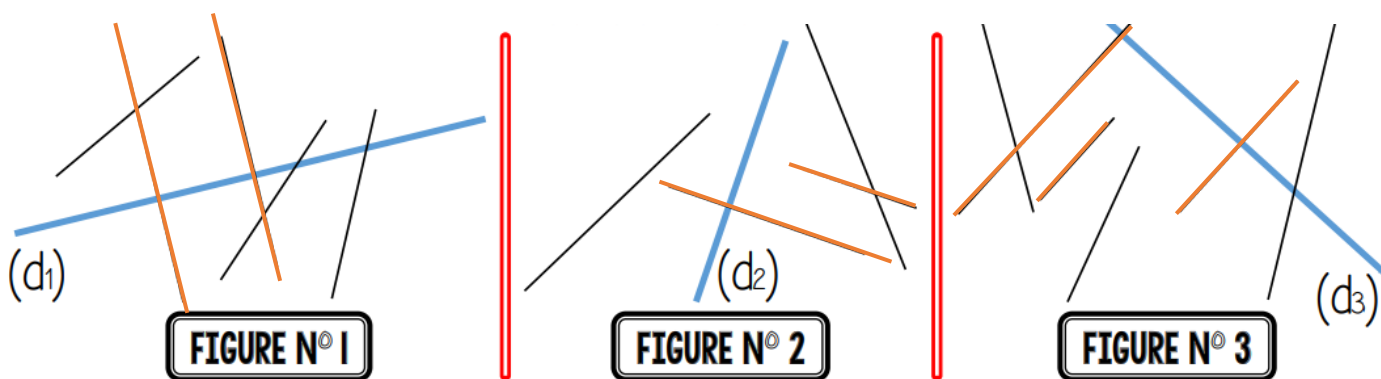
Nombre de réussites	16	De 12 à 15	De 5 à 11	< 5
Code de validation	●	●	●	●

JE M'EVALUE	COMPÉTENCE	CODE
GE1	Je reconnais et je trace des droites perpendiculaires.	

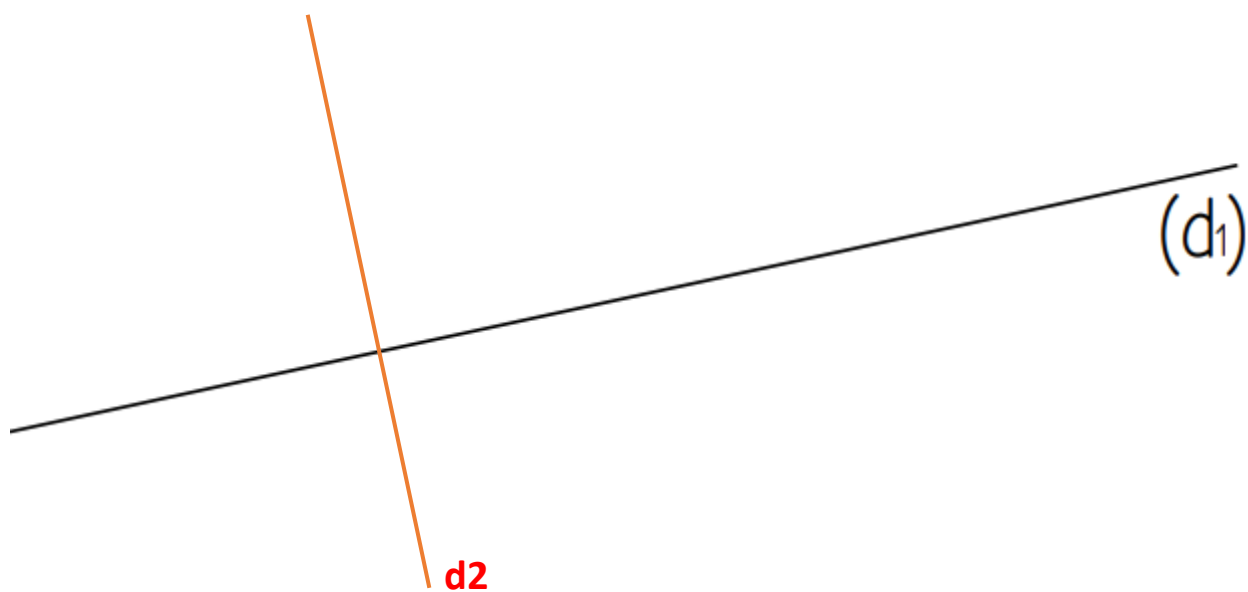
**Exercice 1 :** Parmi les angles déjà marqués, colorie en rouge ceux qui sont droits.



**Exercice 2 :** Repasse en rouge les droites perpendiculaires aux droites (d1), (d2) et (d3).



**Exercice 3** : Trace une droite (d2) perpendiculaire à (d1).



**Exercice 4** : Trace une droite (d4) perpendiculaire à (d3) et passant par le point A.

