



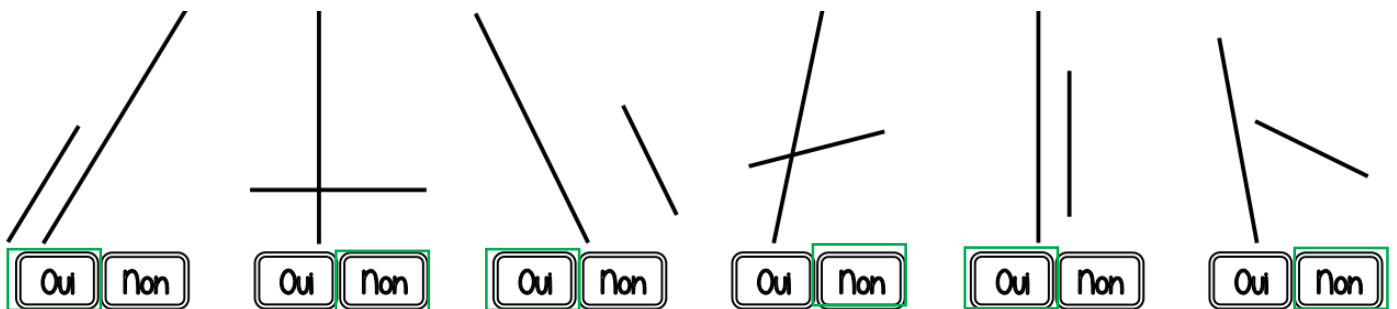


Géométrie et Espace – CM1 - corrigés

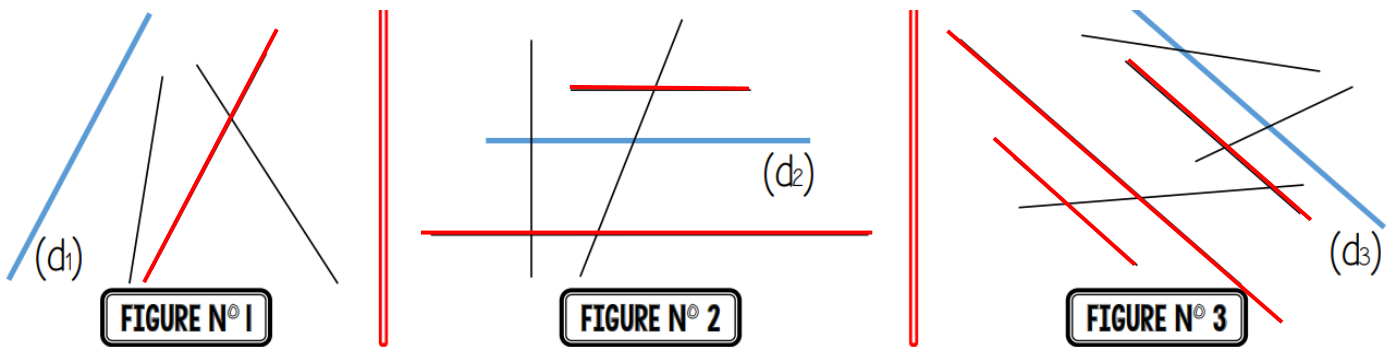
Nombre de réussites	14	De 10 à 13	De 5 à 9	< 5
Code de validation				

JE PROGRESSE	COMPÉTENCE	CODE
GE2	Je reconnais et je trace des droites parallèles.	

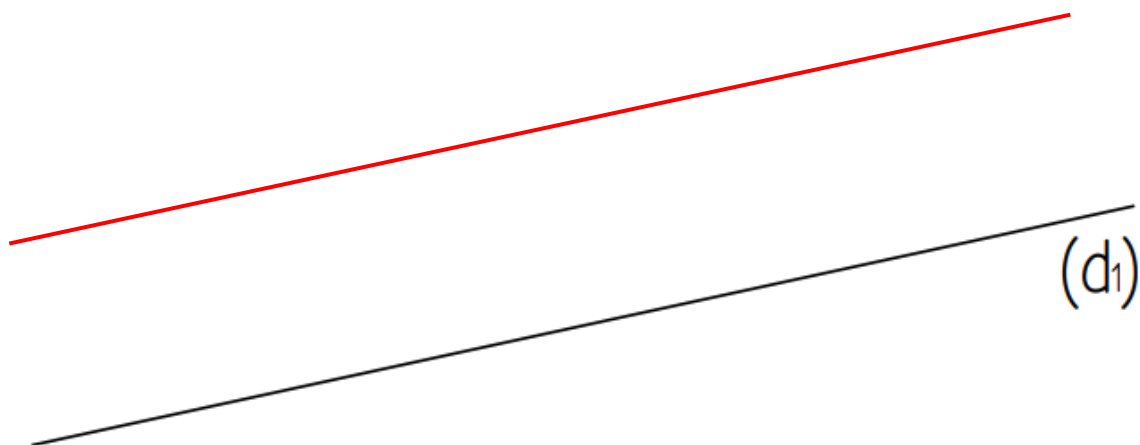
Exercice 1 : Ces droites sont-elles parallèles ?



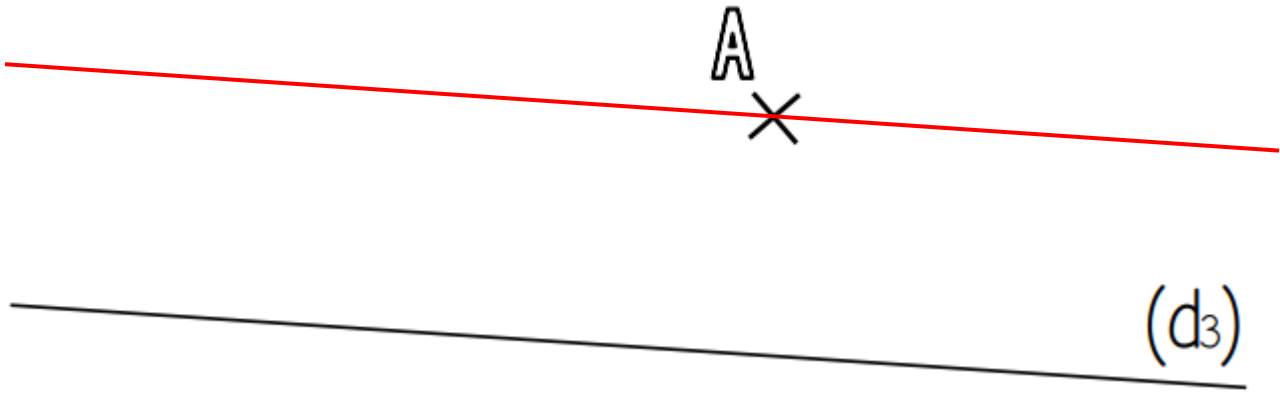
Exercice 2 : Repasse en rouge les droites parallèles à (d1), (d2) et (d3)



Exercice 3 : Trace une droite (d2) parallèle à (d1) et distante de 2 cm.







Exercice 4 : Trace une droite (d4) parallèle à (d3) et passant par le point A.



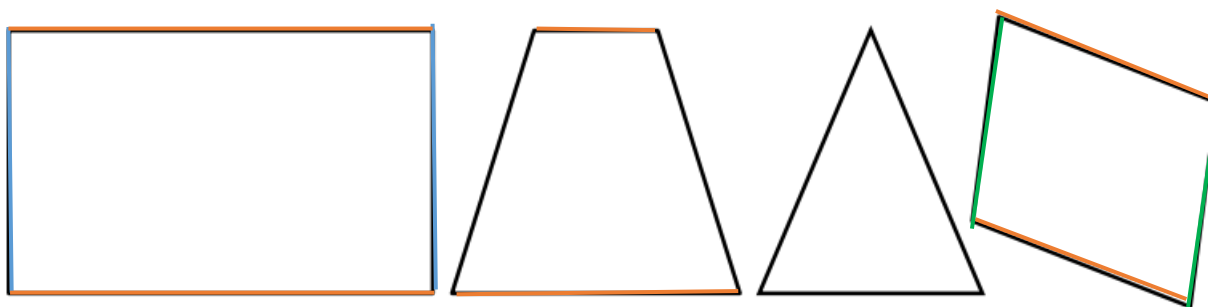
Exercices Autocorrectifs « Je progresse »

Géométrie et Espace – CM1 - corrigés

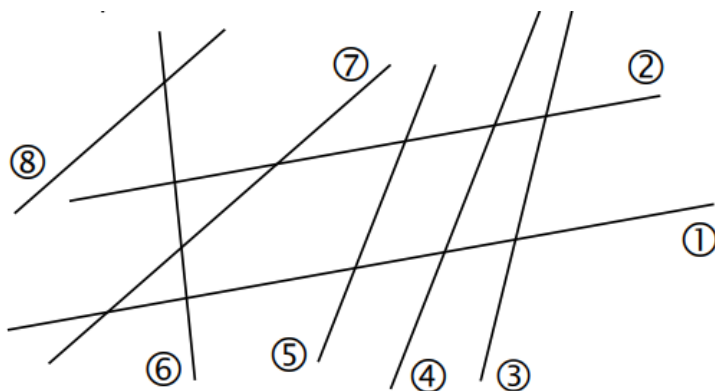
Nombre de réussites	12	De 9 à 11	De 4 à 8	< 4
Code de validation				

JE PROGRESSE	COMPÉTENCE	CODE
GE2	Je reconnais et je trace des droites parallèles.	

Exercice 1 : Dans chaque figure, repasse de la même couleur les côtés parallèles entre eux.

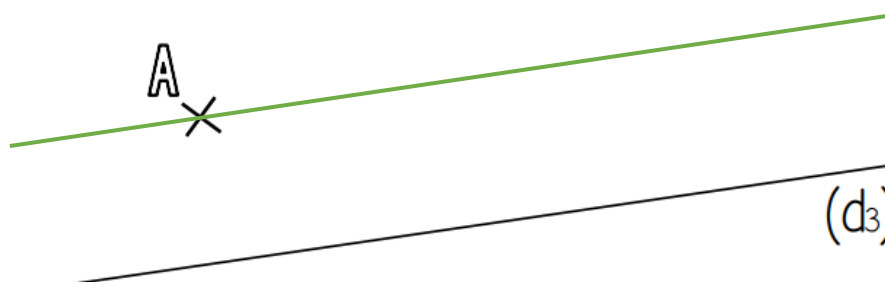


Exercice 2 : Coche la bonne réponse.



1) Les droites ① et ② sont <u>parallèles</u> .	<input checked="" type="radio"/> Vrai <input type="radio"/> Faux
2) Les droites ③ et ④ ne sont <u>pas parallèles</u> .	<input checked="" type="radio"/> Vrai <input type="radio"/> Faux
3) Les droites ③ et ⑤ sont <u>parallèles</u> .	<input type="radio"/> Vrai <input checked="" type="radio"/> Faux
4) Les droites ⑥ et ⑧ ne sont <u>pas parallèles</u> .	<input checked="" type="radio"/> Vrai <input type="radio"/> Faux
5) Les droites ⑦ et ⑧ ne sont <u>pas parallèles</u> .	<input type="radio"/> Vrai <input checked="" type="radio"/> Faux
6) Les droites ④ et ⑤ sont <u>parallèles</u> .	<input checked="" type="radio"/> Vrai <input type="radio"/> Faux

Exercice 3 : Trace une droite (d4) parallèle à (d3) et passant par le point A.



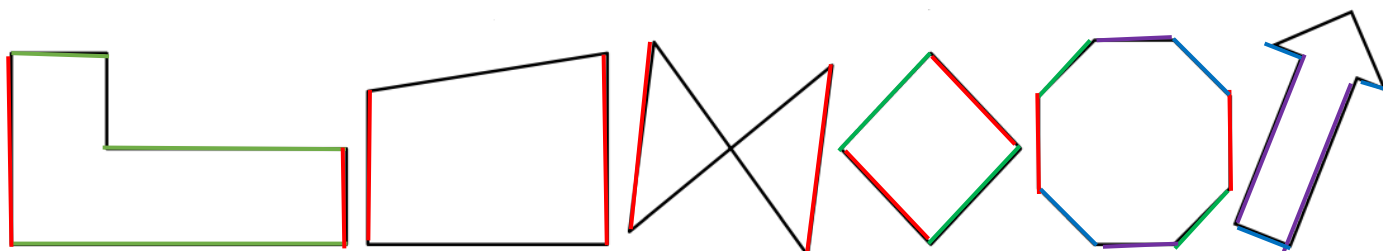
Exercices « EVALUATION »

Géométrie et Espace – CM1 – corrigés

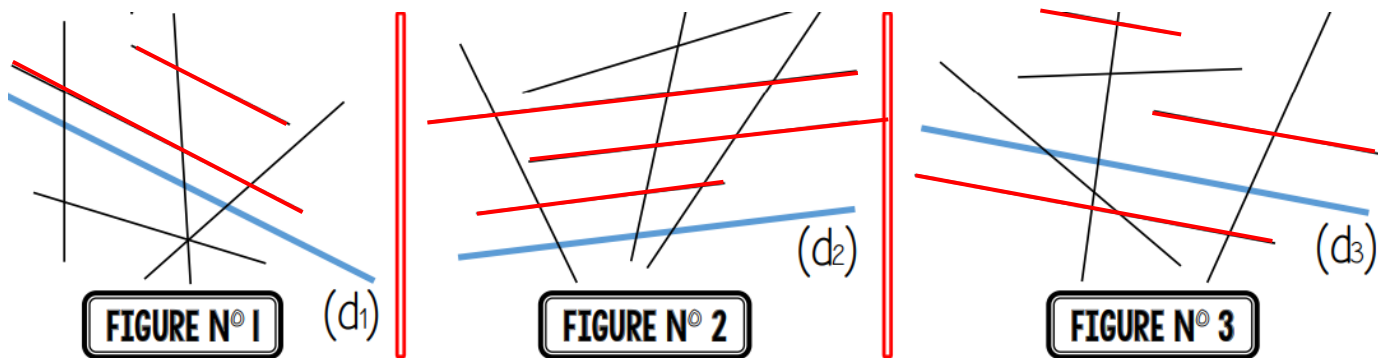
Nombre de réussites	22	De 16 à 21	De 7 à 15	< 7
Code de validation	●	●	●	●

JE M'EVALUE	COMPÉTENCE	CODE
GE2	Je reconnais et je trace des droites parallèles.	

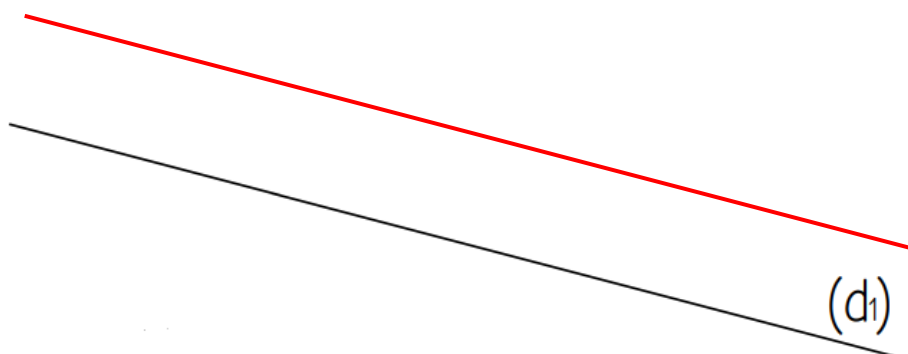
Exercice 1 : Dans chaque figure, repasse de la même couleur les côtés parallèles entre eux.



Exercice 2 : Repasse en rouge les droites parallèles à (d1), (d2) et (d3)



Exercice 3 : Trace une droite (d2) parallèle à (d1) et distante de 1 cm.



Exercice 4 : Trace une droite (d4) parallèle à (d3) et passant par le point A.

