

Grandeurs et mesures - CM1

JE PROGRESSE	COMPÉTENCE	CODE
GM3	Je lis l'heure.	

Exercice 1 : Associe les deux horaires.

8h30 .

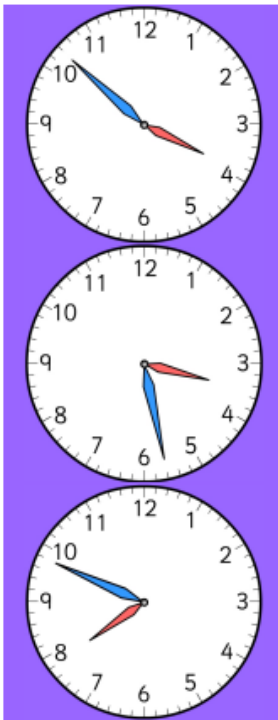
. 8 heures et quart

8h15 .

. 8 heures et demi

8h45 .

. 20 heures 45

Exercice 2 : Ecris l'heure qui correspond à chaque horloge. Attention nous sommes le matin !

Il est _____ H _____

Il est _____ H _____

Il est _____ H _____

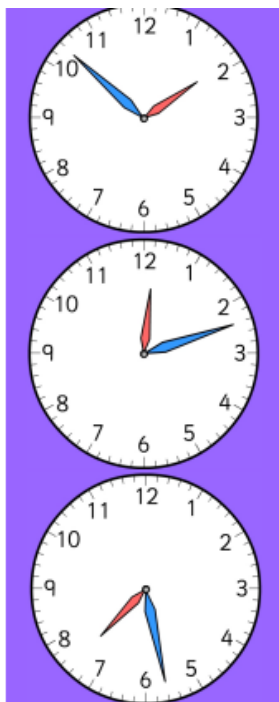


Il est _____ H _____

Il est _____ H _____

Il est _____ H _____

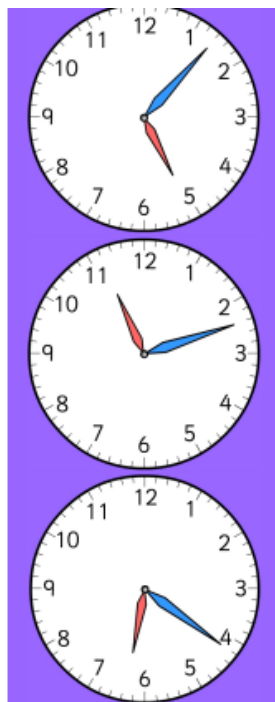
Exercice 3 : Ecris l'heure qui correspond à chaque horloge. Attention nous sommes l'après-midi ou le soir !



Il est ____ H ____

Il est ____ H ____

Il est ____ H ____

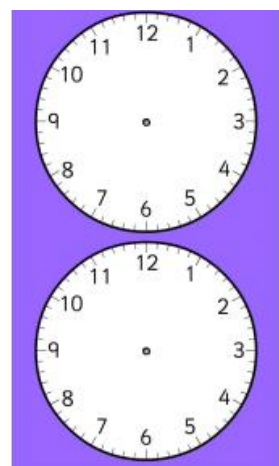


Il est ____ H ____

Il est ____ H ____

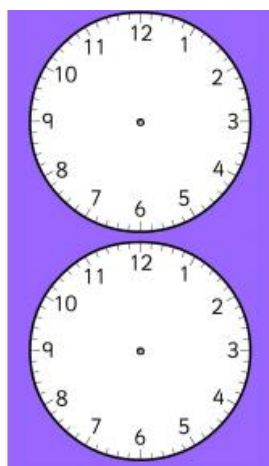
Il est ____ H ____

Exercice 4 : Dessine les aiguilles.



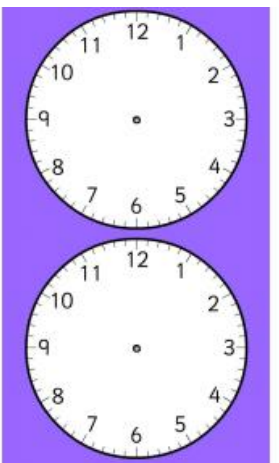
Il est 11H23

Il est 9H01



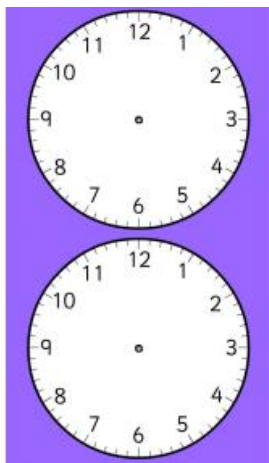
Il est 4H14

Il est 9H12



Il est 17H31

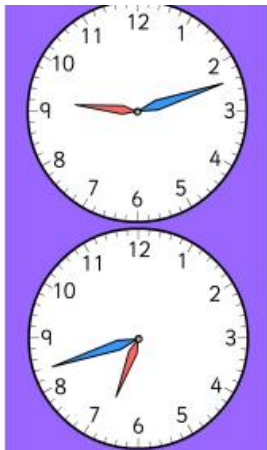
Il est 20H57



Il est 17H44

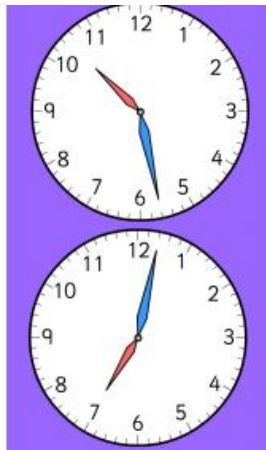
Il est 18H33

Exercice 3 : Ecris l'heure qui correspond à chaque horloge. Attention nous sommes l'après-midi ou le soir !



Il est ____ H ____

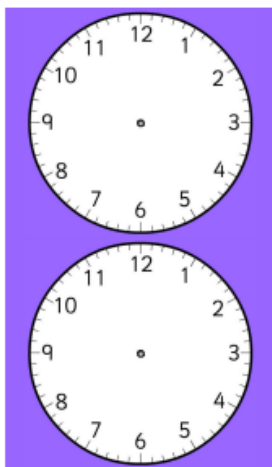
Il est ____ H ____



Il est ____ H ____

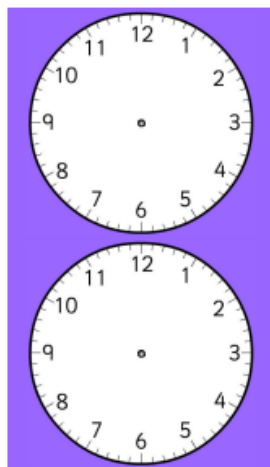
Il est ____ H ____

Exercice 4 : Dessine les aiguilles.



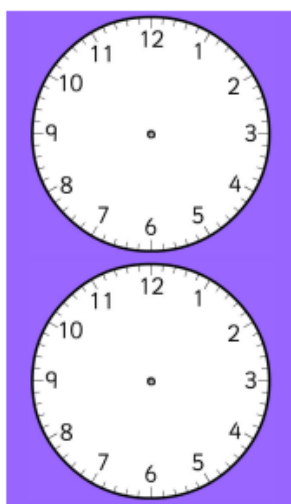
Il est 8H47

Il est 9H39



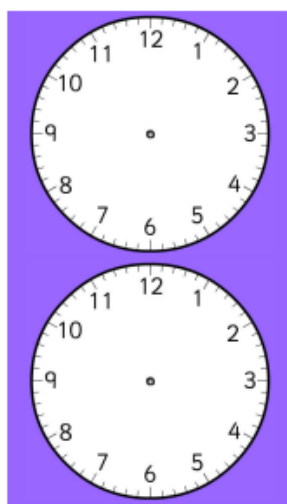
Il est 11H42

Il est 5H32



Il est 14H37

Il est 15H02



Il est 12H56

Il est 13H04

Exercices « EVALUATION »

Grandeurs et mesures- CM1

JE M'EVALUE	COMPÉTENCE	CODE
GM3	Je lis l'heure.	

Exercice 1 : Associe les deux horaires.

10h30 .

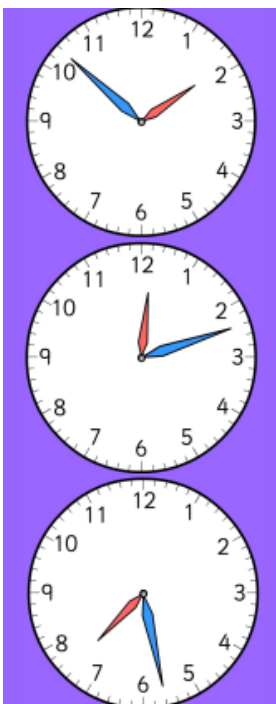
. 22 heures 45

10h15 .

. 10 heures et quart

10h45 .

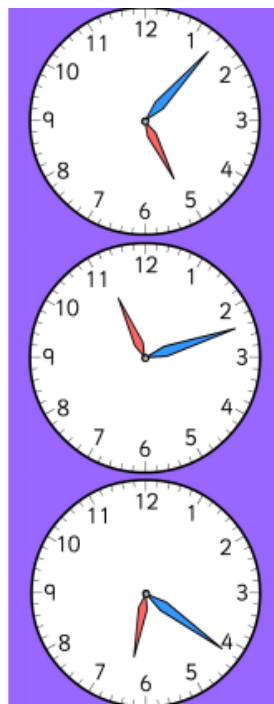
. 10 heures et demi

Exercice 2 : Ecris l'heure qui correspond à chaque horloge. Attention nous sommes le matin !

Il est ____ H ____

Il est ____ H ____

Il est ____ H ____

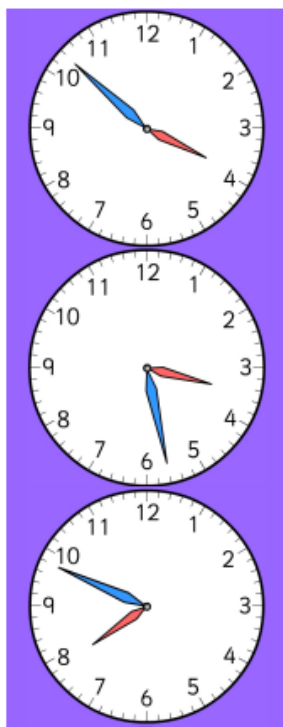


Il est ____ H ____

Il est ____ H ____

Il est ____ H ____

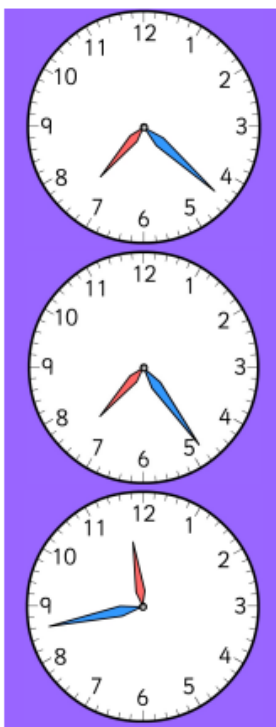
Exercice 3 : Ecris l'heure qui correspond à chaque horloge. Attention nous sommes l'après-midi ou le soir !



Il est ____ H ____

Il est ____ H ____

Il est ____ H ____

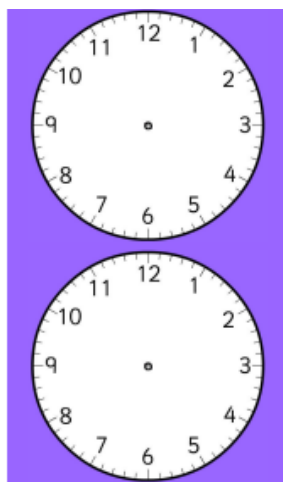


Il est ____ H ____

Il est ____ H ____

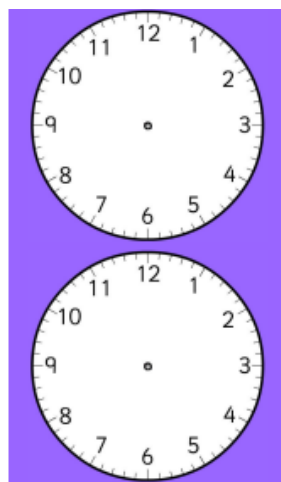
Il est ____ H ____

Exercice 4 : Dessine les aiguilles.



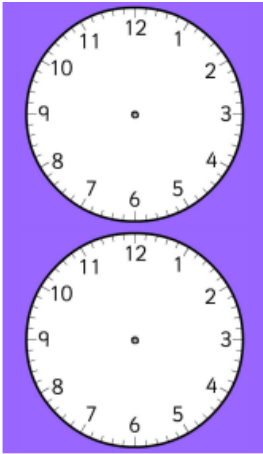
Il est 8H05

Il est 9H56



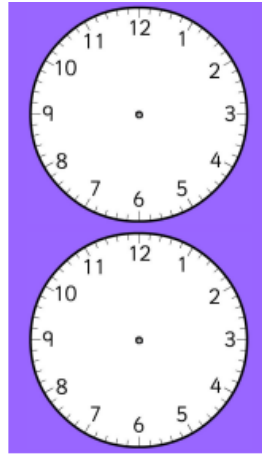
Il est 5H52

Il est 3H34



Il est 22H36

Il est 23H11



Il est 20H23

Il est 15H12