








Grandeurs et mesures CM2 - corrigés

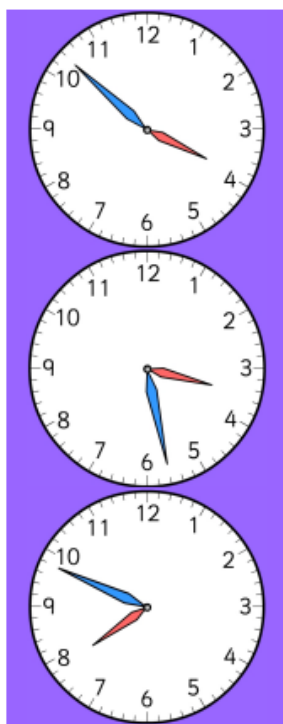
Nombre de réussites	23	De 17 à 22	De 8 à 16	< 8
Code de validation				

JE PROGRESSE	COMPÉTENCE	CODE
GM3	Je lis l'heure.	

Exercice 1 : Associe les deux horaires.

8h30 .  8 heures et quart
 8h15 .  8 heures et demi
 8h45 .  20 heures 45

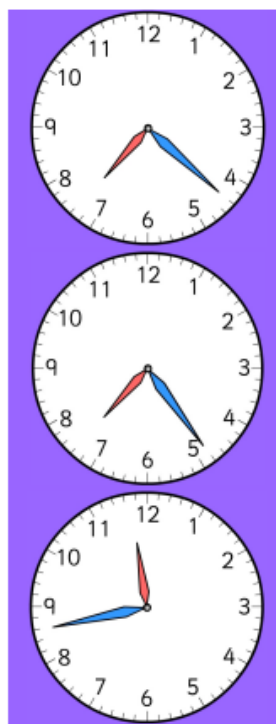
Exercice 2 : Ecris l'heure qui correspond à chaque horloge. Attention nous sommes le matin !



Il est _ 3 _H_ 52

Il est _ 3 _H_ 28

Il est _ 7 _H_ 49

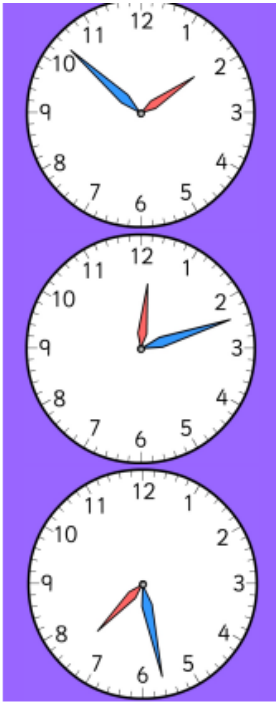


Il est _ 7 _H_ 22

Il est _ 7 _H_ 24

Il est _ 11 _H_ 43

Exercice 3 : Ecris l'heure qui correspond à chaque horloge. Attention nous sommes l'après-midi ou le soir !



Il est 13_H 52_.

Il est 12_H 12_.

Il est 19_H 28_.

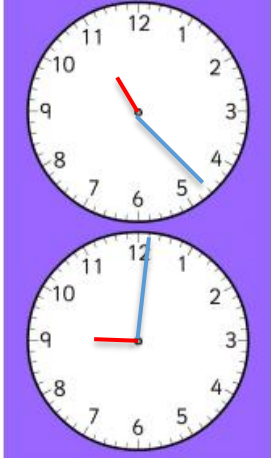


Il est 17_H 07_.

Il est 11_H 12_.

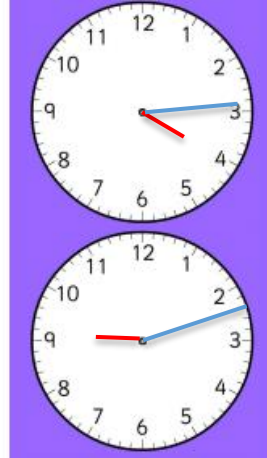
Il est 18_H 21_.

Exercice 4 : Dessine les aiguilles.



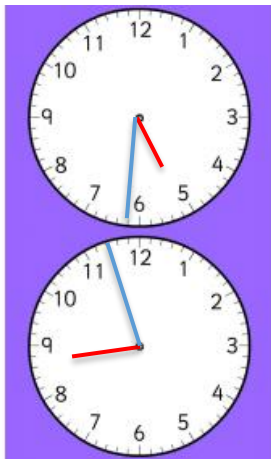
Il est 11H23

Il est 9H01




Il est 4H14

Il est 9H12



Il est 17H31





Il est 20H57



Il est 17H44




Il est 18H33

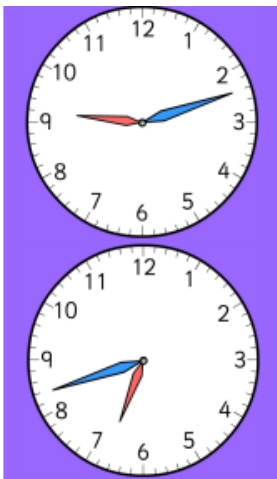
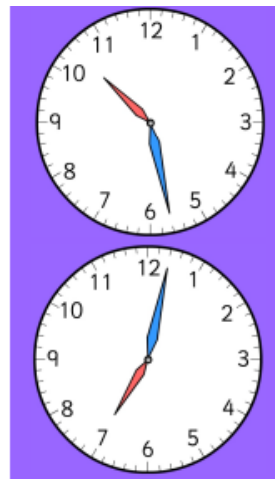
Grandeurs et mesures CM2 - corrigés

Nombre de réussites	17	De 12 à 16	De 6 à 11	< 6
Code de validation				

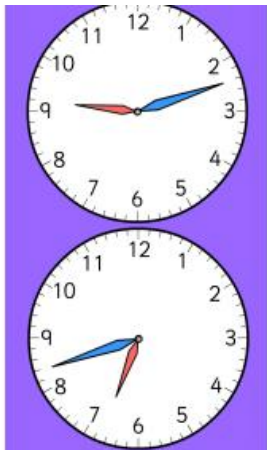
JE PROGRESSE	COMPÉTENCE	CODE
GM3	Je lis l'heure.	

Exercice 1 : Associe les deux horaires.

11h30  11 heures et quart
 11h15  11 heures et demi
 11h45  23 heures 45

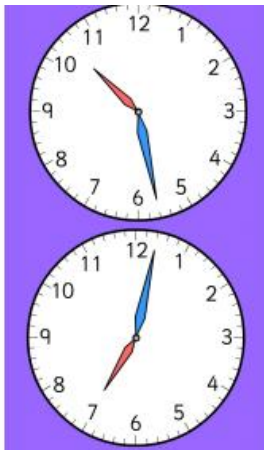
Exercice 2 : Ecris l'heure qui correspond à chaque horloge. Attention nous sommes le matin !Il est 9 H_ 12Il est 6 H_ 42Il est 10 H_ 28Il est 7 H_ 02

Exercice 3 : Ecris l'heure qui correspond à chaque horloge. Attention nous sommes l'après-midi ou le soir !



Il est 21 H_ 12

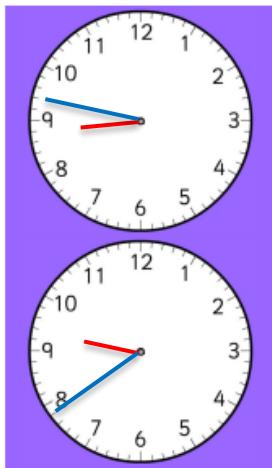
Il est 18 H_ 42



Il est 22 H_ 28


Il est 19 H_ 02

Exercice 4 : Dessine les aiguilles.



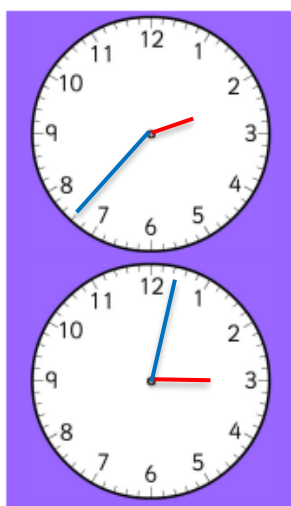
Il est 8H47

Il est 9H39



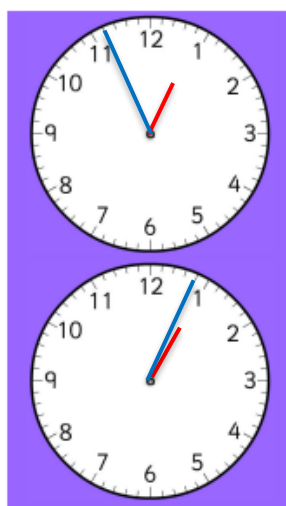
Il est 11H42

Il est 5H32



Il est 14H37

Il est 15H02







Il est 12H56

Il est 13H04

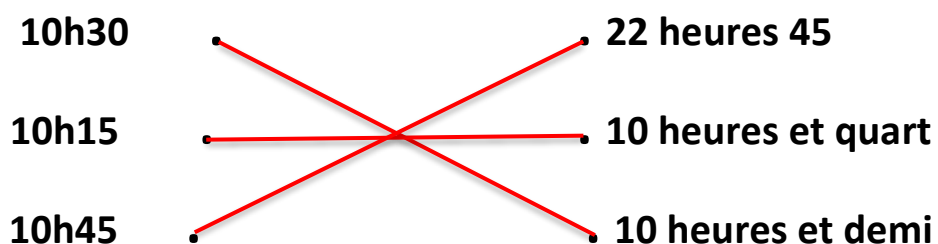
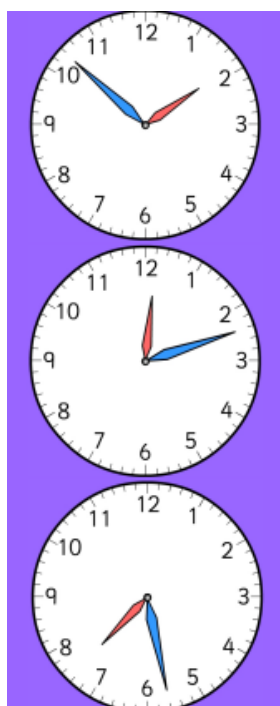
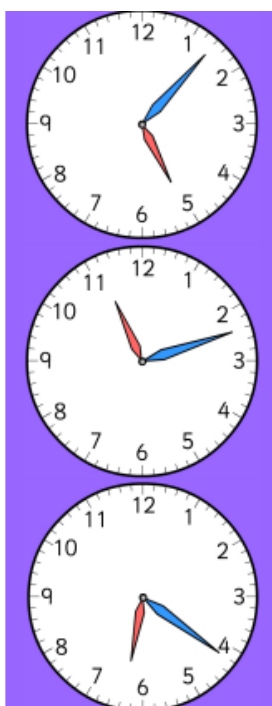
Exercices « EVALUATION »

E

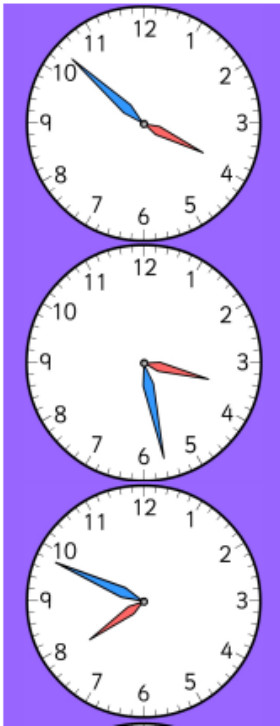
Grandeurs et mesures CM2 - corrigés

Nombre de réussites	23	De 17 à 22	De 8 à 16	< 8
Code de validation				

JE M'EVALUE	COMPÉTENCE	CODE
GM3	Je lis l'heure.	

Exercice 1 : Associe les deux horaires.Exercice 2 : Ecris l'heure qui correspond à chaque horloge. Attention nous sommes le matin !Il est 1 _H_ 52Il est 12 _H_ 12Il est 7 _H_ 28Il est 5 _H_ 07Il est 11 _H_ 12Il est 6 _H_ 21

Exercice 3 : Ecris l'heure qui correspond à chaque horloge. Attention nous sommes l'après-midi ou le soir !



Il est 15 _H_ 52 .

Il est 15 _H_ 28 .

Il est 19 _H_ 49 .

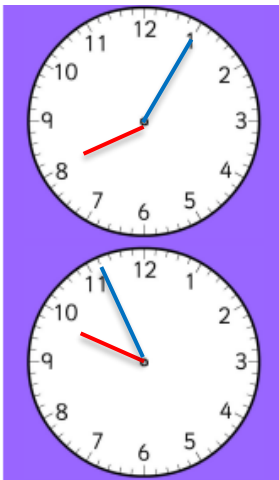


Il est 19 _H_ 22 .

Il est 19 _H_ 24 .

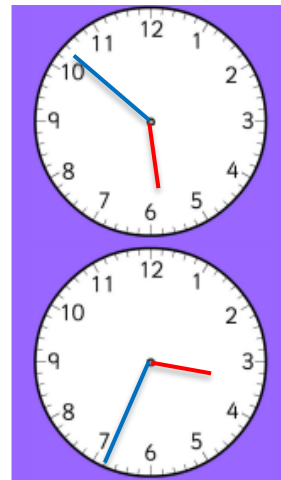
Il est 23 _H_ 43 .

Exercice 4 : Dessine les aiguilles.



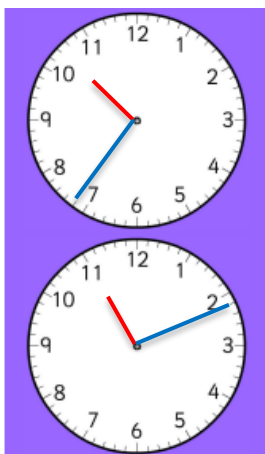
Il est 8H05

Il est 9H56




Il est 5H52

Il est 3H34



Il est 22H36

Il est 23H11



Il est 20H23

Il est 15H12