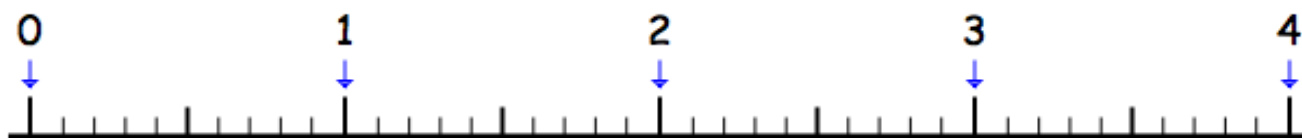


## Nombres et calculs – CM1

JE PROGRESSE	COMPÉTENCE	CODE
ND2	Je repère et je place des nombres décimaux sur une ligne graduée.	

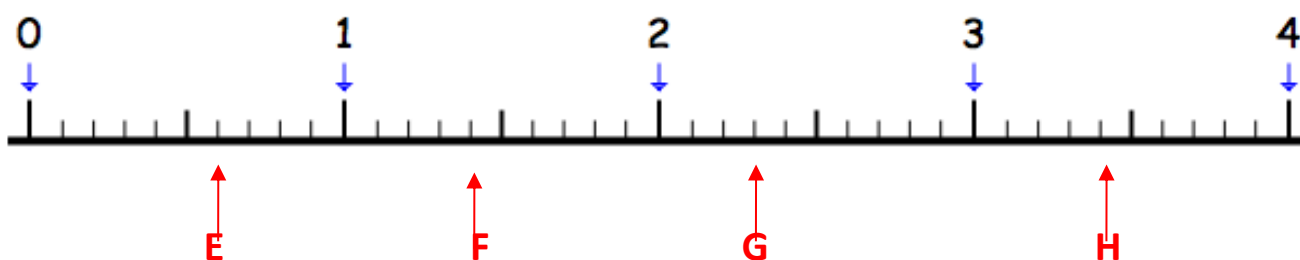
**Exercice 1 :** Place les lettres A, B, C et D qui correspondent aux nombres suivants.

A : 1,4 B : 2,3 C : 3,8 D : 0,7



**Exercice 2 :** Retrouve sur la ligne graduée, les nombres qui permettent de repérer :

E : \_\_\_\_\_ F : \_\_\_\_\_ G : \_\_\_\_\_ H : \_\_\_\_\_

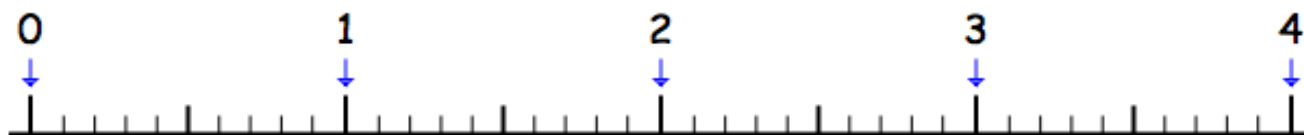


## Nombres et Calculs –CM1

JE PROGRESSE	COMPÉTENCE	CODE
ND2	Je repère et je place des nombres décimaux sur une ligne graduée.	

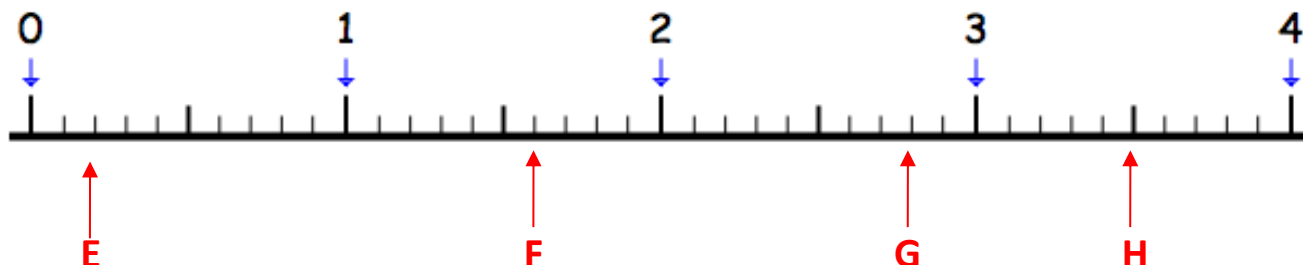
**Exercice 1 :** Place les lettres A, B, C et D qui correspondent aux nombres suivants.

A : 3,9 B : 0,2 C : 1,8 D : 2,7



**Exercice 2 :** Retrouve sur la ligne graduée, les nombres qui permettent de repérer :

E : \_\_\_\_\_ F : \_\_\_\_\_ G : \_\_\_\_\_ H : \_\_\_\_\_



## Exercices « EVALUATION »

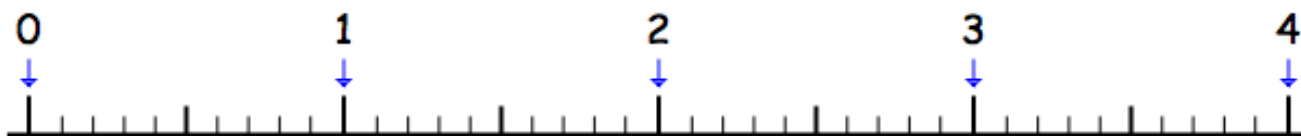
E

## Nombres et Calculs – CM1

JE M'ÉVALUE	COMPÉTENCE	CODE
ND2	Je repère et je place des nombres décimaux sur une ligne graduée.	

**Exercice 1 :** Place les lettres A, B, C et D qui correspondent aux nombres suivants.

A : 0,3 B : 3,4 C : 2,1 D : 1,7



**Exercice 2 :** Retrouve sur la ligne graduée, les nombres qui permettent de repérer :

E : \_\_\_\_\_ F : \_\_\_\_\_ G : \_\_\_\_\_ H : \_\_\_\_\_

