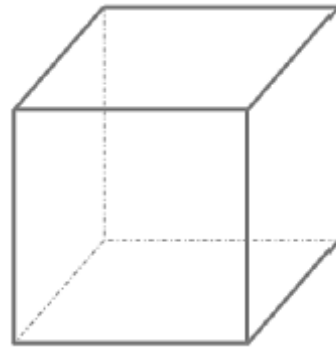
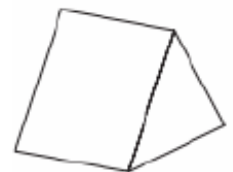
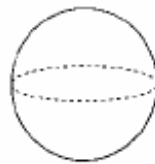
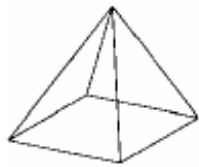
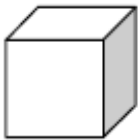


Géométrie et Espace –CM1

JE PROGRESSE	COMPÉTENCE	CODE
GE11	Je reconnais, nomme, compare et décris des solides.	

Exercice 1 : Vocabulaire du solide.

- Colorie en vert une arête.
- Colorie en Bleu une face **visible**.
- Entoure en rouge un sommet.


**Exercice 2 :** Entoure les polyèdres parmi les figures suivantes :**Exercice 3 :** Jeu des énigmes.

- 1)
- Mes faces opposées sont parallèles et superposables.
 - Je possède au moins Une face rectangulaire.
 - Qui suis-je ?

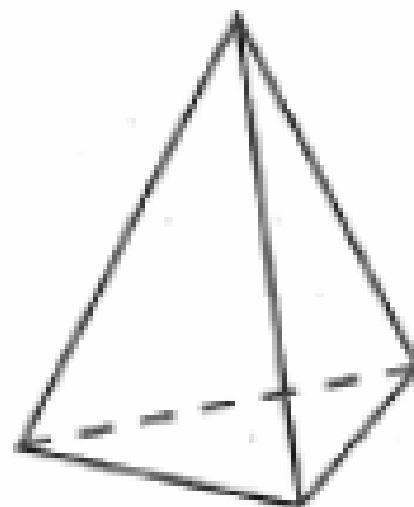
- 2)
- Je n'ai qu'une seule face et pourtant je suis un solide
 - Qui suis-je ?

Exercice 4 : La carte d'identité des solides. (*Complète la carte d'identité des solides ci-dessous*).

Carte d'identité	
Nombre de faces	
Nombre d'arêtes	
Nombre de sommets	
Forme des faces	



Carte d'identité	
Nombre de faces	
Nombre d'arêtes	
Nombre de sommets	
Forme des faces	

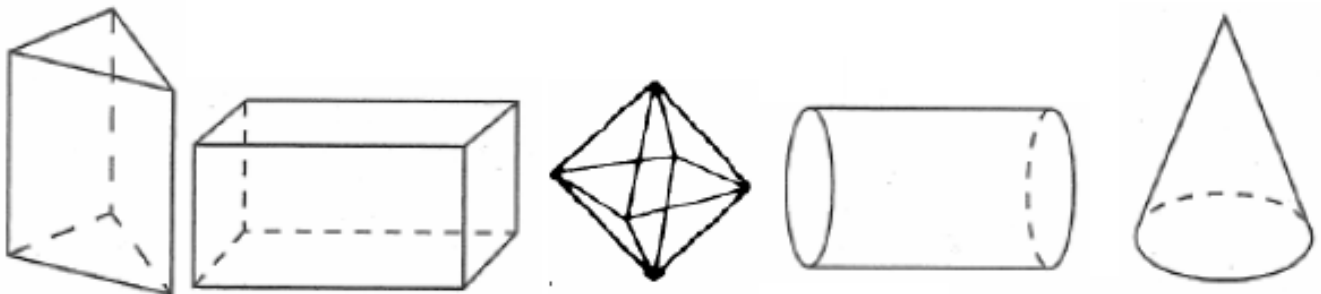


Géométrie et Espace – CM1

JE PROGRESSE	COMPÉTENCE	CODE
GE11	Je reconnais, nomme, compare et décris des solides.	

Exercice 1 : Vocabulaire du solide.

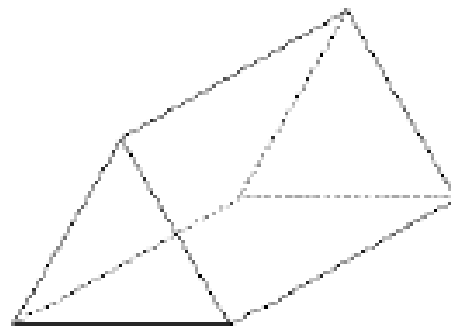
- Colorie en vert une arête.
- Colorie en Bleu une face **visible**.
- Entoure en rouge un sommet.

**Exercice 2 :** Entoure les polyèdres parmi les figures suivantes :**Exercice 3 :** Jeu des énigmes.

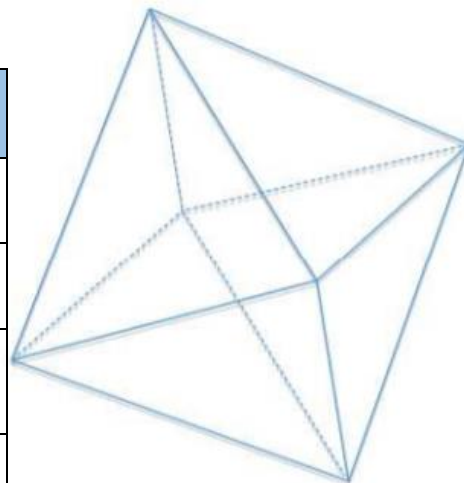
- 1)
 - J'ai 12 arêtes et au moins 3 de mes faces sont carrées.
 - Qui suis-je ?
-
- 2)
 - Si on colle deux cubes de même dimension par une de leur face on m'obtient.
 - Qui suis-je ?
-

Exercice 4 : La carte d'identité des solides. (*Complète la carte d'identité des solides ci-dessous*).

Carte d'identité	
Nombre de faces	
Nombre d'arêtes	
Nombre de sommets	
Forme des faces	



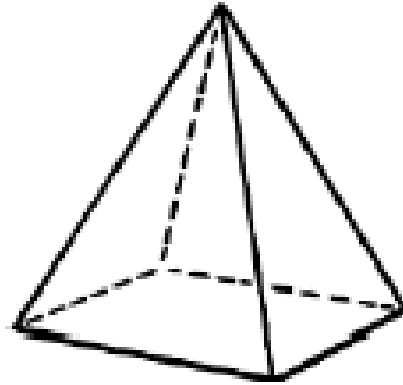
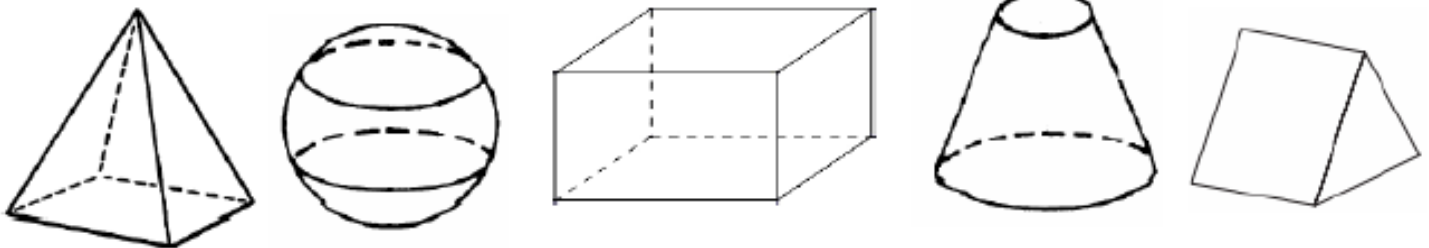
Carte d'identité	
Nombre de faces	
Nombre d'arêtes	
Nombre de sommets	
Forme des faces	



JE M'ÉVALUE	COMPÉTENCE	CODE
GE11	Je reconnais, nomme, compare et décris des solides.	

Exercice 1 : Vocabulaire du solide.

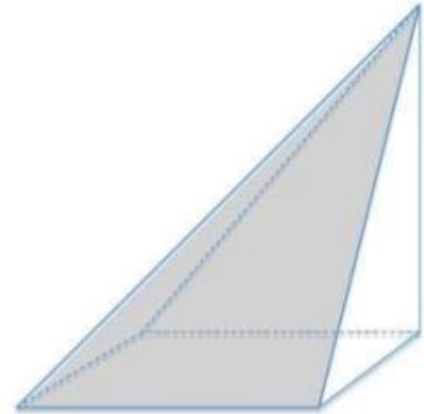
- Colorie en vert une arête.
- Colorie en Bleu une face **visible**.
- Entoure en rouge un sommet.

**Exercice 2 :** Entoure les polyèdres parmi les figures suivantes :**Exercice 3 :** Jeu des énigmes.

- Toutes mes faces sont superposables.
 - Toutes mes arêtes sont de même longueur.
 - Je possède 4 faces triangulaires.
 - Qui suis-je ?
-
- Je possède 3 faces mais aucun sommet.
 - L'une de mes faces est une face courbe.
 - Qui suis-je ?
-

Exercice 4 : La carte d'identité des solides. (*Complète la carte d'identité des solides ci-dessous*).

Carte d'identité	
Nombre de faces	
Nombre d'arêtes	
Nombre de sommets	
Forme des faces	



Carte d'identité	
Nombre de faces	
Nombre d'arêtes	
Nombre de sommets	
Forme des faces	

