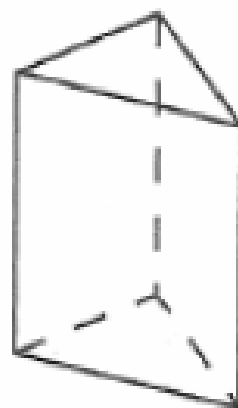
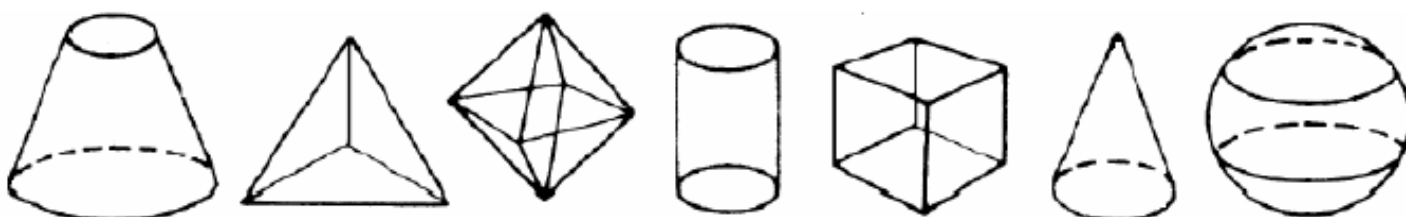


JE PROGRESSE	COMPÉTENCE	CODE
GE11	Je reconnais, nomme, compare et décris des solides.	

Exercice 1 : Vocabulaire du solide.

- Colorie en vert une arête.
- Colorie en bleu une face **visible**.
- Colorie en orange une face **cachée**.
- Entoure en rouge un sommet.

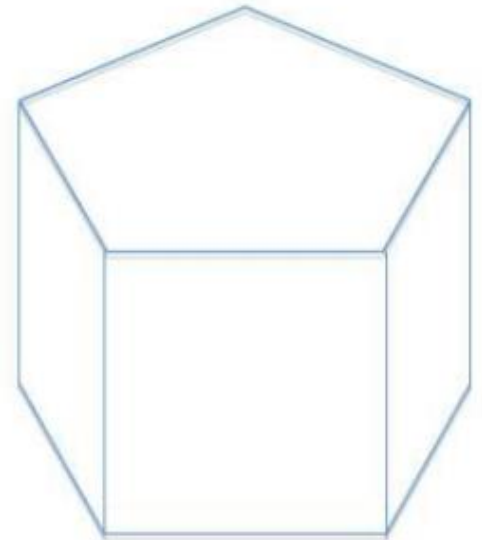
**Exercice 2 :** Entoure les polyèdres parmi les figures suivantes :**Exercice 3 :** Jeu des énigmes.

- 1)
- Mes faces opposées sont parallèles et superposables.
 - Je possède au moins Une face rectangulaire.
 - Qui suis-je ?

- 2)
- Je n'ai qu'une seule face et pourtant je suis un solide
 - Qui suis-je ?

Exercice 4 : La carte d'identité des solides. (*Complète la carte d'identité des solides ci-dessous*).

Carte d'identité	
Nombre de faces	
Nombre d'arêtes	
Nombre de sommets	
Forme des faces	

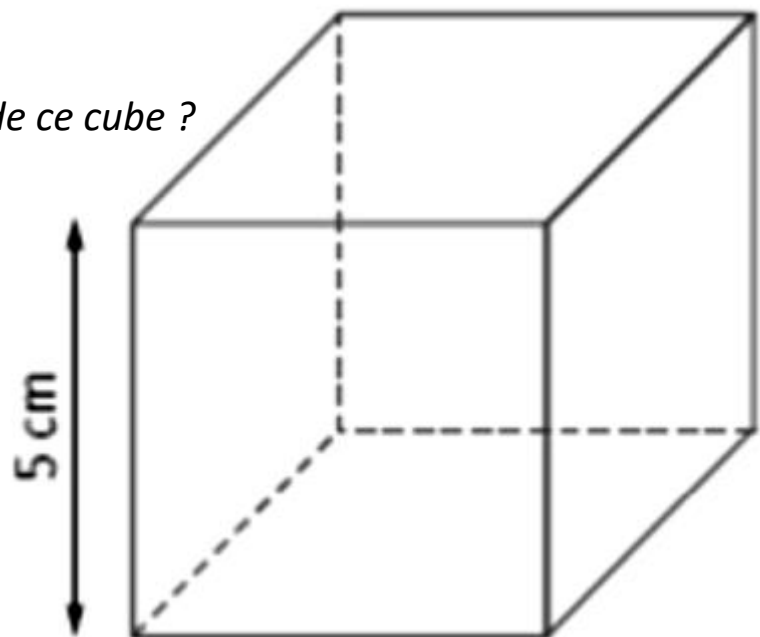


Carte d'identité	
Nombre de faces	
Nombre d'arêtes	
Nombre de sommets	
Forme des faces	



Exercice 5 : Problème.

Quelle est la longueur totale des arêtes de ce cube ?

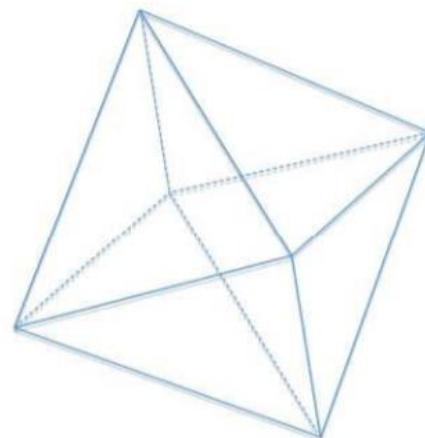
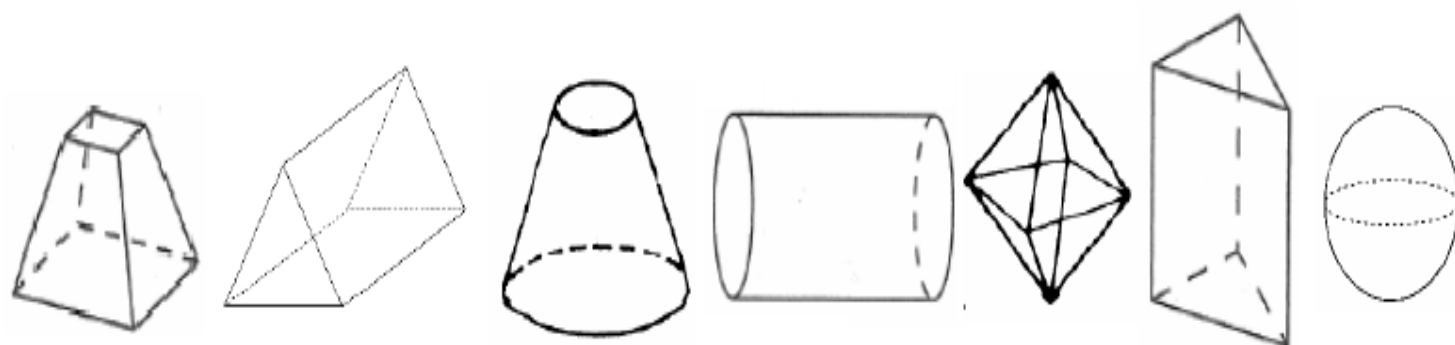


Géométrie et Espace – CM2

JE PROGRESSE	COMPÉTENCE	CODE
GE11	Je reconnais, nomme, compare et décris des solides.	

Exercice 1 : Vocabulaire du solide.

- Colorie en vert une arête.
- Colorie en Bleu une face **visible**.
- Colorie en orange une face **cachée**.
- Entoure en rouge un sommet.

**Exercice 2 :** Entoure les polyèdres parmi les figures suivantes :**Exercice 3 :** Jeu des énigmes.

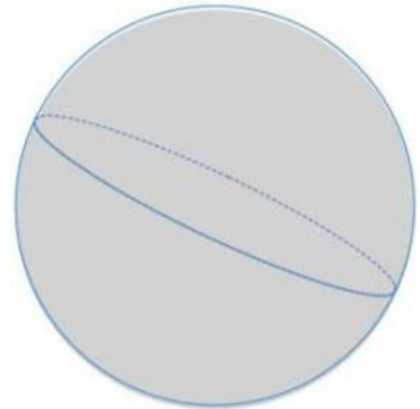
- Mes faces opposées sont parallèles et superposables.
 - Je possède au moins Une face rectangulaire.
 - Qui suis-je ?
-
- Je n'ai qu'une seule face et pourtant je suis un solide
 - Qui suis-je ?
-

Exercice 4 : La carte d'identité des solides. (Complète la carte d'identité des solides ci-dessous).


Carte d'identité	
Nombre de faces	
Nombre d'arêtes	
Nombre de sommets	
Forme des faces	



Carte d'identité	
Nombre de faces	
Nombre d'arêtes	
Nombre de sommets	
Forme des faces	



Exercice 5 : Observe le dessin et complète dans le tableau le nombre de solides de chaque type.

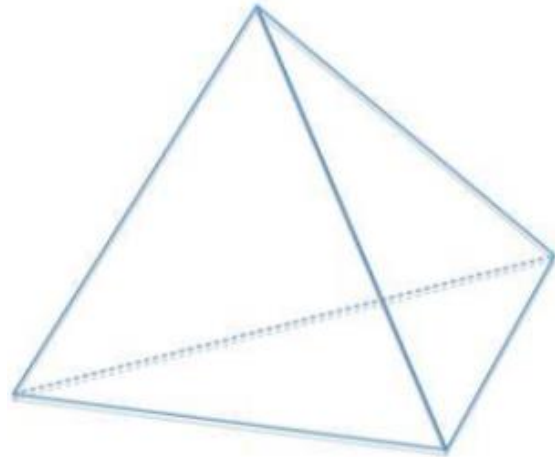
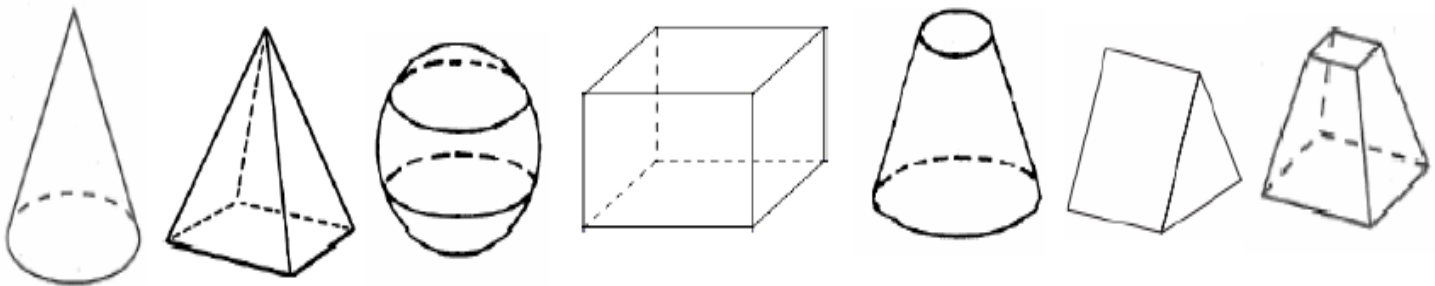


Cylindre	___
Pavé droit	___
Sphère	___
Pyramide	___
Cône	___

JE M'EVALUE	COMPÉTENCE	CODE
GE11	Je reconnais, nomme, compare et décris des solides.	

Exercice 1 : Vocabulaire du solide.

- Colorie en vert une arête.
- Colorie en Bleu une face **visible**.
- Colorie en orange une face **cachée**.
- Entoure en rouge un sommet.

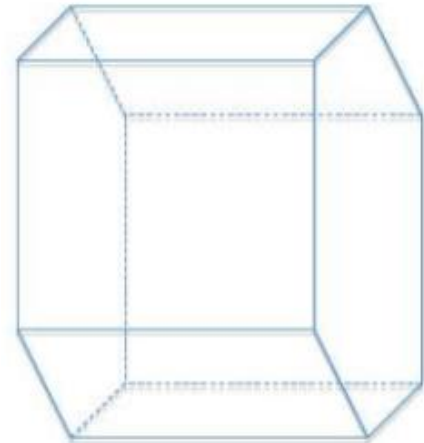
**Exercice 2 :** Entoure les polyèdres parmi les figures suivantes :**Exercice 3 :** Jeu des énigmes.

- Toutes mes faces sont superposables.
- Toutes mes arêtes sont de même longueur.
- Au moins une de mes faces est triangulaire.
 - Qui suis-je ?

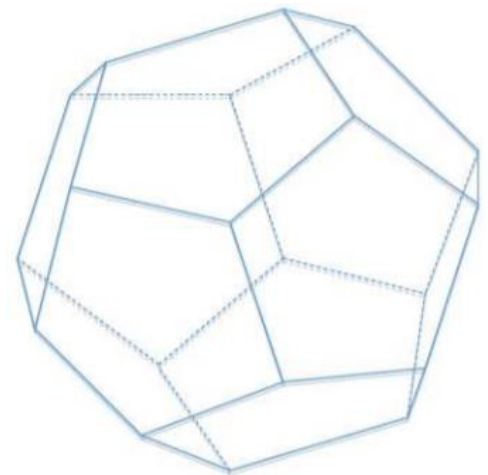
- Je possède 3 faces mais aucun sommet.
 - Qui suis-je ?

Exercice 4 : La carte d'identité des solides. (Complète la carte d'identité des solides ci-dessous).

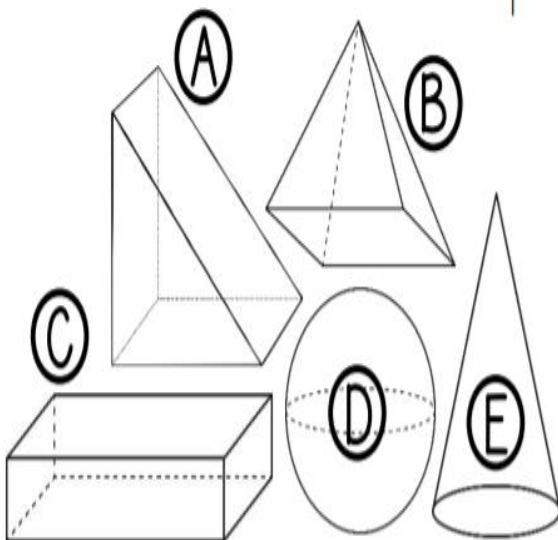
Carte d'identité	
Nombre de faces	
Nombre d'arêtes	
Nombre de sommets	
Forme des faces	



Carte d'identité	
Nombre de faces	
Nombre d'arêtes	
Nombre de sommets	
Forme des faces	



Exercice 5 : Retrouve le solide dont chacun parle.



	C'est le solide ...				
	A	B	C	D	E
1) Ella : « Mon solide a <u>4 faces triangulaires</u> . »					
2) Luka : « Les <u>6 faces</u> de mon solide sont <u>rectangulaires</u> . »					
3) Rose : « Le mien compte <u>5 faces</u> , <u>6 sommets</u> et <u>9 arêtes</u> . »					
4) Alice : « Mon solide a <u>un seul sommet</u> »					
5) Diego : « Le mien est composé d' <u>une seule face courbe</u> »					