

Nom – Prénom : _____

MATHÉMATIQUES

Nombres et Calculs CM1 - « Je m'entraîne » n°1

JE M'ENTRAINE	COMPÉTENCE	CODE
NE1	Je connais la valeur des chiffres dans un nombre entier.	

Exercice 1 : Combien y a-t-il de cubes dans chaque collection ?

A = _____	B = _____	C = _____	D = _____





Exercice 2 : Dessine le nombre de cubes demandés.

659	
1 302	
9 658	

Nom – Prénom : _____

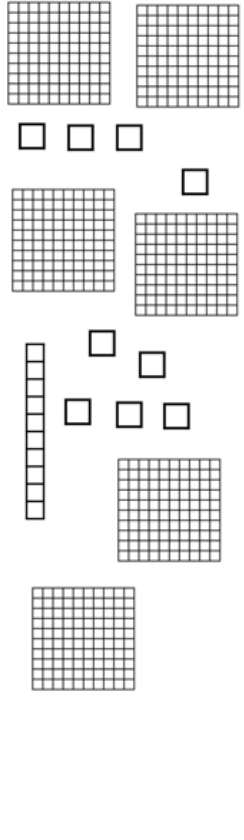
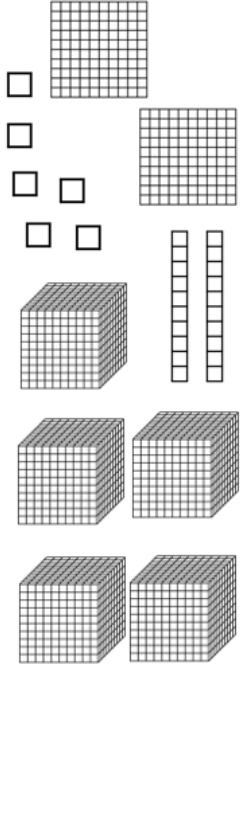
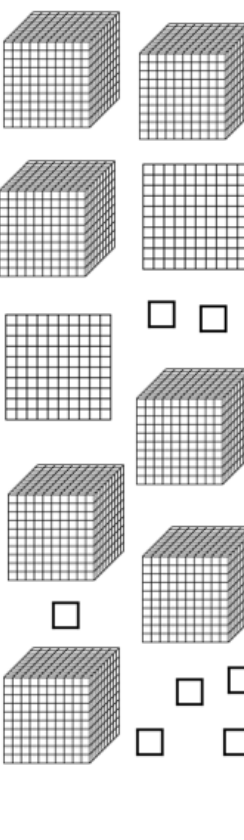
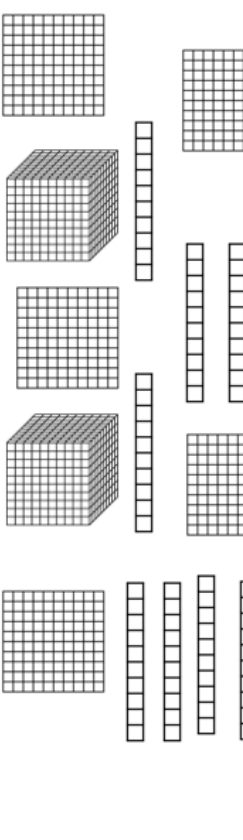
MATHÉMATIQUES

Nombres et Calculs CM1 - « Je m'entraîne » n°1 **CORRIGÉS**

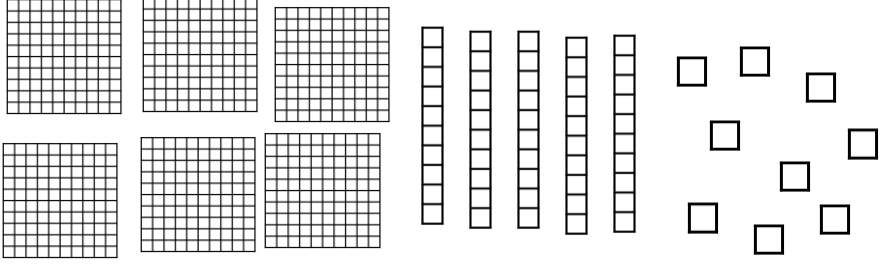

Nombre de réussites	7	6	De 2 à 5	> 2
Code de validation				

JE M'ENTRAINE	COMPÉTENCE	CODE
NE1	Je connais la valeur des chiffres dans un nombre entier.	

Exercice 1 : Combien y a-t-il de cubes dans chaque collection ?

			
A = 619	B = 5 226	C = 7 207	D = 2 591

Exercice 2 : Dessine les collections.

<p>659</p>	
<p>1 302</p>	
<p>9 658</p>	