

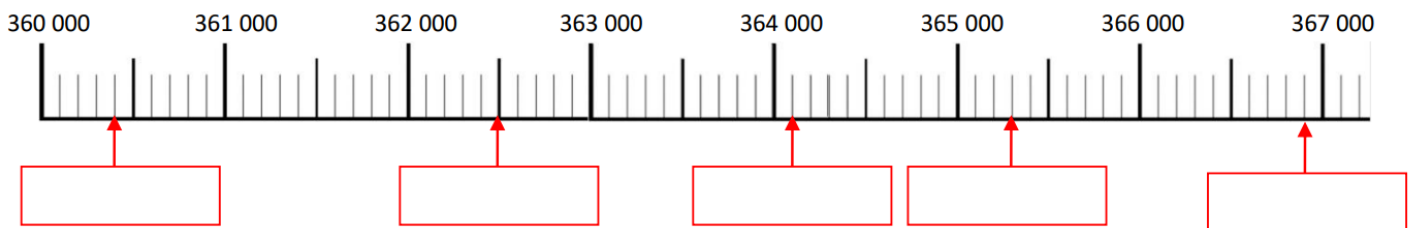
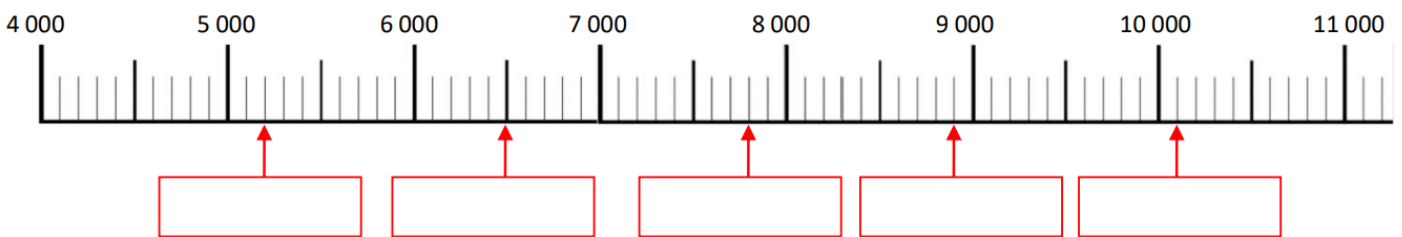
Nom – Prénom : _____

MATHÉMATIQUES

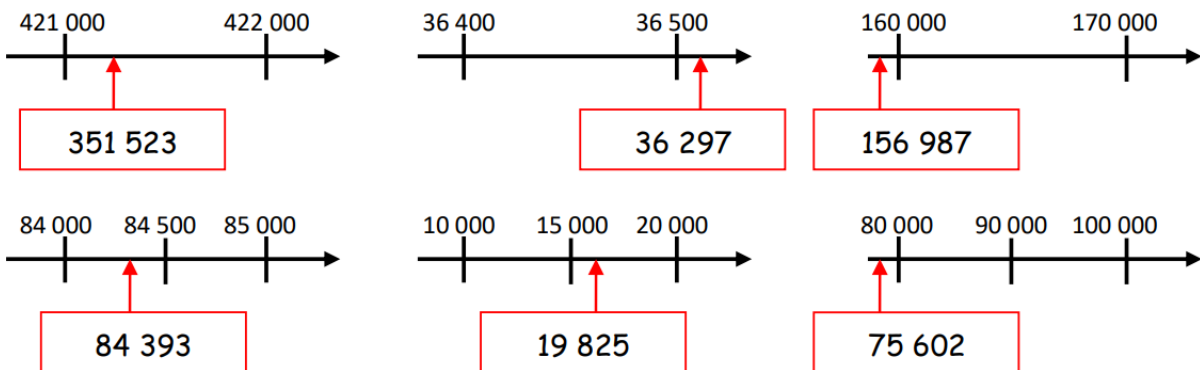
Nombres et Calculs CM1 - « Je m'entraîne » n°2

JE M'ENTRAINE	COMPÉTENCE	CODE
NE3	Je place et encadre les nombres inférieurs au million sur une ligne graduée.	

Exercice 1 : Ecris les nombres indiqués par une flèche.

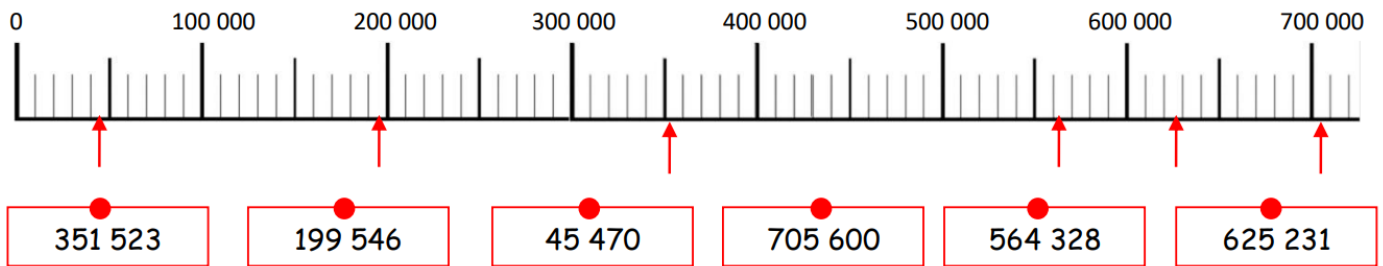


Exercice 2 : Colorie en vert les étiquettes qui sont bien placées et en rouge celles qui sont mal placées.



Exercice 3 :

a. Prolonge les flèches pour placer les nombres sur la droite graduée.







**b. En utilisant les graduations, encadre les nombres : 351 523 ; 199 546 ;
45 470 ; 705 600 ; 564 328 ; 625 231.
Utilise le symbole de comparaison « < » (inférieur à).**

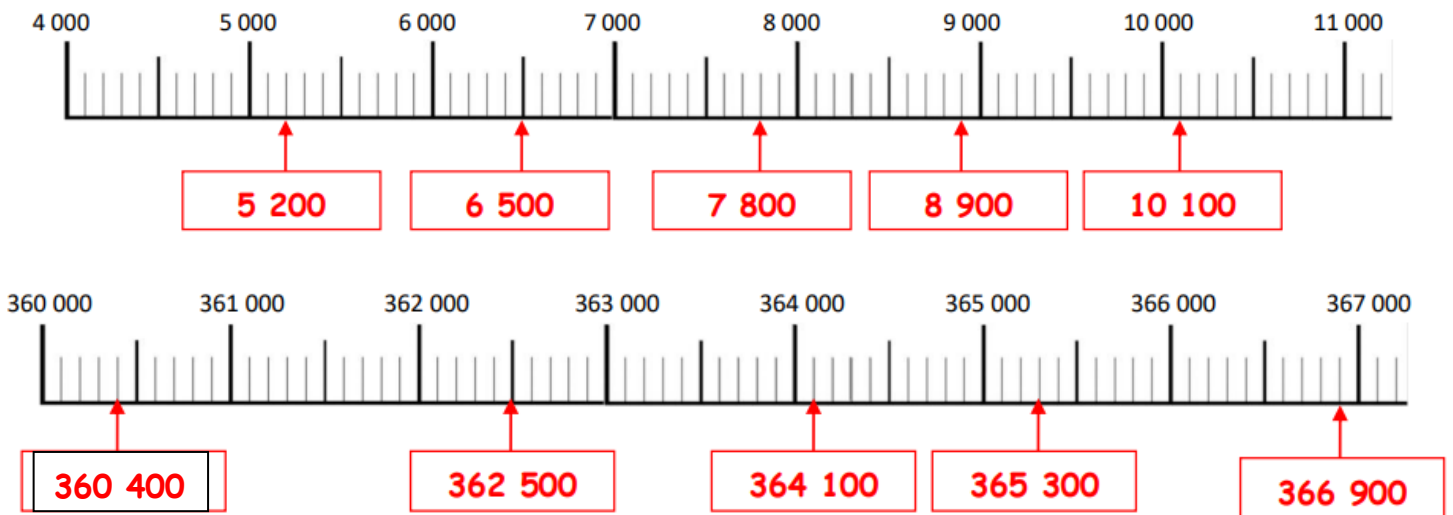
Nom – Prénom : _____

MATHÉMATIQUES

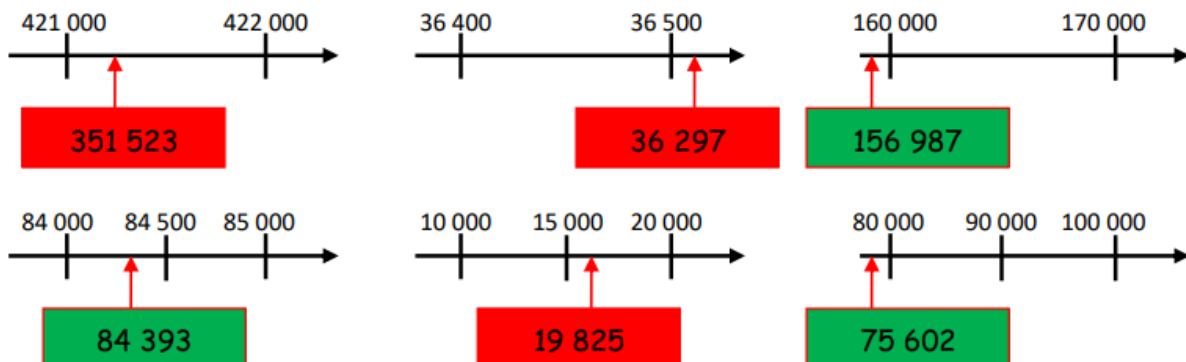
Nombres et Calculs CM1 - « Je m'entraîne » n°2 CORRIGÉS

JE M'ENTRAINE	COMPÉTENCE				CODE
NE3	Je compare, encadre et place les nombres inférieurs au million sur une ligne graduée.				
Nombre de réussites	28	De 21 à 27	De 9 à 20	< 9	
Code de validation					

Exercice 1 : Ecris les nombres indiqués par une flèche.

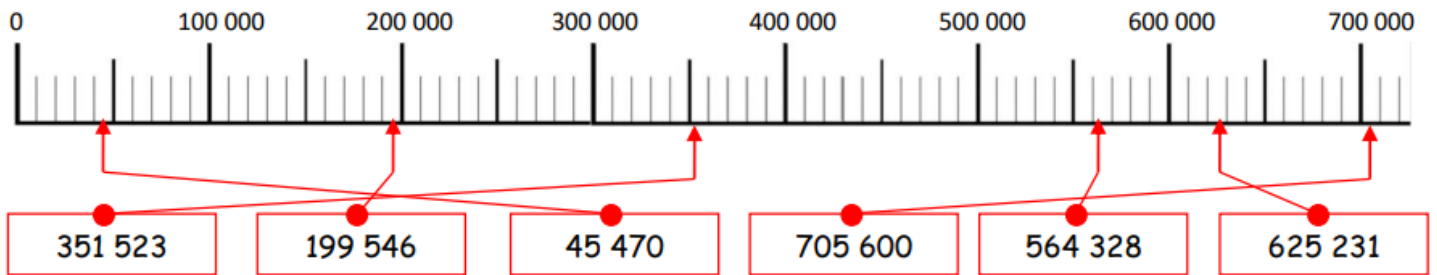


Exercice 2 : Colorie en vert les étiquettes qui sont bien placées et en rouge celles qui sont mal placées.



Exercice 3 :

a. Prolonge les flèches pour placer les nombres sur la droite graduée.



b. En utilisant les graduations, encadre les nombres : 351 523 ; 199 546 ; 45 470 ; 705 600 ; 564 328 ; 625 231.

Utilise le symbole de comparaison « < » (inférieur à).

$$300\ 000 < 351\ 523 < 400\ 000$$

$$100\ 000 < 199\ 546 < 200\ 000$$

$$0 < 45\ 470 < 100\ 000$$

$$700\ 000 < 705\ 600 < 800\ 000$$

$$500\ 000 < 564\ 328 < 600\ 000$$

$$600\ 000 < 625\ 231 < 700\ 000$$