

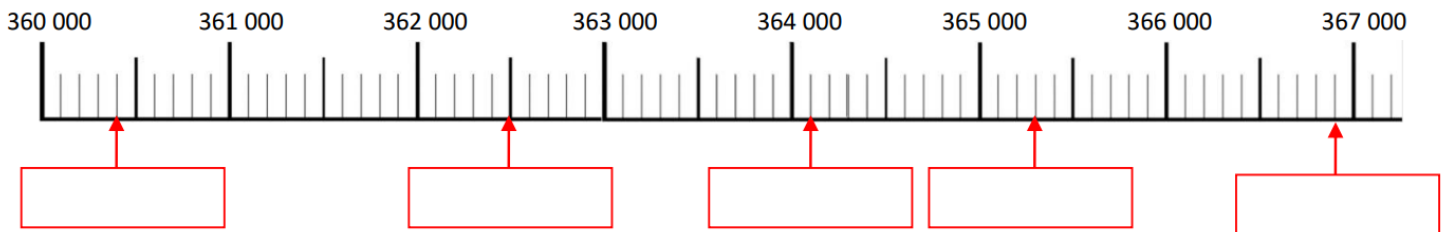
Nom – Prénom : _____

MATHÉMATIQUES

Nombres et Calculs CM2 - « Je m'entraîne » n°2

JE M'ENTRAINE	COMPÉTENCE	CODE
NE3	J'encadre et place les nombres inférieurs au million sur une ligne graduée.	

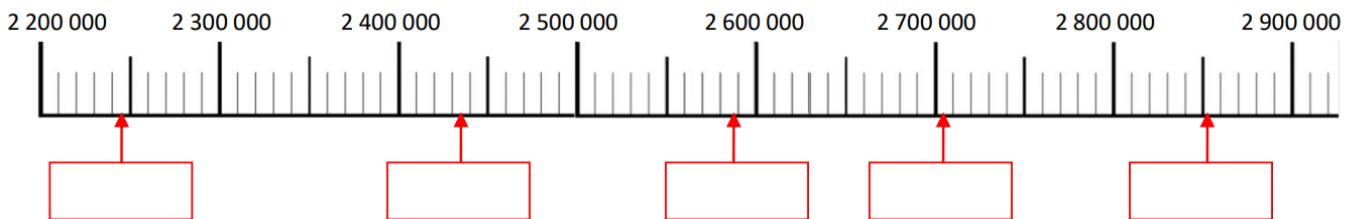
Exercice 1 : Ecris les nombres indiqués par une flèche.



Exercice 2 :

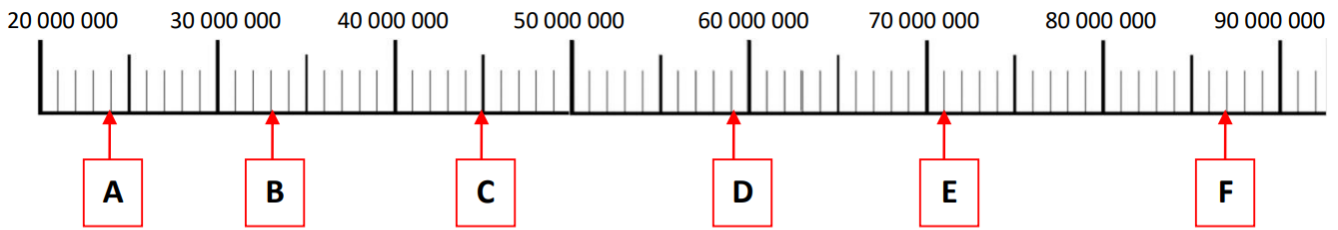
- a. Place les nombres dans les bonnes cases sur la droite graduée.
Attention aux intrus !

2 851 235	1 249 465	2 705 987	3 005 951	2 247 398
2 130 789	2 437 079	2 970 648	2 589 548	2 363 701



- b. En utilisant les graduations, encadre les nombres écrits dans les cases rouges.
Utilise le symbole de comparaison « < » (inférieur à).

Exercice 3 : Écris les nombres représentés par les lettres sur la droite graduée.



A : _____

B : _____

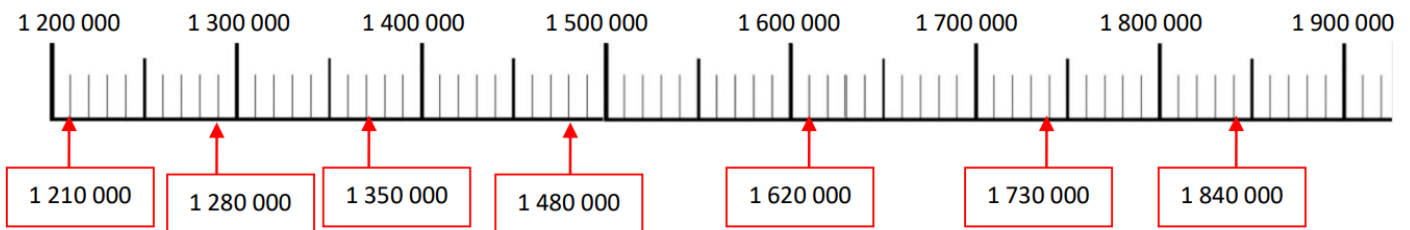
C : _____

D : _____

E : _____

F : _____

Exercice 4 : Colorie en vert les étiquettes qui sont bien placées et en rouge celles qui sont mal placées.



Nom – Prénom : _____

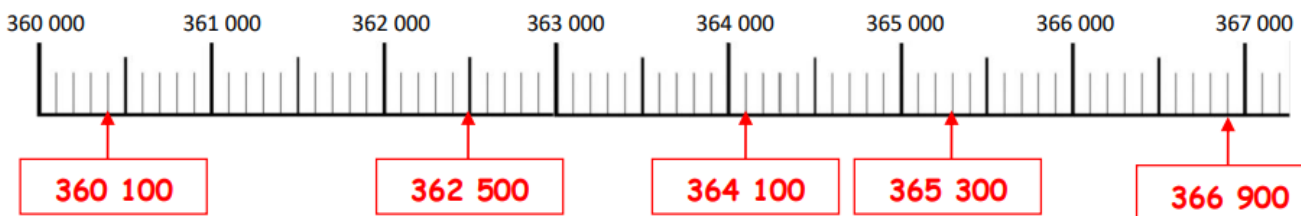
MATHÉMATIQUES

Nombres et Calculs CM2 - « Je m'entraîne » n°2 CORRIGÉS

JE M'ENTRAINE	COMPÉTENCE	CODE
NE3	Je compare, encadre et place les nombres inférieurs au million sur une ligne graduée.	

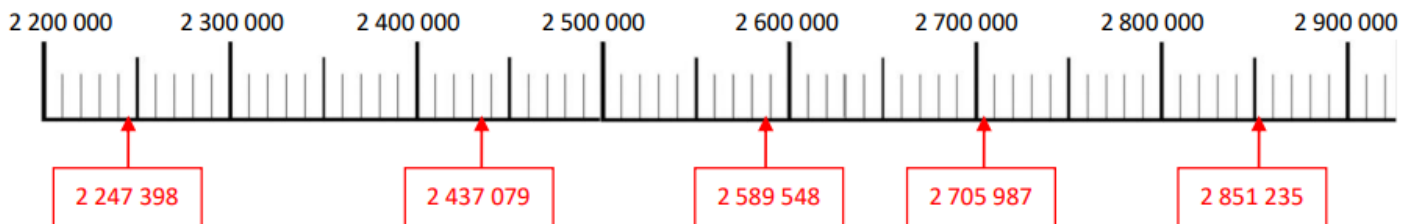
Nombre de réussites	27	De 20 à 26	De 10 à 19	< 10
Code de validation	●	●	●	●

Exercice 1 : Ecris les nombres indiqués par une flèche.



Exercice 2 :

- a. Place les nombres dans les bonnes cases sur la droite graduée.
Attention aux intrus !



- b. En utilisant les graduations, encadre les nombres écrits dans les cases rouges.

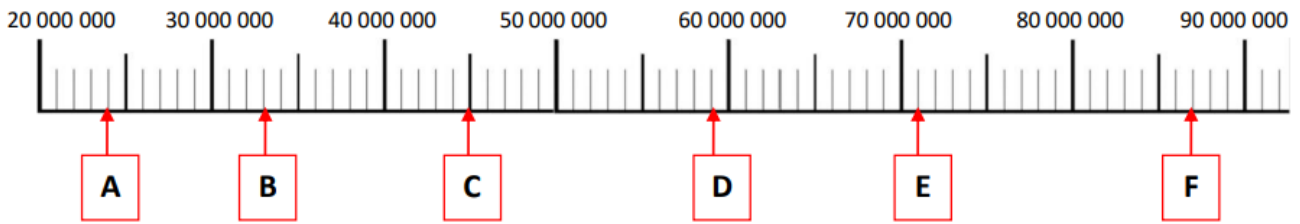
Utilise le symbole de comparaison « < » (inférieur à).

$$2\ 200\ 000 < 2\ 247\ 398 < 2\ 300\ 000 \quad 2\ 400\ 000 < 2\ 437\ 079 < 2\ 500\ 000$$

$$2\ 500\ 000 < 2\ 589\ 548 < 2\ 600\ 000 \quad 2\ 700\ 000 < 2\ 705\ 987 < 2\ 800\ 000$$

$$2\ 800\ 000 < 2\ 851\ 235 < 2\ 900\ 000$$

Exercice 3 : Écris les nombres représentés par les lettres sur la droite graduée.



A : 24 000 000

B : 33 000 000

C : 45 000 000

D : 59 000 000

E : 71 000 000

F : 87 000 000

Exercice 4 : Colorie en vert les étiquettes qui sont bien placées et en rouge celles qui sont mal placées.

