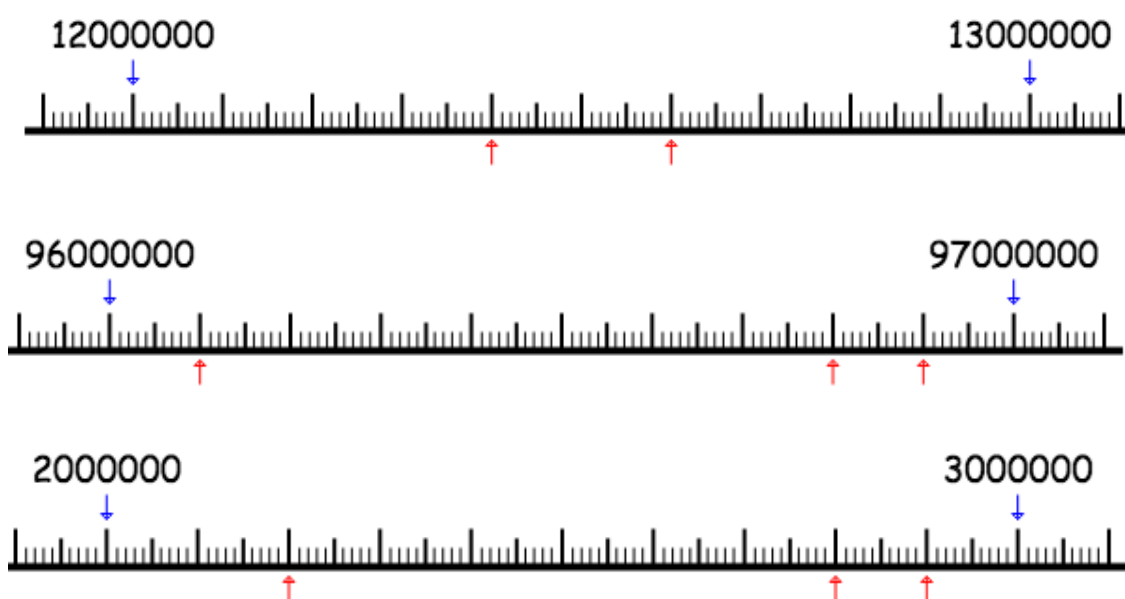


## Exercices Autocorrectifs « Je progresse »


## Nombres et calculs - CM2

JE PROGRESSE	COMPÉTENCE	CODE
NE3	Je compare, encadre et place les nombres supérieurs au million sur une ligne graduée.	

**Exercice 1 :** Indique le nombre qui correspond sous chaque flèche.



**Exercice 2 :** Place les lettres correspondant à chaque nombre sur la ligne graduée.



A	B	C	D	E
14 550 000	15 050 000	14 100 000	14 730 000	14 220 000

**Exercice 3 : Recopie et complète à l'aide des signes < ou >.**

- a. 1 000 000 ..... 6 000 000
- b. 67 000 000 ..... 76 000 000
- c. 120 000 000 ..... 210 000 000
- d. 34 111 400 .... 34 114 100
- e. 800 005 000 ..... 500 080 000

**Exercice 4 : Range ces nombres dans l'ordre décroissant.**

**5809 000 - 5 800 - 358 000 - 309 580 000 - 58 000 309**

---

**Exercice 5 : Encadre ces nombres au million près.**

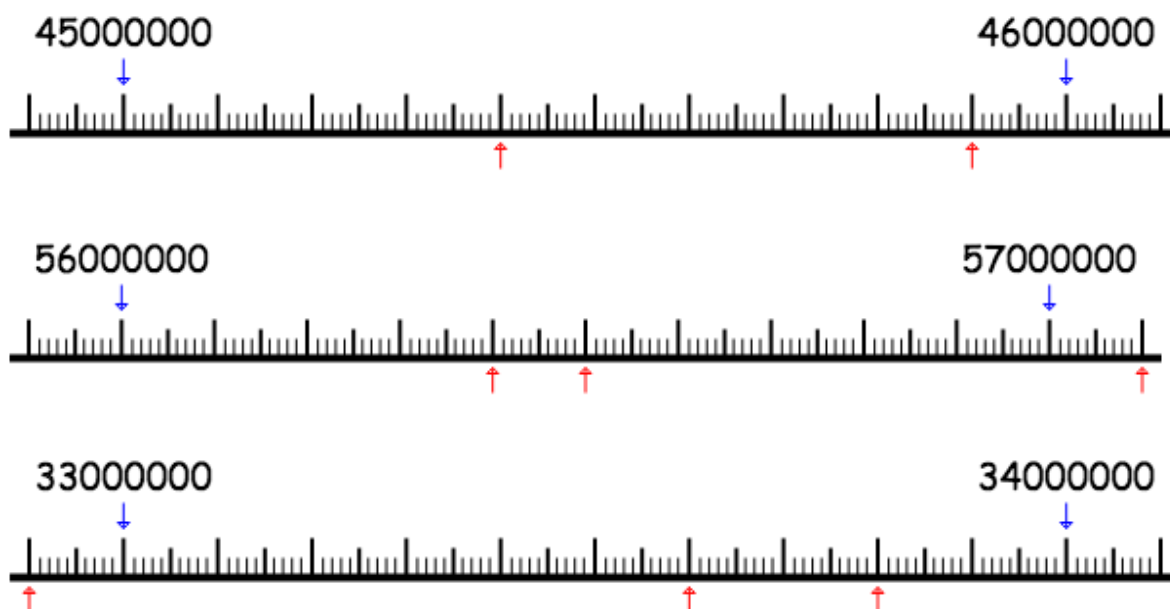
- a) \_\_\_\_\_ < 4 168 090 < \_\_\_\_\_
- b) \_\_\_\_\_ < 26 700 901 < \_\_\_\_\_
- c) \_\_\_\_\_ < 92 423 440 < \_\_\_\_\_
- d) \_\_\_\_\_ < 7 209 346 < \_\_\_\_\_
- e) \_\_\_\_\_ < 649 545 869 < \_\_\_\_\_

## Exercices Autocorrectifs « Je progresse »

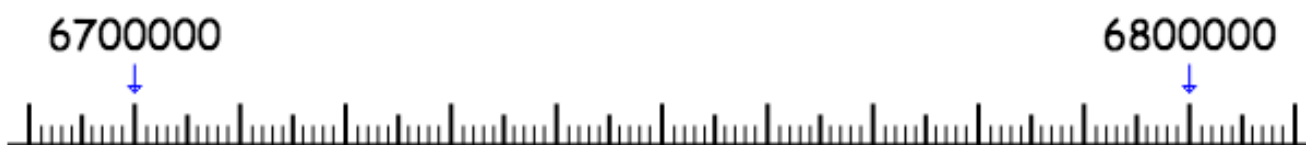
## Nombres et calculs - CM2

JE PROGRESSE	COMPÉTENCE	CODE
NE3	Je compare, encadre et place les nombres supérieurs au million sur une ligne graduée.	

**Exercice 1 :** Indique le nombre qui correspond sous chaque flèche.



**Exercice 2 :** Place les lettres correspondant à chaque nombre sur la ligne graduée.



A	B	C	D	E
67 400 000	67 150 000	67 350 000	67 800 000	67 500 000

**Exercice 3 : Recopie et complète à l'aide des signes < ou >.**

- a. 7 000 000 .... 9 000 000
- b. 79 000 000 ..... 89 000 000
- c. 760 000 000 ..... 770 000 000
- d. 39 666 900 ..... 39 669 600
- e. 300 006 000 ..... 400 060 000

**Exercice 4 : Range ces nombres dans l'ordre décroissant.**

**4 000 760 - 40 760 000 - 476 000 - 4 760 000 - 76 400 000**

---

**Exercice 5 : Encadre ces nombres au million près.**

a) \_\_\_\_\_ < 98 000 090 < \_\_\_\_\_

b) \_\_\_\_\_ < 810 330 909 < \_\_\_\_\_

c) \_\_\_\_\_ < 734 200 440 < \_\_\_\_\_

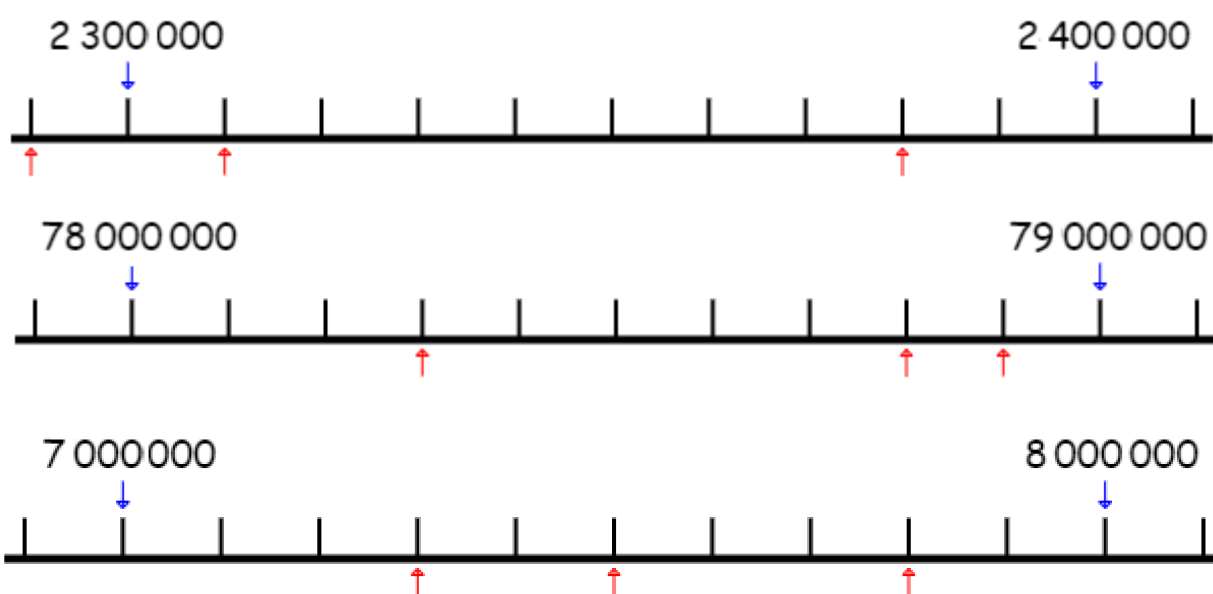
d) \_\_\_\_\_ < 346 405 660 < \_\_\_\_\_

e) \_\_\_\_\_ < 86 988 339 < \_\_\_\_\_

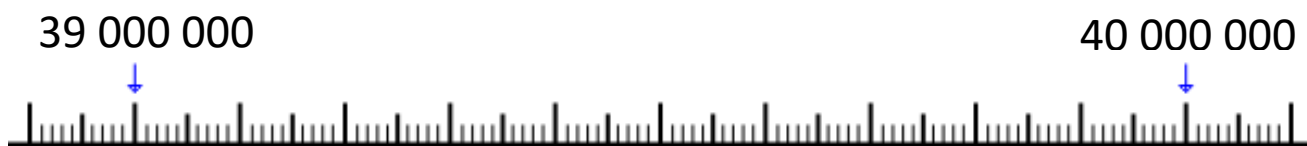
## Nombres et calculs - CM2

JE M'ÉVALUE	COMPÉTENCE	CODE
NE3	Je compare, encadre et place les nombres supérieurs au million sur une ligne graduée.	

**Exercice 1 :** Indique le nombre qui correspond sous chaque flèche rouge.



**Exercice 2 :** Place les lettres correspondant à chaque nombre sur la ligne graduée.



A	B	C	D	E
39 250 000	39 050 000	39 100 000	39 700 000	39 950 000

**Exercice 3 : Compare les nombres suivants**

- a. 6 000 000 ..... 5 000 000
- b. 45 000 000 ..... 55 000 000
- c. 860 000 000 ..... 850 000 000
- d. 38 888 900 ..... 38 889 800
- e. 700 008 000 ..... 700 080 000

**Exercice 4 : Range ces nombres dans l'ordre décroissant.**

**540 000 012 ; 540 120 000 ; 12 000 540 ; 540 017 ; 1 450 200**

---

**Exercice 5 : Intercale un nombre**

- a)  $789 < \underline{\hspace{2cm}} < 791$
- b)  $50\,000 < \underline{\hspace{2cm}} < 60\,000$
- c)  $121\,254 < \underline{\hspace{2cm}} < 121\,256$

**Exercice 6 : Encadre ces nombres :**

- à la centaine près :**
- a)  $\underline{\hspace{2cm}} \quad 786 \quad \underline{\hspace{2cm}}$
  - b)  $\underline{\hspace{2cm}} \quad 676\,023 \quad \underline{\hspace{2cm}}$
- au million près :**
- d)  $\underline{\hspace{2cm}} \quad 12\,070\,600 \quad \underline{\hspace{2cm}}$
  - e)  $\underline{\hspace{2cm}} \quad 78\,000\,400 \quad \underline{\hspace{2cm}}$

**Exercice 7 : Arrondis les nombres suivants :**

- à la centaine près :**
- a) 786  $\underline{\hspace{2cm}}$
  - b) 676 023  $\underline{\hspace{2cm}}$
- au million près :**
- d) 12 070 600  $\underline{\hspace{2cm}}$
  - e) 78 000 400  $\underline{\hspace{2cm}}$