

Nom – Prénom : _____

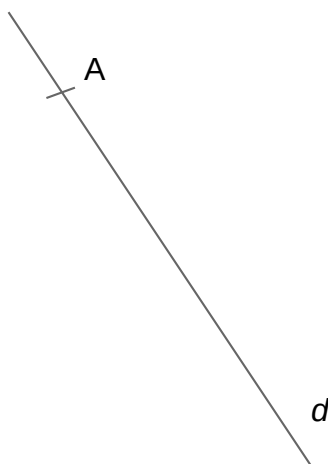
MATHÉMATIQUES

Géométrie et Espace CM2 - «Je m'entraîne»

| JE M'ENTRAÎNE | COMPÉTENCE | CODE |
|---------------|------------------------------------------------------|------|
| GE2 | Je trace des droites perpendiculaires et parallèles. | |

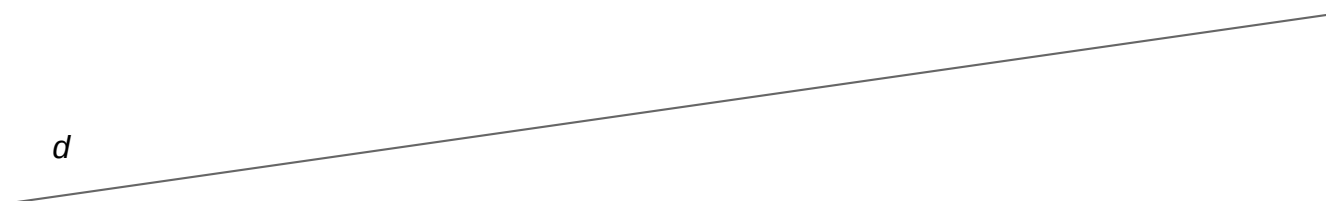
Exercice 1 :

Trace la droite e qui est perpendiculaire à la droite d et qui passe par le point A.



Exercice 2 :

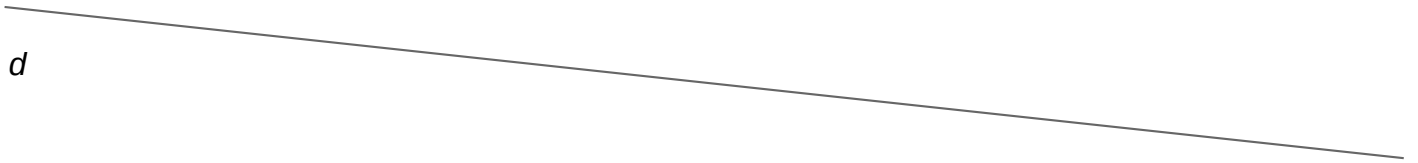
Trace la droite f qui est perpendiculaire à la droite d et qui passe par le point B.



Exercice 3 :

Trace deux droites g_1 et g_2 parallèles à la droite d .

L'écartement entre chacune des deux droites et la droite d doit être de 2 cm.




Exercice 4 :

Trace la droite h parallèle à la droite d et qui passe par le point C.



Exercice 5 :





Trace la droite i parallèle à la droite d et qui passe par le point D.



Nom – Prénom : _____

MATHÉMATIQUES

Géométrie et Espace CM2 - «Je m'entraîne»

| | | | | |
|---------------------|-----------------------------------------------------------------------------------|-----------------------------------------------------------------------------------|-------------------------------------------------------------------------------------|-------------------------------------------------------------------------------------|
| Nombre de réussites | 6 | 5 | 2 | 2 < |
| Code de validation |  |  |  |  |

| JE M'ENTRAÎNE | COMPÉTENCE | CODE |
|---------------|------------------------------------------------------|------|
| GE2 | Je trace des droites perpendiculaires et parallèles. | |

Exercice 1 :