





Exercices «Je progresse»

Géométrie et Espace – CM2


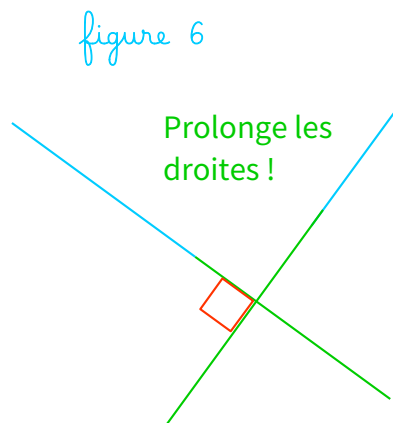
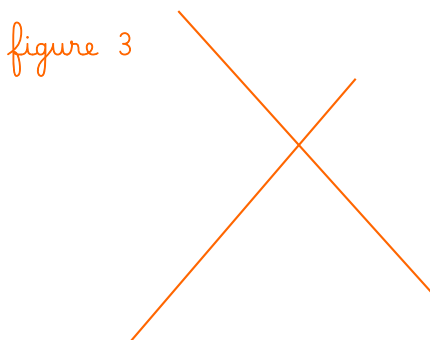
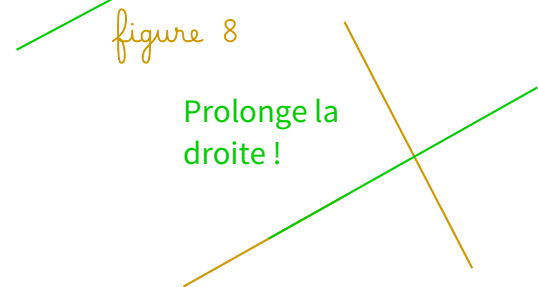
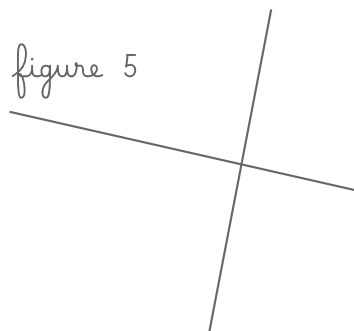
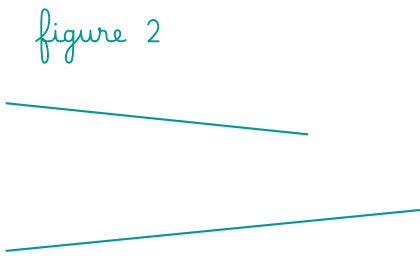
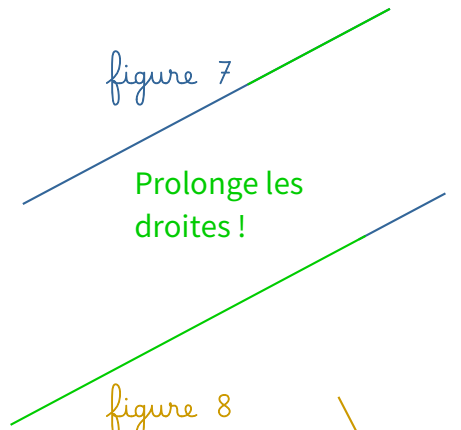
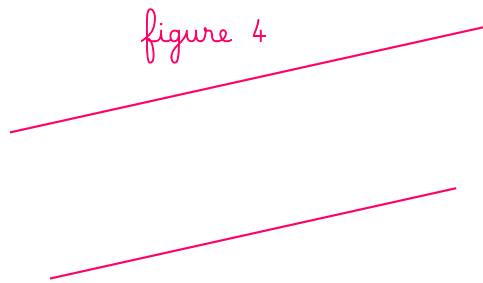
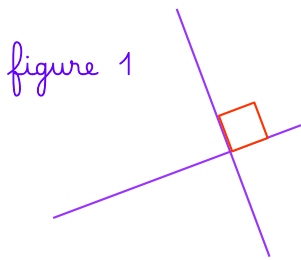
Nombre de réussites	13	entre 12 et 10	entre 9 et 5	5 <
Code de validation				

JE PROGRESSE	COMPÉTENCE	CODE
GE1	Je reconnais et je nomme les droites perpendiculaires et parallèles.	

Exercice 1 :

a. b. Utilise ta réquerre. Quelles sont les figures où les droites sont :

 sécantes : **2, 3, 5, 8, 9**
  perpendiculaires : **1 et 6**
  parallèles : **4 et 7**



Exercice 2 : Rédige des phrases pour décrire les droites perpendiculaires et les droites parallèles de cette figure.

Exemple :

Les droites a et c sont perpendiculaires à la droite b.

Les droites a et c sont parallèles.

La droite e est perpendiculaire aux droites f et g.

Les droites f et g sont parallèles.

