

## Exercices «Je progresse»

### Géométrie et Espace – CM2

JE PROGRESSE	COMPÉTENCE	CODE
GE1	Je reconnais et je nomme les droites perpendiculaires et parallèles.	



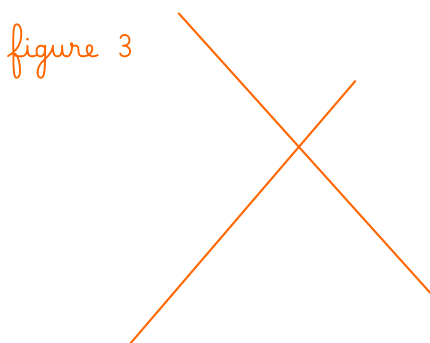

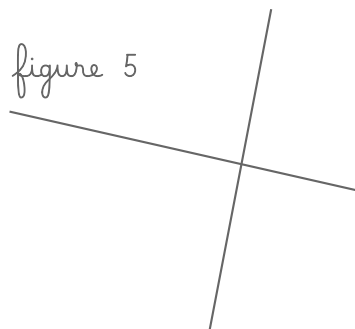


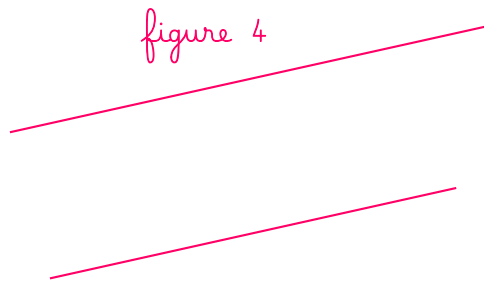

### Exercice 1 :

**a. À vue d'œil, quelles sont les figures où les droites te semblent :**

👁️ sécantes : ..... 👁️ perpendiculaires : ..... 👁️ parallèles : .....

**b. Utilise ta réquerre. Quelles sont les figures où les droites sont :**

📐 sécantes : ..... 📐 perpendiculaires : ..... 📐 parallèles : .....



**Exercice 2 :** Rédige des phrases pour décrire les droites perpendiculaires et les droites parallèles de cette figure.

Exemple :

La droite ... est perpendiculaire à la droite ... / Les droites ... et ... sont perpendiculaires.

---

---

---

---

---

---

---

---

---

---

---

---

---

---

---

---

