

Exercices Autocorrectifs « Je progresse »

Géométrie et Espace – CM2

JE PROGRESSE	COMPÉTENCE	CODE
GE2	Je trace des droites parallèles et perpendiculaires.	

Exercice 1 : Trace la droite (d) parallèle à la droite (q), distante de 2 cm.



Exercice 2 :

a. Trace une droite (d).

Place un point A extérieur à la droite (d).

Trace une droite (f) perpendiculaire à (d) qui passe par A.

Trace une droite (g), perpendiculaire à la droite (f) et qui passe par A.

b. Que peux-tu dire des droites (e), (f) et (g) ?.....

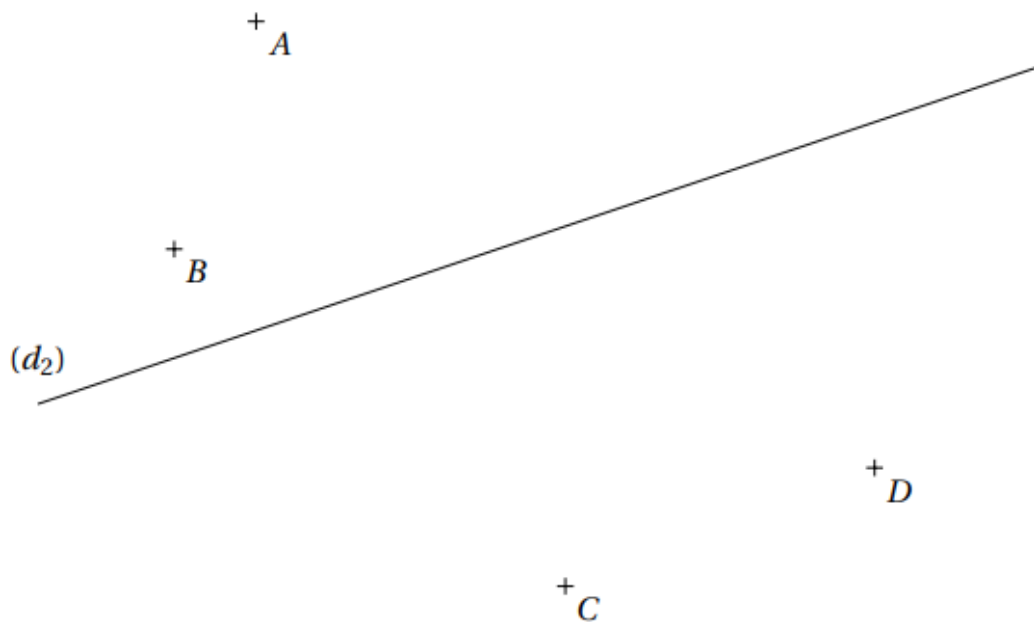
JE PROGRESSE	COMPÉTENCE	CODE
GE2	Je trace des droites parallèles et perpendiculaires.	

Exercice : a. Trace la droite (d3) perpendiculaire à (d2) et qui passe par C.

Trace la droite (d4) perpendiculaire à (d2) et qui passe par D.

Trace la droite (d5) parallèle à (d2) et qui passe par B.

Trace la droite (d6) parallèle à (d2) et qui passe par A.



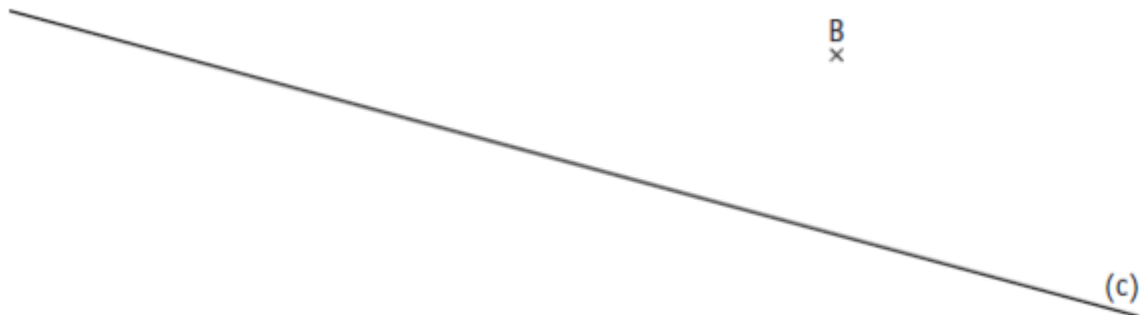
b. Que peux-tu dire des droites (d3) et (d5) ?.....

JE M'EVALUE	COMPÉTENCE	CODE
GE2	Je trace des droites parallèles et perpendiculaires.	

Exercice 1 : Trace une droite (d) perpendiculaire à la droite (d₁) passant par le point A.




Exercice 2 : Trace la droite (d) parallèle à la droite (c) et passant par le point B.



Exercice 3 : Trace la figure suivante.

- a. Trace une droite (a) perpendiculaire à la droite (d) passant par le point A.
- b. Place un point B (qui n'est pas sur les droites) et trace la droite (b) perpendiculaire à la droite (d) passant par le point B.



- c. Que peux-tu dire des droites (a) et (b) ?