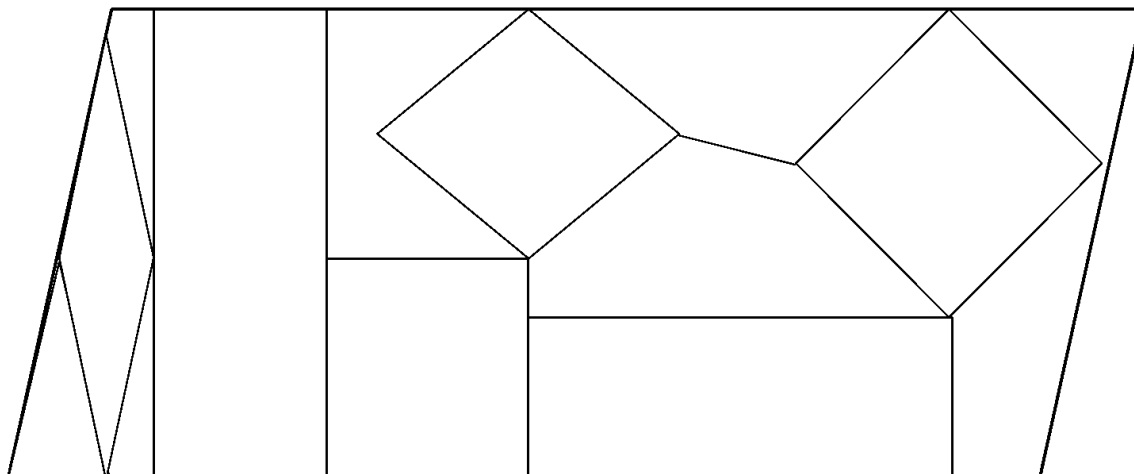


Géométrie - CM1

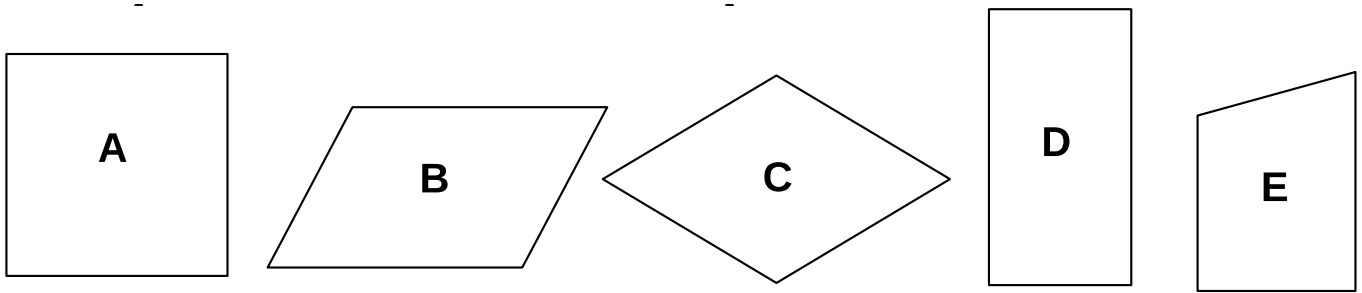
JE PROGRESSE	COMPÉTENCE	CODE
GE5	Je reconnais, décris et trace des quadrilatères.	

Exercice 1 : Réponds par vrai ou faux aux affirmations.

	Vrai	Faux
Un carré est un quadrilatère.		
Un rectangle est un polygone.		
Les côtés opposés d'un rectangle ont même longueur.		
La longueur d'un rectangle est le plus court de des côtés.		
Un carré est un losange particulier.		
Un losange est un carré particulier.		
Un carré est un rectangle particulier.		
Les diagonales du losange se coupent en leur milieu.		
Les diagonales du carré se coupent en formant un angle droit.		
Tous les côtés du rectangle sont égaux.		
Tous les côtés du losange sont égaux.		

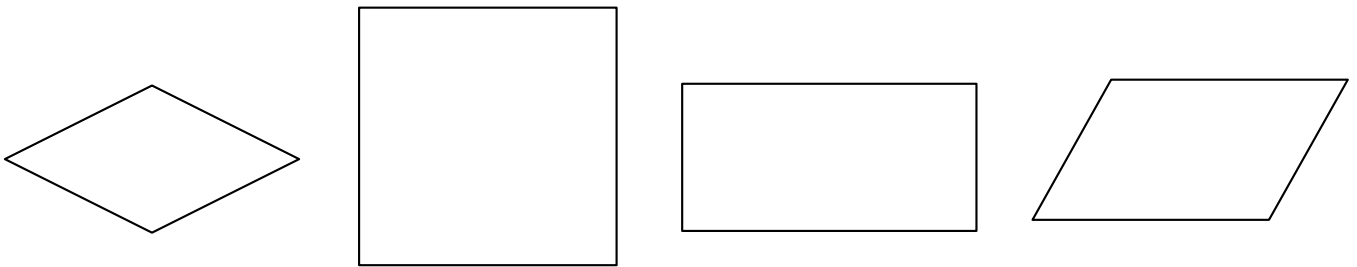
Exercice 2 : Colorie les carrés en bleu, les rectangles (non carrés) en rouge, les losanges (non carrés) en jaune.

Exercice 3 : Complète le tableau en mettant des croix dans le ou les bonnes colonnes.



	A	B	C	D	E
Ses côtés sont tous de la même longueur.					
Ses côtés sont de la même longueur 2 à 2.					
Ses côtés sont parallèles 2 à 2.					
Les diagonales sont de même longueur.					
Les diagonales se coupent en leur milieu.					
Les diagonales sont perpendiculaires.					

Exercice 4 : Ecris un court texte pour faire deviner la figure que tu as choisi à ton camarade



.....

.....

.....

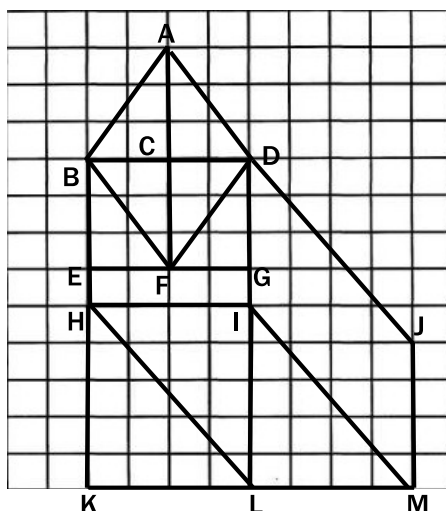
.....

Géométrie - CM1

JE PROGRESSE	COMPÉTENCE	CODE
GE5	Je reconnais, décris et trace des quadrilatères.	

Exercice 1 : Réponds par vrai ou faux aux affirmations.

	Vrai	Faux
Un carré est un quadrilatère.		
Un rectangle est un polygone.		
Les côtés opposés d'un rectangle ont même longueur.		
La longueur d'un rectangle est le plus court de ses côtés.		
Un carré est un losange particulier.		
Un losange est un carré particulier.		
Un carré est un rectangle particulier.		
Les diagonales du losange se coupent en leur milieu.		
Les diagonales du carré se coupent en formant un angle droit.		
Tous les côtés du rectangle sont égaux.		
Tous les côtés du losange sont égaux.		

Exercice 2 : Complète ces affirmations et justifie ta réponse.

HILK est un car
.....

BDGE est un car
.....

ABDF est un car
.....

HIML est un car
.....

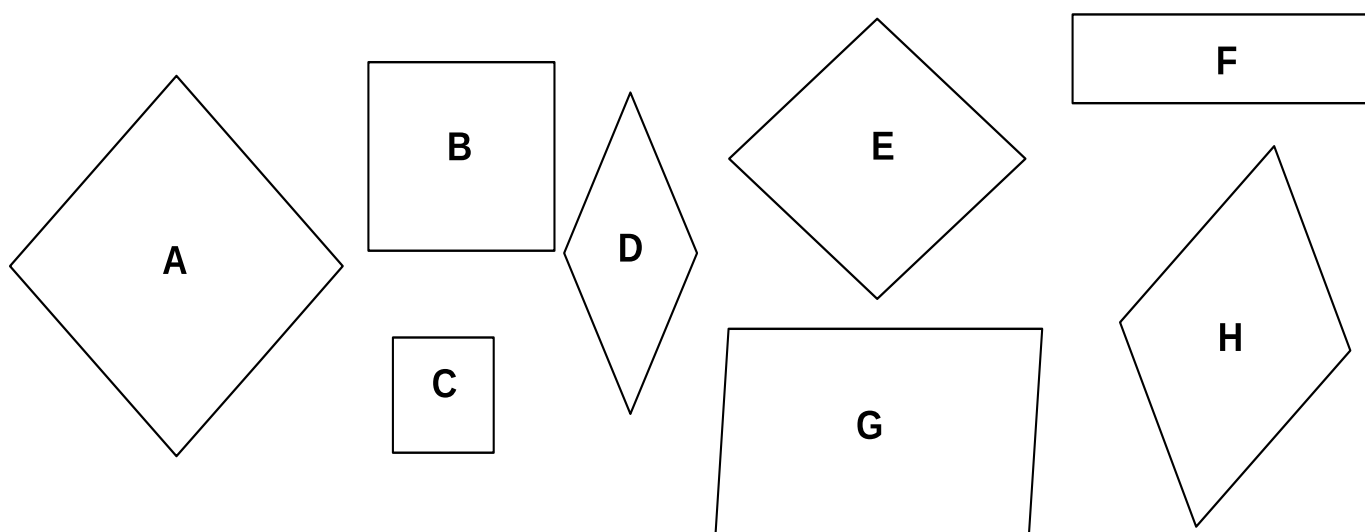
BDIH est un car
.....

Géométrie - CM1

JE M'EVALUE	COMPÉTENCE	CODE
GE5	Je reconnais, décris et trace des quadrilatères.	

Exercice 1 :

a. Classe ces figures dans la bonne colonne.



CARRES	RECTANGLES	LOSANGES

b. Décris les figures le plus précisément possible :

Figure D :

.....

.....

Figure F :

.....

.....

Exercice 2 : Trace les figures géométriques demandées.

➤ Trace un rectangle de 4 cm de largeur et de 7 cm de longueur.

➤ Trace un carré de 6 cm de côté.